

VRSTEVNICE FUNKCE, OTEVŘENÉ A UZAVŘENÉ MNOŽINY

Určete a nakreslete definiční obor a vrstevnice funkcí:

- | | |
|---|---|
| <p>1. $f(x, y) = x + \sqrt{y}$</p> <p>3. $f(x, y) = \frac{y}{x}$</p> <p>5. $f(x, y) = \sqrt{xy}$</p> <p>7. $f(x, y) = x + y$</p> <p>9. $f(x, y) = \operatorname{sgn}(\sin x \cdot \sin y)$</p> <p>10. $f(x, y) = \sqrt{(x^2 + y^2 - 1)(4 - x^2 - y^2)}$</p> | <p>2. $f(x, y) = x^2 + y^2$</p> <p>4. $f(x, y) = x^2 - y^2$</p> <p>6. $f(x, y) = \sqrt{1 - x^2 - y^2}$</p> <p>8. $f(x, y) = \sqrt{\sin(x^2 + y^2)}$</p> |
|---|---|

- 11.* Necht' $a, b \in \mathbb{R}^*$, $a \leq b$. Ukažte, že množina (a, b) je otevřená.
- 12.* Necht' $a, b \in \mathbb{R}$, $a \leq b$. Ukažte, že množina $\langle a, b \rangle$ je uzavřená.
- 13.* Necht' $M \subset \mathbb{R}^n$. Dokažte, že množina M je uzavřená právě tehdy, když platí $\overline{M} = M$.

Rozhodněte, zda následující množiny jsou otevřené eventuálně uzavřené a určete vnitřek, uzávěr, hranici.

- | | |
|--|---|
| 14.* $A_1 = \mathbb{Q}$ | 15.* $A_2 = \mathbb{N}$ |
| 16.* $A_3 = \{1/n; n \in \mathbb{N}\}$ | 17. $A_4 = \{[x, y] \in \mathbb{R}^2; x > 0, y \leq 0\}$ |
| 18. $A_5 = \{[x, y] \in \mathbb{R}^2; x^2 + y^2 < 1\}$ | 19. $A_6 = \{[x, y] \in \mathbb{R}^2; x^2 + y^2 \geq 1\}$ |
| 20. $A_7 = \{[x, y] \in \mathbb{R}^2; x^2 + e^y > 17\}$ | |
| 21. $A_8 = \{[x, y] \in \mathbb{R}^2; x^2 + y^2 + 2xy = 5\}$ | |
| 22. $A_9 = \{[x, y, z] \in \mathbb{R}^3; x \geq 0, y > 0, x + y = 2, z \leq 0\}$ | |

- 23.* Určete uzávěr, hranici a vnitřek množiny $M = \{(x, y) \in \mathbb{R}^2; |x + y| - x - y > 0\}$.
- 24.* Necht' $G \subset \mathbb{R}^n$ je otevřená množina, $f: G \rightarrow \mathbb{R}$ a $\alpha \in \mathbb{R}$. Potom jsou množiny

$$\{x \in G; f(x) > \alpha\} \quad \text{a} \quad \{x \in G; f(x) < \alpha\}$$

otevřené.

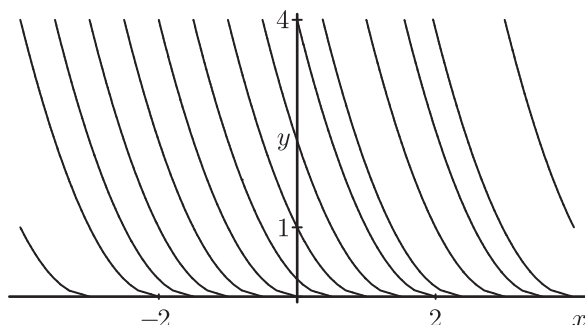
- 25.* Necht' $F \subset \mathbb{R}^n$ je uzavřená množina, $f: G \rightarrow \mathbb{R}$ a $\alpha \in \mathbb{R}$. Potom jsou množiny

$$\{x \in F; f(x) \geq \alpha\}, \quad \{x \in F; f(x) \leq \alpha\} \quad \text{a} \quad \{x \in F; f(x) = \alpha\}$$

uzavřené.

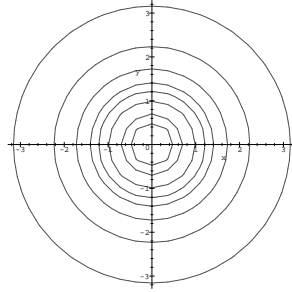
NĚKTERÉ VÝSLEDKY

1.

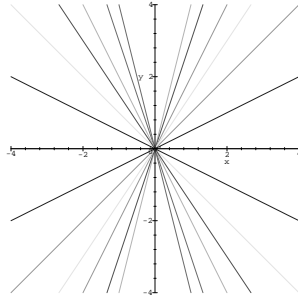


2.

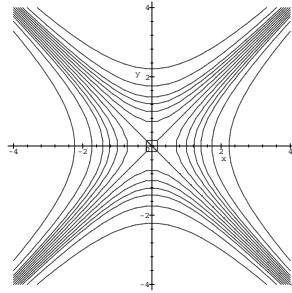
2.



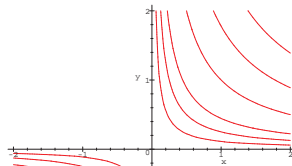
3.




4.



5.



9.



14. A_1 není ani otevřená ani uzavřená, $\text{int } A_1 = \emptyset$, $\overline{A_1} = \mathbf{R}$, $H(A_1) = \mathbf{R}$ 15. A_2 je uzavřená a není otevřená, $\text{int } A_2 = \emptyset$, $\overline{A_2} = \mathbf{N}$, $H(A_2) = \mathbf{N}$ 16. A_3 není otevřená ani uzavřená,

$\text{int } A_3 = \emptyset$, $\overline{A_3} = A_3 \cup \{0\}$, $H(A_3) = A_3 \cup \{0\}$ **17.** A_4 není otevřená ani uzavřená, $\text{int } A_4 = (0, +\infty) \times (-\infty, 0)$, $\overline{A_4} = \langle 0, +\infty \rangle \times (-\infty, 0)$, $H(A_4) = \{0\} \times (-\infty, 0) \cup \langle 0, +\infty \rangle \times \{0\}$ **18.** A_5 je otevřená a není uzavřená, $\text{int } A_5 = A_5$, $\overline{A_5} = \{[x, y] \in \mathbf{R}^2; x^2 + y^2 \leq 1\}$, $H(A_5) = \{[x, y] \in \mathbf{R}^2; x^2 + y^2 = 1\}$
19. A_6 není otevřená a je uzavřená, $\text{int } A_6 = \{[x, y] \in \mathbf{R}^2; x^2 + y^2 > 1\}$, $\overline{A_6} = A_6$, $H(A_6) = \{[x, y] \in \mathbf{R}^2; x^2 + y^2 = 1\}$ **20.** A_7 je otevřená a není uzavřená, $\text{int } A_7 = A_7$, $\overline{A_7} = \{[x, y] \in \mathbf{R}^2; x^2 + e^y \geq 17\}$, $H(A_7) = \{[x, y] \in \mathbf{R}^2; x^2 + e^y = 17\}$ **21.** A_8 není otevřená a je uzavřená, $\text{int } A_8 = \emptyset$, $\overline{A_8} = A_8$, $H(A_8) = A_8$ **22.** A_9 není otevřená ani uzavřená, $\text{int } A_9 = \emptyset$, $\overline{A_9} = \{[x, y, z] \in \mathbf{R}^3; x \geq 0, y \geq 0, x + y = 2, z \leq 0\}$, $H(A_9) = \overline{A_9}$ **23.** $\text{int } M = M$, $\overline{M} = \{[x, y] \in \mathbf{R}^2; x + y \leq 0\}$, $H(M) = \{[x, y] \in \mathbf{R}^2; x + y = 0\}$