

I. ROZHODNĚTE, ZDA NÁSLEDUJÍCÍ MNOŽINY JSOU OTEVŘENÉ EV. UZAVŘENÉ

A URČETE VNITŘEK, UZÁVĚR, HRANICI

1. (a) \mathbb{Q} (b) \mathbb{N} (c) $\{\frac{1}{n} \mid n \in \mathbb{N}\}$ (d) $(-\infty, 0) \cup \{x \in \mathbb{Q} \mid x > 0\}$ 2. $\{(x, y) \in \mathbb{R}^2 \mid x > 0, y \leq 0\}$
 3. $\{(x, y) \in \mathbb{R}^2 \mid x^2 + y^2 < 1\}$ 4. $\{(x, y) \in \mathbb{R}^2 \mid x^2 + y^2 \geq 1\}$ 5. $\{(x, y) \in \mathbb{R}^2 \mid x^2 + e^y > 17\}$
 6. $\{(x, y) \in \mathbb{R}^2 \mid |x + y| > x + y\}$ 7. $\{(x, y) \in \mathbb{R}^2 \mid |x - y| = x - y\}$
 8. $\{(x, y) \in \mathbb{R}^2 \mid x^2 + y^2 + 2xy = 5\}$ 9. $\{(x, y, z) \in \mathbb{R}^3 \mid x \geq 0, y > 0, x + y = 2, z \leq 0\}$

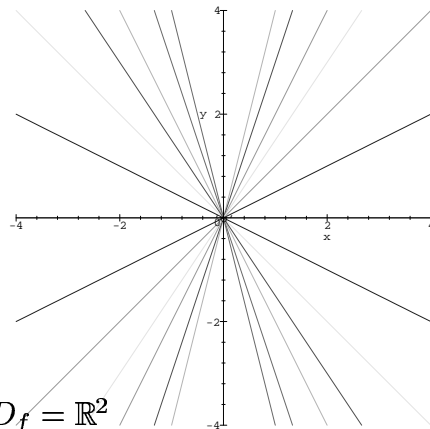
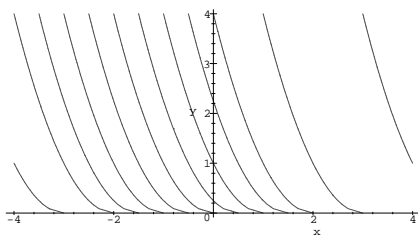
URČETE (A NAKRESLETE) DEFINIČNÍ OBOR A VRSTEVNICE FUNKCÍ

10. $f(x, y) = x + \sqrt{y}$ 11. $f(x, y) = \frac{y}{x}$ 12. $f(x, y) = x^2 + y^2$ 13. $f(x, y) = x^2 - y^2$
 14. $f(x, y) = \sqrt{xy}$ 15. $f(x, y) = \sqrt{1 - x^2 - y^2}$ 16. $f(x, y) = \frac{1}{\sqrt{x^2 + y^2 - 1}}$
 17. $f(x, y) = \sqrt{(x^2 + y^2 - 1)(4 - x^2 - y^2)}$ 18. $f(x, y) = \sqrt{1 - (x^2 + y^2)^2}$
 19. $f(x, y) = \sqrt{\sin(x^2 + y^2)}$ 20. $f(x, y) = \text{sgn}(\sin x \cdot \sin y)$ 21. $f(x, y) = |x| + y$

VÝSLEDKY A NÁVODY. 1. (a) $\text{int } \mathbb{Q} = \emptyset, H(\mathbb{Q}) = \overline{\mathbb{Q}} = \mathbb{R}, \mathbb{Q}$ není otevřená ani uzavřená. (b) \mathbb{N} je uzavřená, $\text{int } \mathbb{N} = \emptyset, H(\mathbb{N}) = \overline{\mathbb{N}} = \mathbb{N}$ (c) Množina není uzavřená ani otevřená, vnitřek je prázdný, hranice i uzávěr jsou $\{\frac{1}{n} \mid n \in \mathbb{N}\} \cup \{0\}$. (d) Ani otevřená, ani uzavřená, vnitřek $(-\infty, 0)$, uzávěr \mathbb{R} , hranice $[0, \infty)$. 2. Množina není uzavřená ani otevřená. Vnitřek je $\{(x, y) \in \mathbb{R}^2 \mid x > 0, y < 0\}$, uzávěr $\{(x, y) \in \mathbb{R}^2 \mid x \leq 0, y \leq 0\}$, hranice $\{(x, y) \in \mathbb{R}^2 \mid x \leq 0 \ \& \ y \leq 0 \ \& \ (x = 0 \vee y = 0)\}$. 3. Otevřená, uzávěr $\{(x, y) \in \mathbb{R}^2 \mid x^2 + y^2 \leq 1\}$, hranice $\{(x, y) \in \mathbb{R}^2 \mid x^2 + y^2 = 1\}$. 4. Uzavřená, vnitřek $\{(x, y) \in \mathbb{R}^2 \mid x^2 + y^2 > 1\}$, hranice $\{(x, y) \in \mathbb{R}^2 \mid x^2 + y^2 = 1\}$. 5. Otevřená, hranice $\{(x, y) \in \mathbb{R}^2 \mid x^2 + e^y = 17\}$, uzávěr $\{(x, y) \in \mathbb{R}^2 \mid x^2 + e^y \leq 17\}$ 6. Otevřená, uzávěr $\{(x, y) \mid x + y \leq 0\}$, hranice $\{(x, y) \mid x + y = 0\}$. 7. Uzavřená, vnitřek $\{(x, y) \mid x + y > 0\}$, hranice $\{(x, y) \mid x + y = 0\}$. 8. Uzavřená, prázdný vnitřek. 9. Ani uzavřená ani otevřená, vnitřek prázdný, hranice i uzávěr $\{(x, y, z) \in \mathbb{R}^3 \mid x \geq 0, y \geq 0, x + y = 2, z \leq 0\}$.

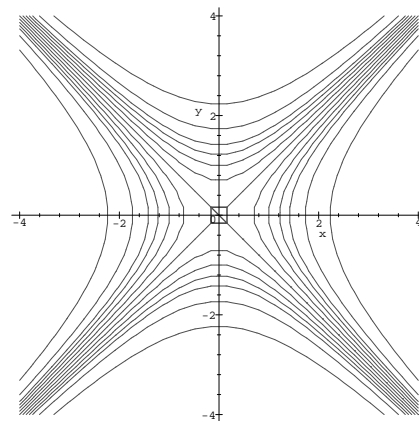
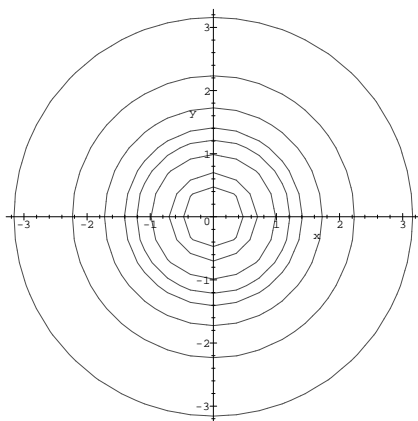
10. $D_f = \{(x, y) \in \mathbb{R}^2 \mid y \geq 0\}$

11. $D_f = \{(x, y) \in \mathbb{R}^2 \mid x \neq 0\}$



12. $D_f = \mathbb{R}^2$


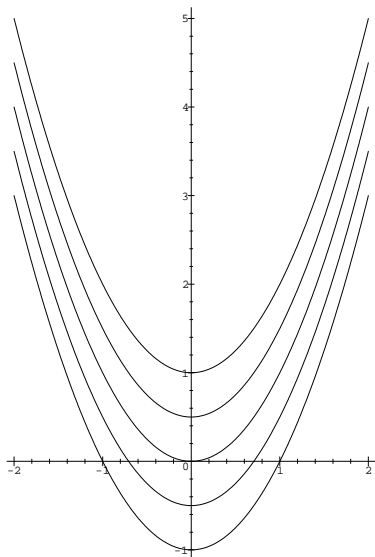
13. $D_f = \mathbb{R}^2$



14. $D_f = \{(x, y) \mid (x \geq 0 \ \& \ y \geq 0) \vee (x \leq 0 \ \& \ y \leq 0)\}$, vrstevnice jsou hyperboly tvaru $y = \frac{c}{x}$ pro $c > 0$ spolu s dvojicí os. **15.** $D_f = \{(x, y) \mid x^2 + y^2 \leq 1\}$, vrstevnice jsou kružnice. **16.** $D_f = \{(x, y) \mid x^2 + y^2 > 1\}$, vrstevnice jsou kružnice. **17.** $D_f = \{(x, y) \mid 1 \leq x^2 + y^2 \leq 4\}$, vrstevnice jsou dvojice kružnic, v jednom případě kružnice. **18.** $D_f = \{(x, y) \mid x^2 - 1 \leq y \leq x^2 + 1\}$, vrstevnice jsou dvojice parabol, v jednom případě parabola. **19.** $D_f = \{(x, y) \mid 2k\pi \leq x^2 + y^2 \leq (2k + 1)\pi \text{ pro nějaké } k = 0, 1, 2, \dots\}$, vrstevnice jsou posloupnosti kružnic. **20.** $D_f = \mathbb{R}^2$, jsou tři vrstevnice - vnitřky černých čtverců, vnitřky bílých čtverců a hraniční přímky.

Ad 18.

Ad 20.



II. SPOČTĚTE PARCIÁLNÍ DERIVACE, URČETE TOTÁLNÍ DIFERENCIÁL

A ROVNICI TEČNÉ ROVINY KE GRAFU FUNKCE V PŘÍSLUŠNÝCH BODECH

- 1.** $x^m y^n$; a) (0,0) b) (1,1) **2.** e^{xy} ; a) (0,0) b) (0,1) c) (1,1)
3. $xy + yz + zx$; a) (0,0,0) b) (0,0,5) c) (1,2,3) **4.** $\sqrt{x^2 + y^2}$; a) (3,4) b) (0,5)
5. $\sqrt[3]{x^3 + y^3 + z^3}$; a) (0,1,1) b) (3,4,5) **6.** $\left(\frac{x}{y}\right)^z$; a) (1,1,0) b) (1,1,1)
7. $x^{\frac{y}{z}}$; a) (1,0,1) b) (1,1,1) c) (1,2,2) **8.** x^{y^z} ; a) (1,1,1) b) (1,1,-1) c) (1,2,3)

VÝSLEDKY A NÁVODY. **1.** (a) $Df(0,0)(h,k) = 0$, tečná rovina $z = 0$; (b) $Df(1,1)(h,k) = mh + nk$, tečná rovina $z - 1 = m(x - 1) + n(y - 1)$; **2.** (a) $Df(0,0)(h,k) = 0$, tečná rovina $z = 1$; (b) $Df(0,1)(h,k) = h$, tečná rovina $z = 1 + x$; (c) $Df(1,1)(h,k) = eh + ek$, tečná rovina $z - e = e(x - 1) + e(y - 1)$; **3.** (a) $Df(0,0,0)(h,k,l) = 0$, tečná nadrovina $w = 0$; (b) $Df(0,0,5)(h,k,l) = 5h + 5k$, tečná nadrovina $w = 5x + 5y$; (c) $Df(1,2,3)(h,k,l) = 5h + 4k + 3l$, tečná nadrovina $w - 11 = 5(x - 1) + 4(y - 2) + 3(z - 3)$; **4.** (a) $Df(3,4)(h,k) = \frac{3}{5}h + \frac{4}{5}k$, tečná rovina $z - 5 = \frac{3}{5}(x - 3) + \frac{4}{5}(y - 4)$; (b) $Df(0,5)(h,k) = k$, tečná rovina $z = y$; **5.** (a) $Df(0,1,1)(h,k,l) = \frac{1}{\sqrt[3]{4}}(k + l)$, tečná nadrovina $w - \sqrt[3]{2} = \frac{1}{\sqrt[3]{4}}(y - 1) + \frac{1}{\sqrt[3]{4}}(z - 1)$; (b) $Df(3,4,5)(h,k,l) = \frac{1}{4}h + \frac{4}{9}k + \frac{25}{36}l$, tečná nadrovina $w - 6 = \frac{1}{4}(x - 3) + \frac{4}{9}(y - 4) + \frac{25}{36}(z - 5)$; **6.** (a) $Df(1,1,0)(h,k,l) = 0$, tečná nadrovina $w = 1$; (a) $Df(1,1,1)(h,k,l) = h - k$, tečná nadrovina $w - 1 = (x - 1) - (y - 1)$; **7.** (a) $Df(1,0,1)(h,k,l) = 0$, tečná nadrovina $w = 1$; (b) $Df(1,1,1)(h,k,l) = h$, tečná nadrovina $w = x$; (c) $Df(1,2,2)(h,k,l) = h$, tečná nadrovina $w = x$; **8.** (a) $Df(1,1,1)(h,k,l) = h$, tečná nadrovina $w = x$; (b) $Df(1,1,-1)(h,k,l) = h$, tečná nadrovina $w = x$; (c) $Df(1,2,3)(h,k,l) = 8h$, tečná nadrovina $w - 1 = 8(x - 1)$;

III. V NÁSLEDUJÍCÍCH ÚLOHÁCH ZJISTĚTE sup A inf FUNKCE NA MNOŽINĚ M A VYŠETŘETE,

ZDA TĚCHTO HODNOT FUNCE NA M NABÝVÁ.

1. $f(x, y, z) = (x + y)^2 + (x - y)^2 + z; M = [-1; 1] \times [-1; 1] \times [-1; 1];$
2. $f(x, y) = \frac{x}{a} + \frac{y}{b}, a > 0, b > 0; M = \{(x, y); x^2 + y^2 \leq 1\};$
3. $f(x, y, z) = x^2 + y^2 + z^2 + 2x + 4y - 6z; M = \mathbb{R}^3;$ 4. $f(x, y) = (x^2 + y^2) e^{-(x^2 + y^2)}; M = \mathbb{R}^2;$
5. $f(x, y) = x^2 - xy + y^2, M = \{(x, y) \in \mathbb{R}^2; |x| + |y| \leq 1\}$
6. $f(x, y) = (x + y) e^{-2x - 3y}; M = \{(x, y); x > 0, y > 0\}$
7. $f(x, y) = (x^2 + 5y^2) e^{-(3x^2 + y^2)}; M = \mathbb{R}^2;$
8. $f(x, y, z) = x^2 + y^2 + z^2; M = \{(x, y, z); \frac{x^2}{a^2} + \frac{y^2}{b^2} + \frac{z^2}{c^2} \leq 1\}; a > b > c > 0.$
9. $z(x, y) = x^2 + y^2, M = \{(x, y), x^2 + 4y^2 = 1\}$
10. $z(x, y) = x^2 + 12xy + 2y^2; M = \{(x, y), 4x^2 + y^2 = 1\}$
11. Určete rozměry vodní nádrže ve tvaru kvádrů o objemu $32m^3$ tak, aby dno a stěny měly dohromady nejmenší povrch.

- VÝSLEDKY A NÁVODY. 1. max 5 v bodech $(1, 1, 1), (1, -1, 1), (-1, 1, 1), (-1, -1, 1)$, min -1 v bodě $(0, 0, -1)$ 2. max $\frac{\sqrt{a^2 + b^2}}{ab}$ v bodě $(\frac{b}{\sqrt{a^2 + b^2}}, \frac{a}{\sqrt{a^2 + b^2}})$, min $-\frac{\sqrt{a^2 + b^2}}{ab}$ v bodě $(-\frac{b}{\sqrt{a^2 + b^2}}, -\frac{a}{\sqrt{a^2 + b^2}})$
3. sup $+\infty$, min -14 v bodě $(-1, -2, 3)$ 4. min 0 v $(0, 0)$, max $\frac{1}{e}$ v bodech kružnice $x^2 + y^2 = 1$.
5. max 1 v bodech $(\pm 1, 0), (0, \pm 1)$, min 0 v $(0, 0)$ 6. sup $\frac{1}{2e}$, nenabývá se, inf 0, nenabývá se
7. max $\frac{5}{e}$ v bodech $(0, \pm 1)$, min 0 v bodě $(0, 0)$ 8. max a^2 v bodech $(\pm a, 0, 0)$, min 0 v $(0, 0, 0)$
9. max 1 v bodech $(\pm 1, 0)$, min $\frac{1}{4}$ v bodech $(0, \pm \frac{1}{2})$ 10. max $\frac{17}{4}$ v bodech $(\frac{3}{10}, \frac{4}{5}), (-\frac{3}{10}, -\frac{4}{5})$, min -2 v bodech $(\frac{2}{5}, -\frac{3}{5}), (-\frac{2}{5}, \frac{3}{5})$ 11. dno $4m \times 4m$, výška $2m$

IV. V NÁSLEDUJÍCÍCH ÚLOHÁCH ZJISTĚTE sup inf FUNKCE f NA MNOŽINĚ M

A VYŠETŘETE, ZDA TĚCHTO HODNOT f NA M NABÝVÁ.

1. $f(x, y, z) = x - 2y + 2z,$
a) $M = \{(x, y, z), x^2 + y^2 + z^2 = 1\}$, b) $M = \{(x, y, z), x^2 + y^2 + z^2 = 1, x + y + z = 0\}$
2. $f(x, y, z) = xyz,$
a) $M = \{(x, y, z), x^2 + y^2 + z^2 = 1\}$, b) $M = \{(x, y, z), x^2 + y^2 + z^2 = 1, x + y + z = 0\}$
3. $f(x, y, z) = \sin x \sin y \sin z, M = \{(x, y, z); x + y + z = \frac{\pi}{2}, x > 0, y > 0, z > 0\}$
4. $f(x, y, z) = xy^2z^3, M = \{(x, y, z); x + 2y + 3z = a, x > 0, y > 0\}$, kde $a > 0$.
5. $f(x_1, \dots, x_n) = x_1^p + \dots + x_n^p; M = \{(x_1, \dots, x_n); x_1 + \dots + x_n = a, x_1 > 0, \dots, x_n > 0\}$; kde $a > 0, p > 0$. 6. $f(x, y) = x + y, M = \{(x, y); x^3 + y^3 - 2xy = 0, x \geq 0, y \geq 0\}$
7. $f(x, y, z) = 10z + x - y, M = \{(x, y, z), x^2 + y^2 + z^2 \leq 1, y + x \geq 0\}$ 8. $f(x, y) = \frac{1}{x} + \frac{1}{y}, M = \{(x, y), \frac{1}{x^2} + \frac{4}{y^2} = 1\}$ 9. $f(x, y) = y, M = \{(x, y), (x^2 + y^2)^2 = Kxy\}$, kde $K > 0$

- VÝSLEDKY A NÁVODY. 1. a) max 3 v $(\frac{1}{3}, -\frac{2}{3}, \frac{2}{3})$, min -3 v $(-\frac{1}{3}, \frac{2}{3}, -\frac{2}{3})$; b) max $\sqrt{\frac{26}{3}}$ v $(\frac{2}{\sqrt{78}}, -\frac{7}{\sqrt{78}}, \frac{5}{\sqrt{78}})$, min $-\sqrt{\frac{26}{3}}$ v $(-\frac{2}{\sqrt{78}}, \frac{7}{\sqrt{78}}, -\frac{5}{\sqrt{78}})$; 2. a) max $\frac{1}{3\sqrt{3}}$ v bodech $(\frac{1}{\sqrt{3}}, \frac{1}{\sqrt{3}}, \frac{1}{\sqrt{3}})$, $(-\frac{1}{\sqrt{3}}, -\frac{1}{\sqrt{3}}, \frac{1}{\sqrt{3}})$, $(\frac{1}{\sqrt{3}}, -\frac{1}{\sqrt{3}}, -\frac{1}{\sqrt{3}})$, $(-\frac{1}{\sqrt{3}}, \frac{1}{\sqrt{3}}, -\frac{1}{\sqrt{3}})$; min $-\frac{1}{3\sqrt{3}}$ v bodech $(-\frac{1}{\sqrt{3}}, -\frac{1}{\sqrt{3}}, -\frac{1}{\sqrt{3}})$, $(-\frac{1}{\sqrt{3}}, \frac{1}{\sqrt{3}}, \frac{1}{\sqrt{3}})$, $(\frac{1}{\sqrt{3}}, -\frac{1}{\sqrt{3}}, \frac{1}{\sqrt{3}})$, $(\frac{1}{\sqrt{3}}, \frac{1}{\sqrt{3}}, -\frac{1}{\sqrt{3}})$; b) max $\frac{1}{3\sqrt{6}}$ v bodech $(\frac{2}{\sqrt{6}}, -\frac{1}{\sqrt{6}}, -\frac{1}{\sqrt{6}})$, $(-\frac{1}{\sqrt{6}}, \frac{2}{\sqrt{6}}, -\frac{1}{\sqrt{6}})$, $(-\frac{1}{\sqrt{6}}, -\frac{1}{\sqrt{6}}, \frac{2}{\sqrt{6}})$; min $-\frac{1}{3\sqrt{6}}$ v bodech $(-\frac{2}{\sqrt{6}}, \frac{1}{\sqrt{6}}, \frac{1}{\sqrt{6}})$, $(\frac{1}{\sqrt{6}}, -\frac{2}{\sqrt{6}}, \frac{1}{\sqrt{6}})$, $(\frac{1}{\sqrt{6}}, \frac{1}{\sqrt{6}}, -\frac{2}{\sqrt{6}})$;
3. max $\frac{1}{8}$ v $(\frac{\pi}{6}, \frac{\pi}{6}, \frac{\pi}{6})$, inf 0, nenabývá se 4. max $\frac{a^6}{6^6}$ v $(\frac{a}{6}, \frac{a}{6}, \frac{a}{6})$, inf $-\infty$ 5. pro $p = 1$ je f na M konstantní; pro $p > 1$ je sup a^p , nenabývá se, min $\frac{a^p}{n^{p-1}}$ v $(\frac{a}{n}, \dots, \frac{a}{n})$; pro $p \in (0, 1)$ je inf a^p , nenabývá se, max $\frac{a^p}{n^{p-1}}$ v $(\frac{a}{n}, \dots, \frac{a}{n})$; 6. max 2 v $(1, 1)$, min 0 v $(0, 0)$ 7. max $\sqrt{102}$ v $(\frac{1}{\sqrt{102}}, -\frac{1}{\sqrt{102}}, \frac{10}{\sqrt{102}})$; min $-\sqrt{102}$ v $(-\frac{1}{\sqrt{102}}, \frac{1}{\sqrt{102}}, -\frac{10}{\sqrt{102}})$; 8. max $\frac{\sqrt{5}}{2}$ v $(\frac{\sqrt{5}}{2}, 2\sqrt{5})$; min $-\frac{\sqrt{5}}{2}$ v $(-\frac{\sqrt{5}}{2}, -2\sqrt{5})$; 9. max $\frac{1}{4}\sqrt{k} \cdot 15^{\frac{3}{4}}$ v $(\frac{1}{4}\sqrt{k} \sqrt[4]{15}, \frac{1}{4}\sqrt{k} \cdot 15^{\frac{3}{4}})$; min $-\frac{1}{4}\sqrt{k} \cdot 15^{\frac{3}{4}}$ v $(-\frac{1}{4}\sqrt{k} \sqrt[4]{15}, -\frac{1}{4}\sqrt{k} \cdot 15^{\frac{3}{4}})$.

V. V NÁSLEDUJÍCÍCH ÚLOHÁCH ZJISTĚTE sup A inf FUNKCE NA MNOŽINĚ M A VYŠETŘĚTE, ZDA TĚCHTO HODNOT FUNCE NA M NABÝVÁ.

- $f(x, y, z) = 50x^{\frac{2}{5}}y^{\frac{1}{5}}z^{\frac{1}{5}}$, $M = \{(x, y, z); 80x + 12y + 10z = 24000, x > 0, y > 0, z > 0\}$
- $f(x, y) = y$, $M = \{(x, y); (x^2 + y^2)^2 - 2(x^2 - y^2) = 0\}$
- $f(x, y) = x^2 + y$, $M = \{(x, y); 4y^3 - 4y + x^2 = 0, y \geq 0\}$
- Do elipsy $\frac{x^2}{16} + y^2 = 1$ vepište obdélník největšího obsahu.
- Do elipsoidu $\frac{x^2}{4} + \frac{y^2}{25} + z^2 = 1$ vepište kvádr největšího objemu.
- Najděte bod na jednotkové sféře, pro který je součet duhých mocnin vzdáleností od bodů $(7, 0, 0)$, $(5, 3, 1)$, $(0, 1, 2)$ nejmenší.

VÝSLEDKY A NÁVODY. 1. $\max 500\sqrt[5]{5^4 \cdot 3^3 \cdot 2^2}$ v bodě $(150, 500, 600)$, $\inf 0$, nenabývá se 2. $\max \frac{1}{2}$ v $(\frac{\sqrt{3}}{2}, \frac{1}{2})$ a $(-\frac{\sqrt{3}}{2}, \frac{1}{2})$; $\min -\frac{1}{2}$ v $(\frac{\sqrt{3}}{2}, -\frac{1}{2})$ a $(-\frac{\sqrt{3}}{2}, -\frac{1}{2})$ 3. $\max \frac{5}{3}\sqrt{\frac{5}{3}}$ v bodech $(\sqrt{\frac{7}{6}}\sqrt{\frac{5}{3}}, \frac{1}{2}\sqrt{\frac{5}{3}})$ a $(-\sqrt{\frac{7}{6}}\sqrt{\frac{5}{3}}, \frac{1}{2}\sqrt{\frac{5}{3}})$, $\min -1$ v $(0, -1)$ 4. obdélník o stranách $\sqrt{2}$ a $4\sqrt{2}$ 5. kvádr o hranách $\frac{4}{\sqrt{3}}, \frac{10}{\sqrt{3}}, \frac{2}{\sqrt{3}}$ 6. bod $(\frac{12}{13}, \frac{4}{13}, \frac{3}{13})$

VI. IMPLICITNÍ FUNKCE

- Je dán vztah $e^{xy} + \sin y + y^2 = 1$ a bod $[2, 0]$:
 - Dokažte, že tímto vztahem je definována hladká funkce $y = f(x)$ v jistém okolí bodu 2, pro kterou platí $f(2) = 0$;
 - napište rovnici tečny ke grafu funkce f v bodě 2.
- Je dán vztah $x^2 + 2y^2 + 3z^2 + xy - z - 9 = 0$ a bod $[1, -2, 1]$:
 - Dokažte, že tímto vztahem je definována hladká funkce $z = z(x, y)$ v jistém okolí U bodu $[1, -2]$, pro kterou platí $z(1, -2) = 1$;
 - určete $\frac{\partial z}{\partial x}, \frac{\partial z}{\partial y}$ v okolí U ;
 - napište rovnici tečné roviny ke grafu funkce $z = z(x, y)$ v bodě $[1, -2]$.
- Je dána vztah $x^2 + 2xy^2 + y^4 - y^5 = 0$ a bod $[0, 1]$. Dokažte, že
 - tímto vztahem je definována hladká funkce $y = f(x)$ v jistém okolí bodu 0, pro kterou platí $f(0) = 1$;
 - funkce f roste v jistém okolí bodu 0.
- Dokažte, že množina bodů $(x, y, z) \in \mathbb{R}$, které splňují vztah

$$x^2 + y^2 + z^2 - 3xyz = 0$$

je v okolí bodu $(1, 1, 1)$ popsatelná jako graf funkce $f(x, y)$ definované na jistém okolí bodu $(1, 1)$, pro kterou je $f(1, 1) = 1$. Určete totální diferenciál v bodě $(1, 1)$ a napište rovnici tečné roviny ke grafu funkce f v tomto bodě.

VÝSLEDKY A NÁVODY. 1. tečna: $y = 0$ 2. tečná rovina $z = \frac{7}{5}(y + 2) + 1$ 3. Spočtete $f'(0)$ a ověřte, že $f'(0) > 0$. 4. tečná rovina $z = -(x - 1) - (y - 1) + 1$

VII. URČETE y' A y'' V BODECH, V JEJICHŽ OKOLÍ JE UVEDENOU ROVNICÍ

ZADÁNA DIFERENCOVATELNÁ FUNKCE $y = y(x)$

1. $x^2 + 2xy - y^2 = a^2 \quad a \in \mathbb{R}$ 2. $\log \sqrt{x^2 + y^2} = \operatorname{arctg} \frac{y}{x}$ 3. $y - \varepsilon \sin y = x \quad 0 < \varepsilon < 1$

4. $x^y = y^x$ 5. $y = 2x \operatorname{arctg} \frac{y}{x}$

ZJISTĚTE, V OKOLÍ KTERÝCH BODŮ JE NÁSLEDUJÍCÍM PŘEDPISEM ZADÁNA DIFERENCOVATELNÁ FUNKCE $z = z(x, y)$ A NAJDĚTE JEJÍ PARCIÁLNÍ DERIVACE PRVNÍHO A DRUHÉHO ŘÁDU

6. $\frac{x}{z} = \log \frac{z}{y}$ 7. $xyz = x + y + z$ 8. $F(x + y + z, x^2 + y^2 + z^2) = 0 \quad (\frac{\partial^2 z}{\partial x \partial y})$ (F je třídy C^2)

9. $F(xz, yz) = 0 \quad (\frac{\partial^2 z}{\partial x^2})$ (F je třídy C^2)

*10. Necht' x_0 je jednonásobný kořen rovnice $x^n + a_1 x^{n-1} + \dots + a_n = 0$. Dokažte, že existují $\varepsilon > 0$ a $\delta > 0$ takové, že kdykoli $|b_i - a_i| < \delta$ pro $i = 1, \dots, n$, pak rovnice $x^n + b_1 x^{n-1} + \dots + b_n = 0$ má v intervalu $(x_0 - \varepsilon, x_0 + \varepsilon)$ právě jeden kořen. Spočítejte $\frac{\partial x}{\partial b_i}(a_1, \dots, a_n)$. (Co se stane, bude-li kořen x_0 p -násobný?)

VÝSLEDKY A NÁVODY. 1. $y' = \frac{y+x}{y-x}, (x, y) \neq (\frac{a}{\sqrt{2}}, \frac{a}{\sqrt{2}}), (\frac{-a}{\sqrt{2}}, \frac{-a}{\sqrt{2}})$ 2. $y' = \frac{x+y}{x-y}, (x, y) \neq$

$(\sqrt{2}e^{\frac{\pi}{4}}, \sqrt{2}e^{\frac{\pi}{4}}), (-\sqrt{2}e^{\frac{\pi}{4}}, -\sqrt{2}e^{\frac{\pi}{4}})$ 3. $y' = \frac{1}{1-\varepsilon \cos y}$ 4. $y' = \frac{y}{x} \cdot \frac{x \log y + y}{y \log x + x}, (x, y) \neq (e, e)$ 5.

$y' = \frac{y}{x}$ 6. $\frac{\partial z}{\partial x} = \frac{z}{z+x}, \frac{\partial z}{\partial y} = \frac{z^2}{y(x+z)}$ s výjimkou bodů $(-\frac{y}{e}, y, \frac{y}{e})$ 7. $\frac{\partial z}{\partial x} = \frac{1-yz}{xy-1}, \frac{\partial z}{\partial y} =$

$\frac{1-xz}{xy-1}$ 8. $\frac{\partial^2 z}{\partial x \partial y} = \frac{(z-x)(z-y)(\partial_{11}F \cdot (\partial_2 F)^2 - 2\partial_{12}F \cdot \partial_1 F \cdot \partial_2 F + \partial_{22}F \cdot (\partial_1 F)^2) + 2\partial_2 F \cdot (\partial_1 F + 2x\partial_2 F) \cdot (\partial_1 F + 2y\partial_2 F)}{(\partial_1 F + 2z\partial_2 F)^3},$

$(\partial_1 F + 2z\partial_2 F) \neq 0$ 9. $\frac{\partial^2 z}{\partial x \partial y} = \frac{zy(\partial_{11}F \cdot (\partial_2 F)^2 - 2\partial_{12}F \cdot \partial_1 F \cdot \partial_2 F + \partial_{22}F \cdot (\partial_1 F)^2) + 2z^2(\partial_1 F)^2}{(x\partial_1 F + y\partial_2 F)^3},$

$(x\partial_1 F + y\partial_2 F) \neq 0$ 10. Označme levou stranu $P(x)$. Využijte toho, že fakt, že x_0 je jed-

nonásobný kořen P znamená $P(x_0) = 0$ a $P'(x_0) \neq 0$. $\frac{\partial x}{\partial a_i} = -\frac{x_0^{n-i}}{P'(x_0)}$. (Pro sudé p analogie neplatí, pro liché p zkoumejte $\sqrt[p]{P(x)}$.)

VIII. URČETE HODNOST MATIC (V ZÁVISLOSTI NA PARAMETRU)

1. $\begin{pmatrix} 1 & 2 & 1 & 3 \\ 2 & 4 & 5 & 1 \\ 3 & 6 & 7 & 5 \\ 4 & 8 & 3 & 7 \end{pmatrix}$ 2. $\begin{pmatrix} 1 & 2 & 2 & 3 & 5 \\ 6 & 15 & 12 & 25 & 42 \\ 2 & 5 & 4 & 8 & 14 \\ 1 & -1 & 2 & -4 & -7 \end{pmatrix}$ 3. $\begin{pmatrix} a & 1 & 1 & 1 \\ 1 & a & 1 & a \\ 1 & 1 & a & a^2 \end{pmatrix}$ 4. $\begin{pmatrix} 2(a-1) & (3a+1) & a \\ (1-a) & -2 & -1 \\ a & 2a & a \end{pmatrix}$

5. $\begin{pmatrix} 2(a-1) & (3a+1) & a & 2a \\ (1-a) & -2 & -1 & 2 \\ a & 2a & a & a+1 \end{pmatrix}$ 6. $\begin{pmatrix} 1 & -1 & 0 & -3 \\ 7 & -2 & 2 & -10 \\ 7 & -1 & 1 & -9 \\ 2 & 0 & -2 & -4 \\ 6 & -1 & 2 & -7 \end{pmatrix}$ 7. $\begin{pmatrix} 1 & 1 & 1 & 1 & 1 \\ a & 2 & 1 & 2 & a \\ 5 & 6 & 7 & 1 & 3 \\ 1 & 2 & a & 2 & 1 \\ 1 & 0 & 1 & 0 & 1 \end{pmatrix}$

NAJDĚTE INVERZNÍ MATICE K NÁSLEDUJÍCÍM MATICÍM

8. $\begin{pmatrix} 1 & 2 & -1 \\ 2 & 3 & 0 \\ 0 & -1 & 1 \end{pmatrix}$ 9. $\begin{pmatrix} 1 & 0 & -1 \\ -1 & 1 & 0 \\ 2 & 1 & 3 \end{pmatrix}$ 10. $\begin{pmatrix} 1 & 2 & -3 & 1 \\ 2 & 3 & -1 & 2 \\ 7 & -1 & 4 & 3 \\ 1 & 1 & -2 & -1 \end{pmatrix}$ 11. $\begin{pmatrix} 1 & 2 & -1 & 1 \\ 1 & 0 & 0 & -1 \\ 0 & 1 & 1 & 0 \\ 1 & 2 & 0 & 0 \end{pmatrix}$

VÝSLEDKY A NÁVODY. 1. 3 2. 3 3. 3 pro $a \neq 1$, 1 pro $a = 1$ 4. 3 pro $a \neq 0, -1, 2$, jinak 2 5. 3 pro $a \neq -1$, 2 pro $a = -1$ 6. 3 7. hodnost 4 pro $a \neq 1$, pro $a = 1$ hodnost 3 8.

$\begin{pmatrix} 3 & -1 & 3 \\ -2 & 1 & -2 \\ -2 & 1 & -1 \end{pmatrix}$ 9. $\begin{pmatrix} 1/2 & -1/6 & 1/6 \\ 1/2 & 5/6 & 1/6 \\ -1/2 & -1/6 & 1/6 \end{pmatrix}$ 10. $\begin{pmatrix} 0 & -1/21 & 5/42 & 11/42 \\ -1/2 & 23/42 & -5/42 & 5/21 \\ -1/2 & 13/42 & -1/42 & 1/21 \\ 1/2 & -5/42 & 1/21 & -25/42 \end{pmatrix}$ 11. $\begin{pmatrix} 2 & 2 & 2 & -3 \\ -1 & -1 & -1 & 2 \\ 1 & 1 & 2 & -2 \\ 2 & 1 & 2 & -3 \end{pmatrix}$

IX. SPOČTĚTE DETERMINANTY

$$1. \begin{vmatrix} 1 & -1 & 0 & -3 \\ 7 & -2 & 2 & -10 \\ 7 & -1 & 1 & -9 \\ 2 & 0 & -2 & -4 \\ 6 & -1 & 2 & -7 \end{vmatrix} \quad 2. \begin{vmatrix} 1 & 2 & -1 \\ 2 & 3 & 0 \\ 0 & -1 & 1 \end{vmatrix} \quad 3. \begin{vmatrix} 1 & 0 & -1 \\ -1 & 1 & 0 \\ 2 & 1 & 3 \end{vmatrix} \quad 4. \begin{vmatrix} 1 & 2 & -3 & 1 \\ 2 & 3 & -1 & 2 \\ 7 & -1 & 4 & 3 \\ 1 & 1 & -2 & -1 \end{vmatrix}$$

$$5. \begin{vmatrix} 1 & 2 & -1 & 1 \\ 1 & 0 & 0 & -1 \\ 0 & 1 & 1 & 0 \\ 1 & 2 & 0 & 0 \end{vmatrix} \quad 6. \begin{vmatrix} 1 & 2 & 1 & 3 \\ 2 & 4 & 5 & 1 \\ 3 & 6 & 7 & 5 \\ 4 & 8 & 3 & 7 \end{vmatrix} \quad 7. \begin{vmatrix} 246 & 427 & 327 \\ 1014 & 543 & 443 \\ -342 & 721 & 621 \end{vmatrix}$$

NAJDĚTE ŘEŠENÍ SOUSTAV LINEÁRNÍCH ROVNIC

$$8. \begin{cases} x+2y-z=1 \\ 2x+3y=1 \\ -y+z=1 \end{cases} \quad 9. \begin{cases} x-z=-2 \\ -x+y=1 \\ 2x+y+3z=13 \end{cases} \quad 10. \begin{cases} x_1+2x_2-3x_3+x_4=-5 \\ 2x_1+3x_2-x_3+2x_4=0 \\ 7x_1-x_2+4x_3-3x_4=15 \\ x_1+x_2-2x_3-x_4=-3 \end{cases}$$

$$11. \begin{cases} x_1+2x_2-x_3+x_4=2 \\ x_1-x_4=-1 \\ x_2+x_3=0 \\ x_1+2x_2=-1 \end{cases} \quad 12. \begin{cases} x_1+2x_2+2x_3+3x_4=5 \\ 6x_1+15x_2+12x_3+25x_4=42 \\ 2x_1+5x_2+4x_3+8x_4=14 \\ x_1-x_2+2x_3-4x_4=-7 \end{cases}$$

VÝSLEDKY A NÁVODY. 1. determinant neexistuje, matice není čtvercová. 2. 1 3. 6 4. -84 5. 1 6. 0 7. 29400000 8. $x=5, y=-3, z=-2$ 9. $x=1, y=2, z=3$ 10. $(1, 0, 2, 0)$ 11. $(5, -3, 3, 6)$ 12. nekonečně mnoho řešení tvaru $(-3-2t, 4, t, 0), t \in \mathbb{R}$

X. VYŠETŘETE KONVERGENCI NÁSLEDUJÍCÍCH ŘAD:

$$1. \sum_{k=1}^{\infty} (-1)^k \frac{2k^2+3k+4}{2k^2+4} \quad 2. \sum_{k=1}^{\infty} (-1)^k \frac{2k^2+3k+4}{2k^3} \quad 3. \sum_{k=1}^{\infty} (-1)^k \frac{2k^2+3k+4}{2k^4+3} \quad 4. \sum_{k=1}^{\infty} \frac{2^k}{k!} \quad 5. \sum_{k=1}^{\infty} \frac{(k!)^2}{(2k)!}$$

$$6. \sum_{k=1}^{\infty} (-1)^k \left(\frac{2k+100}{3k+1} \right)^k \quad 7. \sum_{k=1}^{\infty} \sin k \quad 8. \sum_{k=2}^{\infty} \frac{(-1)^k}{2k+(-1)^k} \quad 9. \sum_{k=2}^{\infty} \frac{(-1)^k}{k+(-1)^k} \quad 10. \sum_{k=1}^{\infty} k^{\ln x}, \quad x \in \mathbb{R}$$

$$11. \sum_{k=2}^{\infty} \frac{\sqrt{k+2}-\sqrt{k-2}}{k^\alpha}, \quad \alpha \in \mathbb{R} \quad 12. \sum_{k=1}^{\infty} \frac{x^k}{1+x^{2k}}, \quad x \in \mathbb{R} \quad 13. \sum_{k=0}^{\infty} \frac{x^{k^2}}{2^k}, \quad x \in \mathbb{R} \quad 14. \sum_{k=1}^{\infty} \sin(\pi\sqrt{k^2+1})$$

VÝSLEDKY A NÁVODY. 1. Diverguje. 2. Konverguje neabsolutně. 3. Konverguje absolutně. 4. Konverguje absolutně. 5. Konverguje absolutně. 6. Konverguje absolutně. 7. Diverguje. 8. Konverguje neabsolutně. 9. Konverguje neabsolutně. 10. Pro $0 < x < \frac{1}{e}$ konverguje absolutně, jinak diverguje (pro $x \leq 0$ nemá smysl). 11. Pro $\alpha > \frac{1}{2}$ konverguje absolutně, jinak diverguje. 12. Konverguje absolutně pro $x \neq \pm 1$, diverguje pro $x = \pm 1$. 13. Konverguje absolutně pro $|x| \leq 1$, jinak diverguje. 14. Konverguje neabsolutně.

XI. VYŠETŘETE KONVERGENCI NÁSLEDUJÍCÍCH ŘAD

$$1. \sum_{k=1}^{\infty} \frac{k^7}{2^k+3^k} \quad 2. \sum_{k=1}^{\infty} \frac{\sqrt[3]{k^2+7}-\sqrt[3]{k^2+3}}{\sqrt[4]{k}} \quad 3. \sum_{k=1}^{\infty} \cos(k^2\pi) (\sqrt{k+11}-\sqrt{k+2}) \quad 4. \sum_{k=1}^{\infty} (-1)^k \left(\sqrt[k]{\frac{k^2}{k^2+1}} - 1 \right)$$

$$5. \sum_{k=1}^{\infty} k^4 x^n, \quad x \in \mathbb{R} \quad 6. \sum_{k=1}^{\infty} \frac{(-1)^{k+1} x^k}{k} \quad 7. \sum_{k=1}^{\infty} \frac{x^k}{k^2} \quad 8. \sum_{k=1}^{\infty} \frac{(-1)^k x^{2k+1}}{2k+1} \quad 9. \sum_{k=1}^{\infty} \cos(k\pi) \frac{2-\cos(k\pi)}{4k}$$

VÝSLEDKY A NÁVODY. 1. Konverguje absolutně. 2. Konverguje absolutně. 3. Konverguje (neabsolutně). 4. Konverguje. 5. Konverguje absolutně pro $|x| < 1$, diverguje pro $|x| \geq 1$. 6. Konverguje absolutně pro $|x| < 1$, diverguje pro $|x| > 1$, pro $x=1$ konverguje neabsolutně, pro $x=-1$ diverguje. 7. Konverguje absolutně pro $|x| \leq 1$, diverguje pro $|x| > 1$. 8. Konverguje absolutně pro $|x| < 1$, diverguje pro $|x| > 1$, konverguje neabsolutně pro $|x| = 1$. 9. Diverguje.

XII. NALEZNĚTE PRIMITIVNÍ FUNKCE NA MAXIMÁLNÍCH INTERVALECH EXISTENCE

1. $\int x^3 + 2x + \frac{17}{x} dx$ 2. $\int 18e^x + 16e^{8x} - \frac{1}{x} + 3 \cos x dx$ 3. $\int \sin^7 x \cos x dx$ 4. $\int xe^{-x^2} dx$
 5. $\int \operatorname{tg} x dx$ 6. $\int \operatorname{cotg} x dx$ 7. $\int \operatorname{tg}^2 x dx$ 8. $\int \operatorname{cotg}^2 x dx$ 9. $\int \frac{1}{\sin x} dx$ 10. $\int \frac{1}{\cos x} dx$
 11. $\int \sin^2 x dx$ 12. $\int xe^x dx$ 13. $\int \log x dx$ 14. $\int \operatorname{arctg} x dx$ 15. $\int e^{ax} \cos bx dx$, $a, b \in \mathbb{R}$
 16. $\int \sqrt{x^6} dx$ 17. $\int \operatorname{arcsin} \sin \frac{4x}{x^2+1} dx$

- VÝSLEDKY A NÁVODY. 1. $\frac{1}{4}x^4 + x^2 + 17 \log|x| + C$ na $(-\infty, 0)$ a na $(0, \infty)$ 2. $18e^x + 2e^{8x} - \log|x| + 3 \sin x + C$ na $(-\infty, 0)$ a na $(0, \infty)$ 3. $\frac{1}{8} \sin^8 x + C$ na \mathbb{R} 4. $-\frac{1}{2}e^{-x^2} + C$ na \mathbb{R} 5. $-\log|\cos x| + C$ na každém z intervalů $(-\frac{\pi}{2} + k\pi, \frac{\pi}{2} + k\pi)$, $k \in \mathbb{Z}$ 6. $\log|\sin x| + C$ na každém z intervalů $(k\pi, (k+1)\pi)$, $k \in \mathbb{Z}$ 7. $\operatorname{tg} x - x + C$ na každém z intervalů $(-\frac{\pi}{2} + k\pi, \frac{\pi}{2} + k\pi)$, $k \in \mathbb{Z}$ 8. $-\operatorname{cotg} x - x + C$ na každém z intervalů $(k\pi, (k+1)\pi)$, $k \in \mathbb{Z}$ 9. $\log|\operatorname{tg} \frac{x}{2}| + C$ na každém z intervalů $(k\pi, (k+1)\pi)$, $k \in \mathbb{Z}$ 10. $-\log|\operatorname{tg}(\frac{\pi}{4} - \frac{x}{2})| + C$ na každém z intervalů $(-\frac{\pi}{2} + k\pi, \frac{\pi}{2} + k\pi)$, $k \in \mathbb{Z}$ 11. $\frac{1}{2}x - \frac{1}{4} \sin 2x + C$ na \mathbb{R} 12. $(x-1)e^x + C$ na \mathbb{R} 13. $x \log x - x + C$ na $(0, \infty)$ 14. $x \operatorname{arctg} x - \frac{1}{2} \log(1+x^2)$ na \mathbb{R} 15. $\frac{e^{ax}}{a^2+b^2} \cdot (a \cos bx + b \sin bx) + C$ na \mathbb{R} , pokud $a^2 + b^2 \neq 0$; $x + C$ na \mathbb{R} , pokud $a = b = 0$ 16. $\frac{1}{4}|x|x^3 + C$ na \mathbb{R} 17. $F(x) + C$ na \mathbb{R} , kde
- $$F(x) = \begin{cases} 2 \log(1+x^2) + \pi(x_2 - x_1) + 4 \log \frac{x_1}{x_2} & x \in [-\infty, -x_2] \\ -\pi(x+x_1) - 2 \log(1+x^2) + 4 \log(\frac{4}{\pi}x_1) & x \in [-x_2, -x_1] \\ 2 \log(1+x^2) & x \in [-x_1, x_1] \\ \pi(x-x_1) - 2 \log(1+x^2) + 4 \log(\frac{4}{\pi}x_1) & x \in [x_1, x_2] \\ 2 \log(1+x^2) + \pi(x_2 - x_1) + 4 \log \frac{x_1}{x_2} & x \in [x_2, \infty] \end{cases} \quad \text{a} \quad \begin{cases} x_1 = \frac{4-\sqrt{16-\pi^2}}{\pi} \\ x_2 = \frac{4+\sqrt{16-\pi^2}}{\pi} \end{cases}$$

XIII. SPOČTĚTE PRIMITIVNÍ FUNKCE

1. $\int \frac{2x+1}{x^2+x+1} dx$ 2. $\int \frac{x^{17}-5}{x-1} dx$ 3. $\int \frac{x^{17}-5}{x^2-1} dx$ 4. $\int \frac{x^3+1}{x^3-5x^2+6x} dx$ 5. $\int \frac{x}{x^3-1} dx$
 6. $\int \frac{\exp x}{\exp x+1} dx$ 7. $\int \frac{dx}{\cos x \cdot \sin^3 x}$ 8. $\int \frac{\cos^4 x + \sin^4 x}{\cos^2 x - \sin^2 x} dx$ 9. $\int \frac{x dx}{\sqrt{x+1} + \sqrt[3]{x+1}}$ 10. $\int \sqrt{\frac{1-x}{1+x}} \frac{dx}{x}$
 11. $\int \sqrt[3]{\frac{1-x}{1+x}} \frac{dx}{x}$ 12. $\int \frac{dx}{1+\sqrt{x^2+2x+2}}$ 13. $\int \sqrt{x^2-2x-1} dx$ 14. $\int \frac{(2x+3) dx}{(x^2+2x+3)\sqrt{x^2+2x+4}}$
 15. $\int \log^2 x dx$ 16.* V závislosti na parametru $\alpha > 0$ vypočtete: (a) $\int \frac{dx}{1+\alpha \cos x}$ (b) $\int \frac{dx}{(1+\alpha \cos x)^2}$
 17.* Spočtete: $\int \frac{dx}{x^6+1}$ (pracné) 18.* Pro jaký vztah mezi parametry $a, b, c \in \mathbb{R}$ je primitivní funkce k funkci f racionální, je-li $f(x) = \frac{ax^2+bx+c}{x^3(x-1)^2}$?

- VÝSLEDKY A NÁVODY. 1. $\log(x^2+x+1)$, $x \in \mathbb{R}$ 2. $(\sum_1^{17} \frac{x^k}{k}) - 4 \log|x-1|$, $x \in (-\infty, 1)$ nebo $x \in (1, +\infty)$ 3. $(\sum_1^8 \frac{1}{2k} x^{2k}) - 2 \log|x-1| + 3 \log|x+1|$, $x \in (-\infty, -1)$ nebo $x \in (-1, 1)$ nebo $x \in (1, +\infty)$ 4. $x + \frac{1}{6} \log|x| - \frac{9}{2} \log|x-2| + \frac{28}{3} \log|x-3|$, $x \in (-\infty, 0)$ nebo $x \in (0, 2)$ nebo $x \in (2, 3)$ nebo $x \in (3, +\infty)$ 5. $\frac{1}{6} \log \frac{(x-1)^2}{x^2+x+1} + \frac{\sqrt{3}}{3} \operatorname{arctg} \frac{2x+1}{\sqrt{3}}$, $x \in (-\infty, 1)$ nebo $x \in (1, +\infty)$ 6. $\log(e^x+1)$, $x \in \mathbb{R}$ 7. $\log|\operatorname{tg} x| - \frac{1}{2 \sin^2 x}$, $x \in (0, \frac{\pi}{2}) + k\frac{\pi}{2}$, $k \in \mathbb{Z}$ 8. $\frac{1}{4} (\log|\frac{1+\operatorname{tg} x}{1-\operatorname{tg} x}| + \sin 2x)$, $x \in (\frac{\pi}{4}, \frac{5\pi}{4}) + k\pi$, $k \in \mathbb{Z}$, pro $x = \frac{1}{2}\pi + k\pi$, $k \in \mathbb{Z}$ je funkce dodefinována 0 9. $6(\frac{1}{9}u^{(3/2)} - \frac{1}{8}u^{(4/3)} + \frac{1}{7}u^{(7/6)} - \frac{1}{6}u + \frac{1}{5}u^{(5/6)} - \frac{1}{4}u^{(2/3)})$, kde $u = x+1$, $x \in (-1, +\infty)$ 10. $\log|\frac{\sqrt{1+x}-\sqrt{1-x}}{\sqrt{1+x}+\sqrt{1-x}}| + 2 \operatorname{arctg} \sqrt{\frac{1-x}{1+x}}$, $x \in (-1, 1)$ 11. $\log \frac{|u^2-1|}{\sqrt{u^4+u^2+1}} - \sqrt{3} \operatorname{arctg} \frac{2u+1}{\sqrt{3}} + \sqrt{3} \operatorname{arctg} \frac{2u-1}{\sqrt{3}}$, kde $u = \sqrt[3]{\frac{1-x}{1+x}}$, $x \in (-\infty, -1)$ nebo $x \in (-1, 0)$ nebo $x \in (1, +\infty)$ 12. $\frac{2}{x-\sqrt{x^2+2x+2}} - \log(\sqrt{x^2+2x+2} - x - 1)$, $x \in \mathbb{R}$ 13. $\frac{1}{2}(x-1)\sqrt{x^2-2x-1} - \log|x-1 + \sqrt{x^2-2x-1}|$, $x \in (-\infty, 1 - \sqrt{2})$ nebo $x \in (1 + \sqrt{2}, +\infty)$ 14. $\log \frac{t^2-4t+6}{t^2+2} + \frac{1}{\sqrt{2}} \operatorname{arctg} \frac{t}{\sqrt{2}} - \frac{1}{\sqrt{2}} \operatorname{arctg} \frac{t-2}{\sqrt{2}}$, kde $t = \sqrt{x^2+2x+4} - x$, $x \in \mathbb{R}$ 15. $x \log^2 x - 2x \log x + 2x$, $x \in (0, +\infty)$ 16. (a) Pro $0 < \alpha < 1$: $F(x) = \frac{2}{\sqrt{1-\alpha^2}} \operatorname{arctg}(\sqrt{\frac{1-\alpha}{1+\alpha}} \operatorname{tg} \frac{x}{2}) + \frac{2\pi}{\sqrt{1-\alpha^2}} [\frac{x+\pi}{2\pi}]$, $x \neq (2n+1)\pi$, $F((2n+1)\pi) = \lim_{x \rightarrow (2n+1)\pi} F(x)$ Pro $\alpha > 1$: $F(x) = \frac{1}{\sqrt{\alpha^2-1}} \log \left| \frac{\operatorname{tg} \frac{x}{2} + \sqrt{\frac{\alpha+1}{\alpha-1}}}{\operatorname{tg} \frac{x}{2} - \sqrt{\frac{\alpha+1}{\alpha-1}}} \right|$, $x \in (-\arccos(-\frac{1}{\alpha}), \arccos(-\frac{1}{\alpha})) +$

$2k\pi$ nebo $x \in (\arccos(-\frac{1}{\alpha}), 2\pi - \arccos(-\frac{1}{\alpha})) + 2k\pi$, přičemž v bodě $(2k+1)\pi$ je funkce F vždy dodefinována 0 Pro $\alpha = 1$: $\operatorname{tg} \frac{x}{2}$, $x \in (-\pi, \pi) + 2k\pi$, $k \in \mathbb{Z}$. (b) Pro $0 < \alpha < 1$: $G(x) = \frac{1}{1-\alpha^2} \left(F(x) - \frac{\alpha \sin x}{1+\alpha \cos x} \right)$, $x \in \mathbb{R}$. Pro $\alpha = 1$: $\frac{1}{2} \operatorname{tg} \frac{x}{2} + \frac{1}{6} \operatorname{tg}^3 \frac{x}{2}$, $x \in (-\pi, \pi) + 2k\pi$, $k \in \mathbb{Z}$. Pro $\alpha > 1$: $G(x) = -(\alpha^2 - 1)^{-\frac{3}{2}} \log \left| \frac{\operatorname{tg} \frac{x}{2} + \sqrt{\frac{\alpha+1}{\alpha-1}}}{\operatorname{tg} \frac{x}{2} - \sqrt{\frac{\alpha+1}{\alpha-1}}} \right| - \frac{\alpha}{(\alpha+1)(\alpha-1)^2} \left(\frac{1}{\operatorname{tg} \frac{x}{2} + \sqrt{\frac{\alpha+1}{\alpha-1}}} + \frac{1}{\operatorname{tg} \frac{x}{2} - \sqrt{\frac{\alpha+1}{\alpha-1}}} \right)$, $x \in (-\arccos(-\frac{1}{\alpha}), \arccos(-\frac{1}{\alpha})) + 2k\pi$, nebo $x \in (\arccos(-\frac{1}{\alpha}), 2\pi - \arccos(-\frac{1}{\alpha})) + 2k\pi$ **17.** $\frac{1}{6} \arctan(2x + \sqrt{3}) + \frac{1}{6} \arctan(2x - \sqrt{3}) + \frac{1}{3} \arctan x - \frac{\sqrt{3}}{12} \log(x^2 - \sqrt{3}x + 1) + \frac{\sqrt{3}}{12} \log(x^2 + \sqrt{3}x + 1)$, $x \in \mathbb{R}$ **18.** $a + 2b + 3c = 0$