

I. ROZHODNĚTE, ZDA NÁSLEDUJÍCÍ MNOŽINY JSOU OTEVŘENÉ EV. UZAVŘENÉ

A URČETE VNITŘEK, UZÁVĚR, HRANICI

1. (a) \mathbb{Q} (b) \mathbb{N} (c) $\{\frac{1}{n} \mid n \in \mathbb{N}\}$ (d) $(-\infty, 0) \cup \{x \in \mathbb{Q} \mid x > 0\}$ 2. $\{(x, y) \in \mathbb{R}^2 \mid x > 0, y \leq 0\}$
 3. $\{(x, y) \in \mathbb{R}^2 \mid x^2 + y^2 < 1\}$ 4. $\{(x, y) \in \mathbb{R}^2 \mid x^2 + y^2 \geq 1\}$ 5. $\{(x, y) \in \mathbb{R}^2 \mid x^2 + e^y > 17\}$
 6. $\{(x, y) \in \mathbb{R}^2 \mid |x + y| > x + y\}$ 7. $\{(x, y) \in \mathbb{R}^2 \mid |x - y| = x - y\}$
 8. $\{(x, y) \in \mathbb{R}^2 \mid x^2 + y^2 + 2xy = 5\}$ 9. $\{(x, y, z) \in \mathbb{R}^3 \mid x \geq 0, y > 0, x + y = 2, z \leq 0\}$

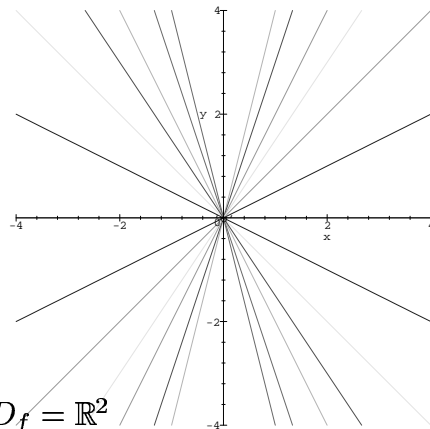
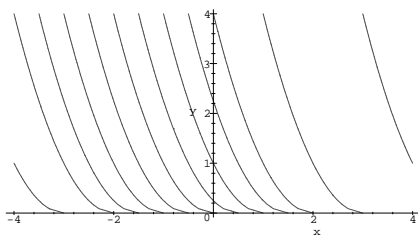
URČETE (A NAKRESLETE) DEFINIČNÍ OBOR A VRSTEVNICE FUNKCÍ

10. $f(x, y) = x + \sqrt{y}$ 11. $f(x, y) = \frac{y}{x}$ 12. $f(x, y) = x^2 + y^2$ 13. $f(x, y) = x^2 - y^2$
 14. $f(x, y) = \sqrt{xy}$ 15. $f(x, y) = \sqrt{1 - x^2 - y^2}$ 16. $f(x, y) = \frac{1}{\sqrt{x^2 + y^2 - 1}}$
 17. $f(x, y) = \sqrt{(x^2 + y^2 - 1)(4 - x^2 - y^2)}$ 18. $f(x, y) = \sqrt{1 - (x^2 + y^2)^2}$
 19. $f(x, y) = \sqrt{\sin(x^2 + y^2)}$ 20. $f(x, y) = \text{sgn}(\sin x \cdot \sin y)$ 21. $f(x, y) = |x| + y$

VÝSLEDKY A NÁVODY. 1. (a) $\text{int } \mathbb{Q} = \emptyset, H(\mathbb{Q}) = \overline{\mathbb{Q}} = \mathbb{R}, \mathbb{Q}$ není otevřená ani uzavřená. (b) \mathbb{N} je uzavřená, $\text{int } \mathbb{N} = \emptyset, H(\mathbb{N}) = \overline{\mathbb{N}} = \mathbb{N}$ (c) Množina není uzavřená ani otevřená, vnitřek je prázdný, hranice i uzávěr jsou $\{\frac{1}{n} \mid n \in \mathbb{N}\} \cup \{0\}$. (d) Ani otevřená, ani uzavřená, vnitřek $(-\infty, 0)$, uzávěr \mathbb{R} , hranice $[0, \infty)$. 2. Množina není uzavřená ani otevřená. Vnitřek je $\{(x, y) \in \mathbb{R}^2 \mid x > 0, y < 0\}$, uzávěr $\{(x, y) \in \mathbb{R}^2 \mid x \leq 0, y \leq 0\}$, hranice $\{(x, y) \in \mathbb{R}^2 \mid x \leq 0 \ \& \ y \leq 0 \ \& \ (x = 0 \vee y = 0)\}$. 3. Otevřená, uzávěr $\{(x, y) \in \mathbb{R}^2 \mid x^2 + y^2 \leq 1\}$, hranice $\{(x, y) \in \mathbb{R}^2 \mid x^2 + y^2 = 1\}$. 4. Uzavřená, vnitřek $\{(x, y) \in \mathbb{R}^2 \mid x^2 + y^2 > 1\}$, hranice $\{(x, y) \in \mathbb{R}^2 \mid x^2 + y^2 = 1\}$. 5. Otevřená, hranice $\{(x, y) \in \mathbb{R}^2 \mid x^2 + e^y = 17\}$, uzávěr $\{(x, y) \in \mathbb{R}^2 \mid x^2 + e^y \leq 17\}$ 6. Otevřená, uzávěr $\{(x, y) \mid x + y \leq 0\}$, hranice $\{(x, y) \mid x + y = 0\}$. 7. Uzavřená, vnitřek $\{(x, y) \mid x + y > 0\}$, hranice $\{(x, y) \mid x + y = 0\}$. 8. Uzavřená, prázdný vnitřek. 9. Ani uzavřená ani otevřená, vnitřek prázdný, hranice i uzávěr $\{(x, y, z) \in \mathbb{R}^3 \mid x \geq 0, y \geq 0, x + y = 2, z \leq 0\}$.

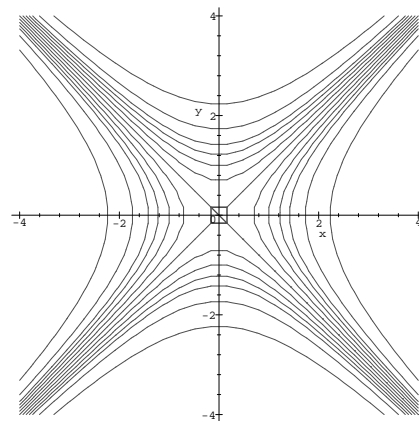
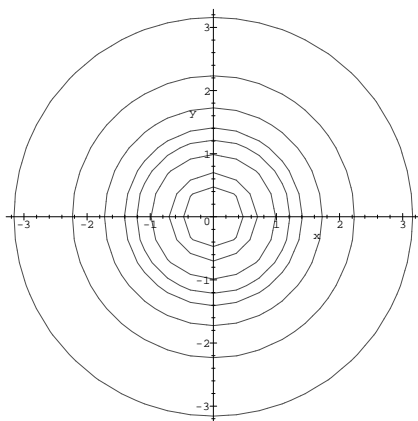
10. $D_f = \{(x, y) \in \mathbb{R}^2 \mid y \geq 0\}$

11. $D_f = \{(x, y) \in \mathbb{R}^2 \mid x \neq 0\}$



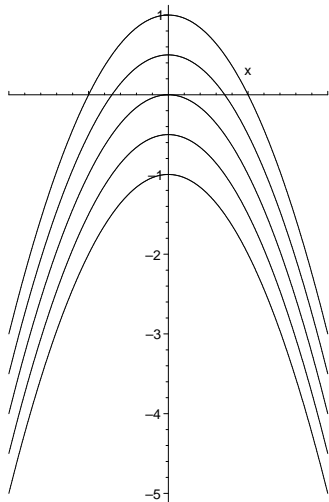
12. $D_f = \mathbb{R}^2$

13. $D_f = \mathbb{R}^2$




14. $D_f = \{(x, y) \mid (x \geq 0 \ \& \ y \geq 0) \vee (x \leq 0 \ \& \ y \leq 0)\}$, vrstevnice jsou hyperboly tvaru $y = \frac{c}{x}$ pro $c > 0$ spolu s dvojicí os. **15.** $D_f = \{(x, y) \mid x^2 + y^2 \leq 1\}$, vrstevnice jsou kružnice. **16.** $D_f = \{(x, y) \mid x^2 + y^2 > 1\}$, vrstevnice jsou kružnice. **17.** $D_f = \{(x, y) \mid 1 \leq x^2 + y^2 \leq 4\}$, vrstevnice jsou dvojice kružnic, v jednom případě kružnice. **18.** $D_f = \{(x, y) \mid -x^2 - 1 \leq y \leq -x^2 + 1\}$, vrstevnice jsou dvojice parabol, v jednom případě parabola. **19.** $D_f = \{(x, y) \mid 2k\pi \leq x^2 + y^2 \leq (2k + 1)\pi \text{ pro nějaké } k = 0, 1, 2, \dots\}$, vrstevnice jsou posloupnosti kružnic. **20.** $D_f = \mathbb{R}^2$, jsou tři vrstevnice - vnitřky černých čtverců, vnitřky bílých čtverců a hraniční přímky. **21.** $D_f = \mathbb{R}^2$, vrstevnice jsou grafy funkcí $y = k - |x|$.

Ad 18.



Ad 20.



II. URČETE V KTERÝCH BODECH JE FUNKCE f SPOJITÁ VZHLEDEM K MNOŽINĚ M , POKUD

1. $f(x, y) = \begin{cases} 1 & xy = 0, \\ 0 & \text{jinak;} \end{cases}$ a) $M = \mathbb{R}^2$, b) $M = \{[x, y] : x = 0 \text{ nebo } y = 0\}$, c) $M = \{[x, y] : x = y\}$.
2. $f(x, y) = \begin{cases} 1 & y = x^2, x \neq 0, \\ 0 & \text{jinak;} \end{cases}$ a) M je nějaká přímka procházející počátkem, b) $M = \mathbb{R}^2$.
3. $f(x, y) = \begin{cases} (x + y) \sin \frac{1}{x} \sin \frac{1}{y} & x \neq 0 \neq y, \\ x + y & \text{jinak;} \end{cases}$ a) M je nějaká přímka procházející počátkem, b) M je nějaká přímka rovnoběžná s osou x , c) $M = \mathbb{R}^2$.
4. $f(x, y) = \begin{cases} \frac{\sin xy}{x} & x \neq 0, \\ y & x = 0; \end{cases} \quad M = \mathbb{R}^2.$

VÝSLEDKY A NÁVODY. **1.** a) V bodech $[x, y]$, kde $xy \neq 0$ (tj. v bodech mimo osy), b) ve všech bodech množiny M (f je na M konstantní), c) ve všech bodech množiny M s výjimkou bodu $[0, 0]$. **2.** a) Je-li tou přímkou osa x nebo osa y , pak ve všech bodech množiny M . Ostatní přímky procházející počátkem protínají parabolu $y = x^2$ ve dvou bodech - $[0, 0]$ a ještě jednom, řekněme mu A . f je spojitá ve všech bodech množiny M s výjimkou bodu A . b) Ve všech bodech, které neleží na parabole $y = x^2$. **3.** a) Ve všech bodech množiny M . b) Je-li M osa x , pak ve všech jejích bodech; v ostatních případech s výjimkou průsečíku s osou y . c) V bodech mimo osy (tj. v takových $[x, y]$, že $x \neq 0 \neq y$) a ještě v bodě $[0, 0]$. **4.** Ve všech bodech \mathbb{R}^2 .

III. V NÁSLEDUJÍCÍCH ÚLOHÁCH ZJISTĚTE SUP A INF FUNKCE NA MNOŽINĚ M A VYŠETŘETE,

ZDA TĚCHTO HODNOT FUNCE NA M NABÝVÁ.

- $f(x, y, z) = (x + y)^2 + (x - y)^2 + z; M = [-1; 1] \times [-1; 1] \times [-1; 1];$
- $f(x, y) = \frac{x}{a} + \frac{y}{b}, a > 0, b > 0; M = \{(x, y); x^2 + y^2 \leq 1\};$
- $f(x, y, z) = x^2 + y^2 + z^2 + 2x + 4y - 6z; M = \mathbb{R}^3;$
- $f(x, y) = (x^2 + y^2) e^{-(x^2 + y^2)}; M = \mathbb{R}^2;$
- $f(x, y) = x^2 - xy + y^2, M = \{(x, y) \in \mathbb{R}^2; |x| + |y| \leq 1\}$
- $f(x, y) = (x + y) e^{-2x - 3y}; M = \{(x, y); x > 0, y > 0\}$
- $f(x, y) = (x^2 + 5y^2) e^{-(3x^2 + y^2)}; M = \mathbb{R}^2;$
- $f(x, y, z) = x^2 + y^2 + z^2; M = \{(x, y, z); \frac{x^2}{a^2} + \frac{y^2}{b^2} + \frac{z^2}{c^2} \leq 1\}; a > b > c > 0.$
- $z(x, y) = x^2 + y^2, M = \{(x, y), x^2 + 4y^2 = 1\}$
- $z(x, y) = x^2 + 12xy + 2y^2; M = \{(x, y), 4x^2 + y^2 = 1\}$
- Určete rozměry vodní nádrže ve tvaru kvádrů o objemu $32m^3$ tak, aby dno a stěny měly dohromady nejmenší povrch.

VÝSLEDKY A NÁVODY. 1. max 5 v bodech $(1, 1, 1), (1, -1, 1), (-1, 1, 1), (-1, -1, 1)$, min -1 v bodě $(0, 0, -1)$ 2. max $\frac{\sqrt{a^2+b^2}}{ab}$ v bodě $(\frac{b}{\sqrt{a^2+b^2}}, \frac{a}{\sqrt{a^2+b^2}})$, min $-\frac{\sqrt{a^2+b^2}}{ab}$ v bodě $(-\frac{b}{\sqrt{a^2+b^2}}, -\frac{a}{\sqrt{a^2+b^2}})$
3. sup $+\infty$, min -14 v bodě $(-1, -2, 3)$ 4. min 0 v $(0, 0)$, max $\frac{1}{e}$ v bodech kružnice $x^2 + y^2 = 1$.
5. max 1 v bodech $(\pm 1, 0), (0, \pm 1)$, min 0 v $(0, 0)$ 6. sup $\frac{1}{2e}$, nenabývá se, inf 0 , nenabývá se
7. max $\frac{5}{e}$ v bodech $(0, \pm 1)$, min 0 v bodě $(0, 0)$ 8. max a^2 v bodech $(\pm a, 0, 0)$, min 0 v $(0, 0, 0)$
9. max 1 v bodech $(\pm 1, 0)$, min $\frac{1}{4}$ v bodech $(0, \pm \frac{1}{2})$ 10. max $\frac{17}{4}$ v bodech $(\frac{3}{10}, \frac{4}{5}), (-\frac{3}{10}, -\frac{4}{5})$,
min -2 v bodech $(\frac{2}{5}, -\frac{3}{5}), (-\frac{2}{5}, \frac{3}{5})$ 11. dno $4m \times 4m$, výška $2m$

IV. IMPLICITNÍ FUNKCE

- Je dán vztah $e^{xy} + \sin y + y^2 = 1$ a bod $[2, 0]$:
 - Dokažte, že tímto vztahem je definována hladká funkce $y = f(x)$ v jistém okolí bodu 2, pro kterou platí $f(2) = 0$;
 - napište rovnici tečny ke grafu funkce f v bodě 2.
- Je dán vztah $x^2 + 2y^2 + 3z^2 + xy - z - 9 = 0$ a bod $[1, -2, 1]$:
 - Dokažte, že tímto vztahem je definována hladká funkce $z = z(x, y)$ v jistém okolí U bodu $[1, -2]$, pro kterou platí $z(1, -2) = 1$;
 - určete $\frac{\partial z}{\partial x}, \frac{\partial z}{\partial y}$ v okolí U ;
 - napište rovnici tečné roviny ke grafu funkce $z = z(x, y)$ v bodě $[1, -2]$.
- Je dána vztah $x^2 + 2xy^2 + y^4 - y^5 = 0$ a bod $[0, 1]$. Dokažte, že
 - tímto vztahem je definována hladká funkce $y = f(x)$ v jistém okolí bodu 0, pro kterou platí $f(0) = 1$;
 - funkce f roste v jistém okolí bodu 0.
- Dokažte, že množina bodů $(x, y, z) \in \mathbb{R}$, které splňují vztah

$$x^2 + y^2 + z^2 - 3xyz = 0$$

je v okolí bodu $(1, 1, 1)$ popsitelná jako graf funkce $f(x, y)$ definované na jistém okolí bodu $(1, 1)$, pro kterou je $f(1, 1) = 1$. Napište rovnici tečné roviny ke grafu funkce f v bodě $(1, 1)$.

VÝSLEDKY A NÁVODY. 1. tečna: $y = 0$ 2. tečná rovina $z = \frac{7}{5}(y + 2) + 1$ 3. Spočtete $f'(0)$ a ověřte, že $f'(0) > 0$. 4. tečná rovina $z = -(x - 1) - (y - 1) + 1$

V. URČETE y' A y'' V BODECH, V JEJICHŽ OKOLÍ JE UVEDENOU ROVNICÍ

ZADÁNA DIFERENCOVATELNÁ FUNKCE $y = y(x)$

1. $x^2 + 2xy - y^2 = a^2 \quad a \in \mathbb{R}$ 2. $\log \sqrt{x^2 + y^2} = \operatorname{arctg} \frac{y}{x}$ 3. $y - \varepsilon \sin y = x \quad 0 < \varepsilon < 1$

4. $x^y = y^x$ 5. $y = 2x \operatorname{arctg} \frac{y}{x}$

ZJISTĚTE, V OKOLÍ KTERÝCH BODŮ JE NÁSLEDUJÍCÍM PŘEDPISEM ZADÁNA DIFERENCOVATELNÁ FUNKCE $z = z(x, y)$ A NAJDĚTE JEJÍ PARCIÁLNÍ DERIVACE PRVNÍHO A DRUHÉHO ŘÁDU

6. $\frac{x}{z} = \log \frac{z}{y}$ 7. $xyz = x + y + z$ 8. $F(x + y + z, x^2 + y^2 + z^2) = 0 \quad \left(\frac{\partial^2 z}{\partial x \partial y}\right)$ (F je tří dy C^2)

9. $F(xz, yz) = 0 \quad \left(\frac{\partial^2 z}{\partial x^2}\right)$ (F je tří dy C^2)

10. Dokažte, že existují funkce $u = u(x, y)$ a $v = v(x, y)$, pro které platí $u(1, 2) = v(1, 2) = 0$, a které na nějakém okolí bodu $(1, 2)$ splňují rovnice $xe^{u+v} + 2uv = 1$, $ye^{u-v} - \frac{u}{1+v} = 2x$ a jsou tam třídy C^1 . Spočítejte jejich parciální derivace prvního řádu v bodě $(1, 2)$.

*11. Nechť x_0 je jednonásobný kořen rovnice $x^n + a_1x^{n-1} + \dots + a_n = 0$. Dokažte, že existují $\varepsilon > 0$ a $\delta > 0$ takové, že kdykoli $|b_i - a_i| < \delta$ pro $i = 1, \dots, n$, pak rovnice $x^n + b_1x^{n-1} + \dots + b_n = 0$ má v intervalu $(x_0 - \varepsilon, x_0 + \varepsilon)$ právě jeden kořen. Spočítejte $\frac{\partial x}{\partial b_i}(a_1, \dots, a_n)$. (Co se stane, bude-li kořen x_0 p -násobný?)

VÝSLEDKY A NÁVODY. 1. $y' = \frac{y+x}{y-x}, (x, y) \neq \left(\frac{a}{\sqrt{2}}, \frac{a}{\sqrt{2}}\right), \left(\frac{-a}{\sqrt{2}}, \frac{-a}{\sqrt{2}}\right)$ 2. $y' = \frac{x+y}{x-y}, (x, y) \neq$

$(\sqrt{2}e^{\frac{\pi}{4}}, \sqrt{2}e^{\frac{\pi}{4}}), (-\sqrt{2}e^{\frac{\pi}{4}}, -\sqrt{2}e^{\frac{\pi}{4}})$ 3. $y' = \frac{1}{1-\varepsilon \cos y}$ 4. $y' = \frac{y}{x} \cdot \frac{x \log y + y}{y \log x + x}, (x, y) \neq (e, e)$ 5.

$y' = \frac{y}{x}$ 6. $\frac{\partial z}{\partial x} = \frac{z}{z+x}, \frac{\partial z}{\partial y} = \frac{z^2}{y(x+z)}$ s výjimkou bodů $(-\frac{y}{e}, y, \frac{y}{e})$ 7. $\frac{\partial z}{\partial x} = \frac{1-yz}{xy-1}, \frac{\partial z}{\partial y} =$

$\frac{1-xz}{xy-1}$ 8. $\frac{\partial^2 z}{\partial x \partial y} = \frac{(z-x)(z-y)(\partial_{11}F \cdot (\partial_2F)^2 - 2\partial_{12}F \cdot \partial_1F \cdot \partial_2F + \partial_{22}F \cdot (\partial_1F)^2) + 2\partial_2F \cdot (\partial_1F + 2x\partial_2F) \cdot (\partial_1F + 2y\partial_2F)}{(\partial_1F + 2z\partial_2F)^3},$

$(\partial_1F + 2z\partial_2F) \neq 0$ 9. $\frac{\partial^2 z}{\partial x \partial y} = \frac{zy(\partial_{11}F \cdot (\partial_2F)^2 - 2\partial_{12}F \cdot \partial_1F \cdot \partial_2F + \partial_{22}F \cdot (\partial_1F)^2) + 2z^2(\partial_1F)^2}{(x\partial_1F + y\partial_2F)^3},$

$(x\partial_1F + y\partial_2F) \neq 0$ 10. $\frac{\partial u}{\partial x} = 0, \frac{\partial u}{\partial y} = -1, \frac{\partial v}{\partial x} = -1, \frac{\partial v}{\partial y} = 1$. 11. Označme levou stranu

$P(x)$. Využijte toho, že fakt, že x_0 je jednonásobný kořen P znamená $P(x_0) = 0$ a $P'(x_0) \neq 0$.

$\frac{\partial x}{\partial a_i} = -\frac{x_0^{n-i}}{P'(x_0)}$. (Pro sudé p analogie neplatí, pro liché p zkoumejte $\sqrt[p]{P(x)}$.)

VI. V NÁSLEDUJÍCÍCH ÚLOHÁCH ZJISTĚTE \sup A \inf FUNKCE f NA MNOŽINĚ M

A VYŠETŘETE, ZDA TĚCHTO HODNOT f NA M NABÝVÁ.

1. $f(x, y, z) = x - 2y + 2z,$

a) $M = \{(x, y, z), x^2 + y^2 + z^2 = 1\}$, b) $M = \{(x, y, z), x^2 + y^2 + z^2 = 1, x + y + z = 0\}$

2. $f(x, y, z) = xyz,$

a) $M = \{(x, y, z), x^2 + y^2 + z^2 = 1\}$, b) $M = \{(x, y, z), x^2 + y^2 + z^2 = 1, x + y + z = 0\}$

3. $f(x, y, z) = \sin x \sin y \sin z, M = \{(x, y, z); x + y + z = \frac{\pi}{2}, x > 0, y > 0, z > 0\}$

4. $f(x, y, z) = xy^2z^3, M = \{(x, y, z); x + 2y + 3z = a, x > 0, y > 0\}$, kde $a > 0$.

5. $f(x_1, \dots, x_n) = x_1^p + \dots + x_n^p; M = \{(x_1, \dots, x_n); x_1 + \dots + x_n = a, x_1 > 0, \dots, x_n > 0\}$; kde

$a > 0, p > 0$. 6. $f(x, y) = x + y, M = \{(x, y); x^3 + y^3 - 2xy = 0, x \geq 0, y \geq 0\}$

7. $f(x, y, z) = 10z + x - y, M = \{(x, y, z), x^2 + y^2 + z^2 \leq 1, y + x \geq 0\}$ 8. $f(x, y) = \frac{1}{x} + \frac{1}{y},$

$M = \{(x, y), \frac{1}{x^2} + \frac{4}{y^2} = 1\}$ 9. $f(x, y) = y, M = \{(x, y), (x^2 + y^2)^2 = Kxy\}$, kde $K > 0$

VÝSLEDKY A NÁVODY. 1. a) $\max 3$ v $(\frac{1}{3}, -\frac{2}{3}, \frac{2}{3})$, $\min -3$ v $(-\frac{1}{3}, \frac{2}{3}, -\frac{2}{3})$; b) $\max \sqrt{\frac{26}{3}}$ v $(\frac{2}{\sqrt{78}}, -\frac{7}{\sqrt{78}}, \frac{5}{\sqrt{78}})$, $\min -\sqrt{\frac{26}{3}}$ v $(-\frac{2}{\sqrt{78}}, \frac{7}{\sqrt{78}}, -\frac{5}{\sqrt{78}})$; 2. a) $\max \frac{1}{3\sqrt{3}}$ v bodech $(\frac{1}{\sqrt{3}}, \frac{1}{\sqrt{3}}, \frac{1}{\sqrt{3}})$, $(-\frac{1}{\sqrt{3}}, -\frac{1}{\sqrt{3}}, \frac{1}{\sqrt{3}})$, $(\frac{1}{\sqrt{3}}, -\frac{1}{\sqrt{3}}, -\frac{1}{\sqrt{3}})$, $(-\frac{1}{\sqrt{3}}, \frac{1}{\sqrt{3}}, -\frac{1}{\sqrt{3}})$; $\min -\frac{1}{3\sqrt{3}}$ v bodech $(-\frac{1}{\sqrt{3}}, -\frac{1}{\sqrt{3}}, -\frac{1}{\sqrt{3}})$, $(-\frac{1}{\sqrt{3}}, \frac{1}{\sqrt{3}}, \frac{1}{\sqrt{3}})$, $(\frac{1}{\sqrt{3}}, \frac{1}{\sqrt{3}}, -\frac{1}{\sqrt{3}})$; b) $\max \frac{1}{3\sqrt{6}}$ v bodech $(\frac{2}{\sqrt{6}}, -\frac{1}{\sqrt{6}}, -\frac{1}{\sqrt{6}})$, $(-\frac{1}{\sqrt{6}}, \frac{2}{\sqrt{6}}, -\frac{1}{\sqrt{6}})$, $(-\frac{1}{\sqrt{6}}, -\frac{1}{\sqrt{6}}, \frac{2}{\sqrt{6}})$; $\min -\frac{1}{3\sqrt{6}}$ v bodech $(-\frac{2}{\sqrt{6}}, \frac{1}{\sqrt{6}}, \frac{1}{\sqrt{6}})$, $(\frac{1}{\sqrt{6}}, -\frac{2}{\sqrt{6}}, \frac{1}{\sqrt{6}})$, $(\frac{1}{\sqrt{6}}, \frac{1}{\sqrt{6}}, -\frac{2}{\sqrt{6}})$; 3. $\max \frac{1}{8}$ v $(\frac{\pi}{6}, \frac{\pi}{6}, \frac{\pi}{6})$, $\inf 0$, nenabývá se 4. $\max \frac{a^6}{6^6}$ v $(\frac{a}{6}, \frac{a}{6}, \frac{a}{6})$, $\inf -\infty$ 5. pro $p = 1$ je f na M konstantní; pro $p > 1$ je $\sup a^p$, nenabývá se, $\min \frac{a^p}{n^{p-1}}$ v $(\frac{a}{n}, \dots, \frac{a}{n})$; pro $p \in (0, 1)$ je $\inf a^p$, nenabývá se, $\max \frac{a^p}{n^{p-1}}$ v $(\frac{a}{n}, \dots, \frac{a}{n})$; 6. $\max 2$ v $(1, 1)$, $\min 0$ v $(0, 0)$ 7. $\max \sqrt{102}$ v $(\frac{1}{\sqrt{102}}, -\frac{1}{\sqrt{102}}, \frac{10}{\sqrt{102}})$; $\min -\sqrt{102}$ v $(-\frac{1}{\sqrt{102}}, \frac{1}{\sqrt{102}}, -\frac{10}{\sqrt{102}})$; 8. $\max \frac{\sqrt{5}}{2}$ v $(\frac{\sqrt{5}}{2}, 2\sqrt{5})$; $\min -\frac{\sqrt{5}}{2}$ v $(-\frac{\sqrt{5}}{2}, -2\sqrt{5})$; 9. $\max \frac{1}{4}\sqrt{k} \cdot 15^{\frac{3}{4}}$ v $(\frac{1}{4}\sqrt{k}\sqrt[4]{15}, \frac{1}{4}\sqrt{k} \cdot 15^{\frac{3}{4}})$; $\min -\frac{1}{4}\sqrt{k} \cdot 15^{\frac{3}{4}}$ v $(-\frac{1}{4}\sqrt{k}\sqrt[4]{15}, -\frac{1}{4}\sqrt{k} \cdot 15^{\frac{3}{4}})$.

VII. URČETE HODNOST MATIC (V ZÁVISLOSTI NA PARAMETRU)

1. $\begin{pmatrix} 1 & 2 & 1 & 3 \\ 2 & 4 & 5 & 1 \\ 3 & 6 & 7 & 5 \\ 4 & 8 & 3 & 7 \end{pmatrix}$ 2. $\begin{pmatrix} 1 & 2 & 2 & 3 & 5 \\ 6 & 15 & 12 & 25 & 42 \\ 2 & 5 & 4 & 8 & 14 \\ 1 & -1 & 2 & -4 & -7 \end{pmatrix}$ 3. $\begin{pmatrix} a & 1 & 1 & 1 \\ 1 & a & 1 & a \\ 1 & 1 & a & a^2 \end{pmatrix}$ 4. $\begin{pmatrix} 2(a-1) & (3a+1) & a \\ (1-a) & -2 & -1 \\ a & 2a & a \end{pmatrix}$

5. $\begin{pmatrix} 2(a-1) & (3a+1) & a & 2a \\ (1-a) & -2 & -1 & 2 \\ a & 2a & a & a+1 \end{pmatrix}$ 6. $\begin{pmatrix} 1 & -1 & 0 & -3 \\ 7 & -2 & 2 & -10 \\ 7 & -1 & 1 & -9 \\ 2 & 0 & -2 & -4 \\ 6 & -1 & 2 & -7 \end{pmatrix}$ 7. $\begin{pmatrix} 1 & 1 & 1 & 1 & 1 \\ a & 2 & 1 & 2 & a \\ 5 & 6 & 7 & 1 & 3 \\ 1 & 2 & a & 2 & 1 \\ 1 & 0 & 1 & 0 & 1 \end{pmatrix}$

NAJDĚTE INVERZNÍ MATICE K NÁSLEDUJÍCÍM MATICÍM

8. $\begin{pmatrix} 1 & 2 & -1 \\ 2 & 3 & 0 \\ 0 & -1 & 1 \end{pmatrix}$ 9. $\begin{pmatrix} 1 & 0 & -1 \\ -1 & 1 & 0 \\ 2 & 1 & 3 \end{pmatrix}$ 10. $\begin{pmatrix} 1 & 2 & -3 & 1 \\ 2 & 3 & -1 & 2 \\ 7 & -1 & 4 & 3 \\ 1 & 1 & -2 & -1 \end{pmatrix}$ 11. $\begin{pmatrix} 1 & 2 & -1 & 1 \\ 1 & 0 & 0 & -1 \\ 0 & 1 & 1 & 0 \\ 1 & 2 & 0 & 0 \end{pmatrix}$

VÝSLEDKY A NÁVODY. 1. 3 2. 3 3. 3 pro $a \neq 1$, 1 pro $a = 1$ 4. 3 pro $a \neq 0, -1, 2$, jinak 2 5. 3 pro $a \neq -1$, 2 pro $a = -1$ 6. 3 7. hodnost 4 pro $a \neq 1$, pro $a = 1$ hodnost 3 8.

9. $\begin{pmatrix} 1/2 & -1/6 & 1/6 \\ 1/2 & 5/6 & 1/6 \\ -1/2 & -1/6 & 1/6 \end{pmatrix}$ 10. $\begin{pmatrix} 0 & -1/21 & 5/42 & 11/42 \\ -1/2 & 23/42 & -5/42 & 5/21 \\ -1/2 & 13/42 & -1/42 & 1/21 \\ 1/2 & -5/42 & 1/21 & -25/42 \end{pmatrix}$ 11. $\begin{pmatrix} 2 & 2 & 2 & -3 \\ -1 & -1 & -1 & 2 \\ 1 & 1 & 2 & -2 \\ 2 & 1 & 2 & -3 \end{pmatrix}$

VIII. SPOČTĚTE DETERMINANTY

$$1. \begin{vmatrix} 1 & -1 & 0 & -3 \\ 7 & -2 & 2 & -10 \\ 7 & -1 & 1 & -9 \\ 2 & 0 & -2 & -4 \\ 6 & -1 & 2 & -7 \end{vmatrix} \quad 2. \begin{vmatrix} 1 & 2 & -1 \\ 2 & 3 & 0 \\ 0 & -1 & 1 \end{vmatrix} \quad 3. \begin{vmatrix} 1 & 0 & -1 \\ -1 & 1 & 0 \\ 2 & 1 & 3 \end{vmatrix} \quad 4. \begin{vmatrix} 1 & 2 & -3 & 1 \\ 2 & 3 & -1 & 2 \\ 7 & -1 & 4 & 3 \\ 1 & 1 & -2 & -1 \end{vmatrix}$$

$$5. \begin{vmatrix} 1 & 2 & -1 & 1 \\ 1 & 0 & 0 & -1 \\ 0 & 1 & 1 & 0 \\ 1 & 2 & 0 & 0 \end{vmatrix} \quad 6. \begin{vmatrix} 1 & 2 & 1 & 3 \\ 2 & 4 & 5 & 1 \\ 3 & 6 & 7 & 5 \\ 4 & 8 & 3 & 7 \end{vmatrix} \quad 7. \begin{vmatrix} 246 & 427 & 327 \\ 1014 & 543 & 443 \\ -342 & 721 & 621 \end{vmatrix}$$

NAJDĚTE ŘEŠENÍ SOUSTAV LINEÁRNÍCH ROVNIC

$$8. \begin{cases} x+2y-z=1 \\ 2x+3y=1 \\ -y+z=1 \end{cases} \quad 9. \begin{cases} x-z=-2 \\ -x+y=1 \\ 2x+y+3z=13 \end{cases} \quad 10. \begin{cases} x_1+2x_2-3x_3+x_4=-5 \\ 2x_1+3x_2-x_3+2x_4=0 \\ 7x_1-x_2+4x_3-3x_4=15 \\ x_1+x_2-2x_3-x_4=-3 \end{cases}$$

$$11. \begin{cases} x_1+2x_2-x_3+x_4=2 \\ x_1-x_4=-1 \\ x_2+x_3=0 \\ x_1+2x_2=-1 \end{cases} \quad 12. \begin{cases} x_1+2x_2+2x_3+3x_4=5 \\ 6x_1+15x_2+12x_3+25x_4=42 \\ 2x_1+5x_2+4x_3+8x_4=14 \\ x_1-x_2+2x_3-4x_4=-7 \end{cases}$$

VÝSLEDKY A NÁVODY. 1. determinant neexistuje, matice není čtvercová. 2. 1 3. 6 4. -84 5. 1 6. 0 7. 29400000 8. $x=5, y=-3, z=-2$ 9. $x=1, y=2, z=3$ 10. $(1, 0, 2, 0)$ 11. $(5, -3, 3, 6)$ 12. nekonečně mnoho řešení tvaru $(-3-2t, 4, t, 0), t \in \mathbb{R}$

IX. VYŠETŘETE KONVERGENCI NÁSLEDUJÍCÍCH ŘAD:

$$1. \sum_{k=1}^{\infty} (-1)^k \frac{2k^2+3k+4}{2k^2+4} \quad 2. \sum_{k=1}^{\infty} (-1)^k \frac{2k^2+3k+4}{2k^3} \quad 3. \sum_{k=1}^{\infty} (-1)^k \frac{2k^2+3k+4}{2k^4+3} \quad 4. \sum_{k=1}^{\infty} \frac{2^k}{k!} \quad 5. \sum_{k=1}^{\infty} \frac{(k!)^2}{(2k)!}$$

$$6. \sum_{k=1}^{\infty} (-1)^k \left(\frac{2k+100}{3k+1} \right)^k \quad 7. \sum_{k=1}^{\infty} (-1)^k \left(\frac{3k+100}{2k+1} \right)^k \quad 8. \sum_{k=1}^{\infty} \sin k \quad 9. \sum_{k=1}^{\infty} \log \cos \frac{1}{k}$$

$$10. \sum_{k=1}^{\infty} \log(1 + \sin \frac{1}{k}) \quad 11. \sum_{k=2}^{\infty} \frac{(-1)^k}{2k+(-1)^k} \quad 12. \sum_{k=2}^{\infty} \frac{(-1)^k}{k+(-1)^k} \quad 13. \sum_{k=1}^{\infty} k^{\ln x}, \quad x \in \mathbb{R}$$

$$14. \sum_{k=2}^{\infty} \frac{\sqrt{k+2}-\sqrt{k-2}}{k^\alpha}, \alpha \in \mathbb{R} \quad 15. \sum_{k=1}^{\infty} \frac{x^k}{1+x^{2k}}, x \in \mathbb{R} \quad 16. \sum_{k=0}^{\infty} \frac{x^{k^2}}{2^k}, x \in \mathbb{R} \quad 17. \sum_{k=1}^{\infty} \sin(\pi\sqrt{k^2+1})$$

VÝSLEDKY A NÁVODY. 1. Diverguje. 2. Konverguje neabsolutně. 3. Konverguje absolutně. 4. Konverguje absolutně. 5. Konverguje absolutně. 6. Konverguje absolutně. 7. Diverguje. 8. Diverguje. 9. Konverguje absolutně. 10. Diverguje. 11. Konverguje neabsolutně. 12. Konverguje neabsolutně. 13. Pro $0 < x < \frac{1}{e}$ konverguje absolutně, jinak diverguje (pro $x \leq 0$ nemá smysl). 14. Pro $\alpha > \frac{1}{2}$ konverguje absolutně, jinak diverguje. 15. Konverguje absolutně pro $x \neq \pm 1$, diverguje pro $x = \pm 1$. 16. Konverguje absolutně pro $|x| \leq 1$, jinak diverguje. 17. Konverguje neabsolutně.

X. VYŠETŘETE KONVERGENCI NÁSLEDUJÍCÍCH ŘAD

$$1. \sum_{k=1}^{\infty} \frac{k^7}{2^{k+3k}} \quad 2. \sum_{k=1}^{\infty} \frac{\sqrt[3]{k^2+7}-\sqrt[3]{k^2+3}}{\sqrt{k}} \quad 3. \sum_{k=1}^{\infty} \cos(k^2\pi) (\sqrt{k+11}-\sqrt{k+2}) \quad 4. \sum_{k=1}^{\infty} (-1)^k \left(\sqrt[k]{\frac{k^2}{k^2+1}} - 1 \right)$$

$$5. \sum_{k=1}^{\infty} k^4 x^n, x \in \mathbb{R} \quad 6. \sum_{k=1}^{\infty} \frac{(-1)^{k+1} x^k}{k} \quad 7. \sum_{k=1}^{\infty} \frac{x^k}{k^2} \quad 8. \sum_{k=1}^{\infty} \frac{(-1)^k x^{2k+1}}{2k+1} \quad 9. \sum_{k=1}^{\infty} \cos(k\pi) \frac{2-\cos(k\pi)}{4k}$$

VÝSLEDKY A NÁVODY. **1.** Konverguje absolutně. **2.** Konverguje absolutně. **3.** Konverguje (neabsolutně). **4.** Konverguje. **5.** Konverguje absolutně pro $|x| < 1$, diverguje pro $|x| \geq 1$. **6.** Konverguje absolutně pro $|x| < 1$, diverguje pro $|x| > 1$, pro $x = 1$ konverguje neabsolutně, pro $x = -1$ diverguje. **7.** Konverguje absolutně pro $|x| \leq 1$, diverguje pro $|x| > 1$. **8.** Konverguje absolutně pro $|x| < 1$, diverguje pro $|x| > 1$, konverguje neabsolutně pro $|x| = 1$. **9.** Diverguje.

XI. NALEZNĚTE PRIMITIVNÍ FUNKCE NA MAXIMÁLNÍCH INTERVALECH EXISTENCE

- 1.** $\int x^3 + 2x + \frac{17}{x} dx$ **2.** $\int 18e^x + 16e^{8x} - \frac{1}{x} + 3 \cos x dx$ **3.** $\int \sin^7 x \cos x dx$ **4.** $\int xe^{-x^2} dx$
5. $\int \operatorname{tg} x dx$ **6.** $\int \operatorname{cotg} x dx$ **7.** $\int \operatorname{tg}^2 x dx$ **8.** $\int \operatorname{cotg}^2 x dx$ **9.** $\int \frac{1}{\sin x} dx$ **10.** $\int \frac{1}{\cos x} dx$
11. $\int \sin^2 x dx$ **12.** $\int xe^x dx$ **13.** $\int \log x dx$ **14.** $\int \operatorname{arctg} x dx$ **15.** $\int e^{ax} \cos bx dx$, $a, b \in \mathbb{R}$
16. $\int \sqrt{x^6} dx$ **17.** $\int \arcsin \sin \frac{4x}{x^2+1} dx$

VÝSLEDKY A NÁVODY. **1.** $\frac{1}{4}x^4 + x^2 + 17 \log|x| + C$ na $(-\infty, 0)$ a na $(0, \infty)$ **2.** $18e^x + 2e^{8x} - \log|x| + 3 \sin x + C$ na $(-\infty, 0)$ a na $(0, \infty)$ **3.** $\frac{1}{8} \sin^8 x + C$ na \mathbb{R} **4.** $-\frac{1}{2}e^{-x^2} + C$ na \mathbb{R} **5.** $-\log|\cos x| + C$ na každém z intervalů $(-\frac{\pi}{2} + k\pi, \frac{\pi}{2} + k\pi)$, $k \in \mathbb{Z}$ **6.** $\log|\sin x| + C$ na každém z intervalů $(k\pi, (k+1)\pi)$, $k \in \mathbb{Z}$ **7.** $\operatorname{tg} x - x + C$ na každém z intervalů $(-\frac{\pi}{2} + k\pi, \frac{\pi}{2} + k\pi)$, $k \in \mathbb{Z}$ **8.** $-\operatorname{cotg} x - x + C$ na každém z intervalů $(k\pi, (k+1)\pi)$, $k \in \mathbb{Z}$ **9.** $\log|\operatorname{tg} \frac{x}{2}| + C$ na každém z intervalů $(k\pi, (k+1)\pi)$, $k \in \mathbb{Z}$ **10.** $-\log|\operatorname{tg}(\frac{\pi}{4} - \frac{x}{2})| + C$ na každém z intervalů $(-\frac{\pi}{2} + k\pi, \frac{\pi}{2} + k\pi)$, $k \in \mathbb{Z}$ **11.** $\frac{1}{2}x - \frac{1}{4} \sin 2x + C$ na \mathbb{R} **12.** $(x-1)e^x + C$ na \mathbb{R} **13.** $x \log x - x + C$ na $(0, \infty)$ **14.** $x \operatorname{arctg} x - \frac{1}{2} \log(1+x^2)$ na \mathbb{R} **15.** $\frac{e^{ax}}{a^2+b^2} \cdot (a \cos bx + b \sin bx) + C$ na \mathbb{R} , pokud $a^2 + b^2 \neq 0$; $x + C$ na \mathbb{R} , pokud $a = b = 0$ **16.** $\frac{1}{4}|x|x^3 + C$ na \mathbb{R} **17.** $F(x) + C$ na \mathbb{R} , kde

$$F(x) = \begin{cases} 2 \log(1+x^2) + \pi(x_2 - x_1) + 4 \log \frac{x_1}{x_2} & x \in [-\infty, -x_2] \\ -\pi(x+x_1) - 2 \log(1+x^2) + 4 \log(\frac{4}{\pi}x_1) & x \in [-x_2, -x_1] \\ 2 \log(1+x^2) & x \in [-x_1, x_1] \\ \pi(x-x_1) - 2 \log(1+x^2) + 4 \log(\frac{4}{\pi}x_1) & x \in [x_1, x_2] \\ 2 \log(1+x^2) + \pi(x_2 - x_1) + 4 \log \frac{x_1}{x_2} & x \in [x_2, \infty] \end{cases} \quad \text{a} \quad \begin{cases} x_1 = \frac{4 - \sqrt{16 - \pi^2}}{\pi} \\ x_2 = \frac{4 + \sqrt{16 - \pi^2}}{\pi} \end{cases}$$

XII. SPOČTĚTE PRIMITIVNÍ FUNKCE

- 1.** $\int \frac{2x+1}{x^2+x+1} dx$ **2.** $\int \frac{x^{17}-5}{x-1} dx$ **3.** $\int \frac{x^{17}-5}{x^2-1} dx$ **4.** $\int \frac{x^3+1}{x^3-5x^2+6x} dx$ **5.** $\int \frac{x}{x^3-1} dx$
6. $\int \frac{\exp x}{\exp x+1} dx$ **7.** $\int \frac{dx}{\cos x \cdot \sin^3 x}$ **8.** $\int \frac{\cos^4 x + \sin^4 x}{\cos^2 x - \sin^2 x} dx$ **9.** $\int \frac{x dx}{\sqrt{x+1} + \sqrt[3]{x+1}}$ **10.** $\int \sqrt{\frac{1-x}{1+x}} \frac{dx}{x}$
11. $\int \sqrt[3]{\frac{1-x}{1+x}} \frac{dx}{x}$ **12.** $\int \frac{dx}{1 + \sqrt{x^2+2x+2}}$ **13.** $\int \sqrt{x^2 - 2x - 1} dx$ **14.** $\int \frac{(2x+3) dx}{(x^2+2x+3)\sqrt{x^2+2x+4}}$
15. $\int \log^2 x dx$ **16.*** V závislosti na parametru $\alpha > 0$ vypočtěte: (a) $\int \frac{dx}{1+\alpha \cos x}$ (b) $\int \frac{dx}{(1+\alpha \cos x)^2}$
17.* Spočtěte: $\int \frac{dx}{x^6+1}$ (pracné) **18.*** Pro jaký vztah mezi parametry $a, b, c \in \mathbb{R}$ je primitivní funkce k funkci f racionální, je-li $f(x) = \frac{ax^2+bx+c}{x^3(x-1)^2}$?

VÝSLEDKY A NÁVODY. 1. $\log(x^2+x+1)$, $x \in \mathbb{R}$ 2. $\left(\sum_1^{17} \frac{x^k}{k}\right) - 4 \log|x-1|$, $x \in (-\infty, 1)$ nebo $x \in (1, +\infty)$ 3. $\left(\sum_1^8 \frac{1}{2k} x^{2k}\right) - 2 \log|x-1| + 3 \log|x+1|$, $x \in (-\infty, -1)$ nebo $x \in (-1, 1)$ nebo $x \in (1, +\infty)$ 4. $x + \frac{1}{6} \log|x| - \frac{9}{2} \log|x-2| + \frac{28}{3} \log|x-3|$, $x \in (-\infty, 0)$ nebo $x \in (0, 2)$ nebo $x \in (2, 3)$ nebo $x \in (3, +\infty)$ 5. $\frac{1}{6} \log \frac{(x-1)^2}{x^2+x+1} + \frac{\sqrt{3}}{3} \operatorname{arctg} \frac{2x+1}{\sqrt{3}}$, $x \in (-\infty, 1)$ nebo $x \in (1, +\infty)$ 6. $\log(e^x+1)$, $x \in \mathbb{R}$ 7. $\log|\operatorname{tg} x| - \frac{1}{2 \sin^2 x}$, $x \in (0, \frac{\pi}{2}) + k\frac{\pi}{2}$, $k \in \mathbb{Z}$ 8. $\frac{1}{4} \left(\log \left| \frac{1+\operatorname{tg} x}{1-\operatorname{tg} x} \right| + \sin 2x \right)$, $x \in (\frac{\pi}{4}, \frac{5\pi}{4}) + k\pi$, $k \in \mathbb{Z}$, pro $x = \frac{1}{2}\pi + k\pi$, $k \in \mathbb{Z}$ je funkce dodefinována 0 9. $6 \left(\frac{1}{9} u^{(3/2)} - \frac{1}{8} u^{(4/3)} + \frac{1}{7} u^{(7/6)} - \frac{1}{6} u + \frac{1}{5} u^{(5/6)} - \frac{1}{4} u^{(2/3)} \right)$, kde $u = x+1$, $x \in (-1, +\infty)$ 10. $\log \left| \frac{\sqrt{1+x}-\sqrt{1-x}}{\sqrt{1+x}+\sqrt{1-x}} \right| + 2 \operatorname{arctg} \sqrt{\frac{1-x}{1+x}}$, $x \in (-1, 1)$ 11. $\log \frac{|u^2-1|}{\sqrt{u^4+u^2+1}} - \sqrt{3} \operatorname{arctg} \frac{2u+1}{\sqrt{3}} + \sqrt{3} \operatorname{arctg} \frac{2u-1}{\sqrt{3}}$, kde $u = \sqrt[3]{\frac{1-x}{1+x}}$, $x \in (-\infty, -1)$ nebo $x \in (-1, 0)$ nebo $x \in (1, +\infty)$ 12. $\frac{2}{x-\sqrt{x^2+2x+2}} - \log(\sqrt{x^2+2x+2} - x - 1)$, $x \in \mathbb{R}$ 13. $\frac{1}{2}(x-1)\sqrt{x^2-2x-1} - \log|x-1 + \sqrt{x^2-2x-1}|$, $x \in (-\infty, 1 - \sqrt{2})$ nebo $x \in (1 + \sqrt{2}, +\infty)$ 14. $\log \frac{t^2-4t+6}{t^2+2} + \frac{1}{\sqrt{2}} \operatorname{arctg} \frac{t}{\sqrt{2}} - \frac{1}{\sqrt{2}} \operatorname{arctg} \frac{t-2}{\sqrt{2}}$, kde $t = \sqrt{x^2+2x+4} - x$, $x \in \mathbb{R}$ 15. $x \log^2 x - 2x \log x + 2x$, $x \in (0, +\infty)$ 16. (a) Pro $0 < \alpha < 1$: $F(x) = \frac{2}{\sqrt{1-\alpha^2}} \operatorname{arctg} \left(\sqrt{\frac{1-\alpha}{1+\alpha}} \operatorname{tg} \frac{x}{2} \right) + \frac{2\pi}{\sqrt{1-\alpha^2}} \left[\frac{x+\pi}{2\pi} \right]$, $x \neq (2n+1)\pi$, $F((2n+1)\pi) = \lim_{x \rightarrow (2n+1)\pi} F(x)$ Pro $\alpha > 1$: $F(x) = \frac{1}{\sqrt{\alpha^2-1}} \log \left| \frac{\operatorname{tg} \frac{x}{2} + \sqrt{\frac{\alpha+1}{\alpha-1}}}{\operatorname{tg} \frac{x}{2} - \sqrt{\frac{\alpha+1}{\alpha-1}}} \right|$, $x \in (-\arccos(-\frac{1}{\alpha}), \arccos(-\frac{1}{\alpha})) + 2k\pi$ nebo $x \in (\arccos(-\frac{1}{\alpha}), 2\pi - \arccos(-\frac{1}{\alpha})) + 2k\pi$, přičemž v bodě $(2k+1)\pi$ je funkce F vždy dodefinována 0 Pro $\alpha = 1$: $\operatorname{tg} \frac{x}{2}$, $x \in (-\pi, \pi) + 2k\pi$, $k \in \mathbb{Z}$. (b) Pro $0 < \alpha < 1$: $G(x) = \frac{1}{1-\alpha^2} \left(F(x) - \frac{\alpha \sin x}{1+\alpha \cos x} \right)$, $x \in \mathbb{R}$. Pro $\alpha = 1$: $\frac{1}{2} \operatorname{tg} \frac{x}{2} + \frac{1}{6} \operatorname{tg}^3 \frac{x}{2}$, $x \in (-\pi, \pi) + 2k\pi$, $k \in \mathbb{Z}$. Pro $\alpha > 1$: $G(x) = -(\alpha^2-1)^{-\frac{3}{2}} \log \left| \frac{\operatorname{tg} \frac{x}{2} + \sqrt{\frac{\alpha+1}{\alpha-1}}}{\operatorname{tg} \frac{x}{2} - \sqrt{\frac{\alpha+1}{\alpha-1}}} \right| - \frac{\alpha}{(\alpha+1)(\alpha-1)^2} \left(\frac{1}{\operatorname{tg} \frac{x}{2} + \sqrt{\frac{\alpha+1}{\alpha-1}}} + \frac{1}{\operatorname{tg} \frac{x}{2} - \sqrt{\frac{\alpha+1}{\alpha-1}}} \right)$, $x \in (-\arccos(-\frac{1}{\alpha}), \arccos(-\frac{1}{\alpha})) + 2k\pi$, nebo $x \in (\arccos(-\frac{1}{\alpha}), 2\pi - \arccos(-\frac{1}{\alpha})) + 2k\pi$ 17. $\frac{1}{6} \arctan(2x+\sqrt{3}) + \frac{1}{6} \arctan(2x-\sqrt{3}) + \frac{1}{3} \arctan x - \frac{\sqrt{3}}{12} \log(x^2 - \sqrt{3}x + 1) + \frac{\sqrt{3}}{12} \log(x^2 + \sqrt{3}x + 1)$, $x \in \mathbb{R}$ 18. $a + 2b + 3c = 0$