

I. SPOČTĚTE NÁSLEDUJÍCÍ LIMITY (POMOCÍ L'HOSPITALOVA PRAVIDLA ČI JINAK):

1. $\lim_{x \rightarrow 0} \frac{\cosh x - \cos x}{x^2}$ 2. $\lim_{x \rightarrow 0} \frac{\operatorname{tg} x - x}{x - \sin x}$ 3. $\lim_{x \rightarrow 0} \frac{3 \operatorname{tg} 4x - 12 \operatorname{tg} x}{3 \sin 4x - 12 \sin x}$ 4. $\lim_{x \rightarrow \frac{\pi}{4}} \frac{x \operatorname{cotg} x - 1}{x^2}$ 5. $\lim_{x \rightarrow \frac{\pi}{4}} \frac{\sqrt[3]{\operatorname{tg} x - 1}}{2 \sin^2 x - 1}$
6. $\lim_{x \rightarrow 0} \frac{x(e^x + 1) - 2(e^x - 1)}{x^3}$ 7. $\lim_{x \rightarrow 0} \frac{a^x - a^{\sin x}}{x^3}$ 8. $\lim_{x \rightarrow 1} \frac{x^x - x}{\ln x - x + 1}$ 9. $\lim_{x \rightarrow 0} \frac{\cos(\sin x) - \cos x}{x^4}$
10. $\lim_{x \rightarrow a} \left(\frac{\operatorname{tg} x}{\operatorname{tg} a} \right)^{\operatorname{cotg}(x-a)}$ 11. $\lim_{x \rightarrow 0^+} \frac{1}{x\sqrt{x}} \left(\sqrt{a} \operatorname{arctg} \sqrt{\frac{x}{a}} - \sqrt{b} \operatorname{arctg} \sqrt{\frac{x}{b}} \right), a > 0, b > 0$
12. $\lim_{x \rightarrow a} \frac{a^x - x^a}{x - a}, a > 0$ 13. $\lim_{x \rightarrow +\infty} \left((x+a)^{1+\frac{1}{x}} - x^{1+\frac{1}{x+a}} \right)$
14. $\lim_{x \rightarrow +\infty} \left(\sqrt[3]{x^3 + x^2 + x + 1} - \sqrt{x^2 + x + 1} \frac{\ln(e^x + x)}{x} \right)$

VÝSLEDKY A NÁVODY. 1. 1 (Lze i bez l'Hospitalova pravidla. $\cosh x = \frac{e^x + e^{-x}}{2}$.) 2. 2 3. -2 4. $4 \frac{\pi-4}{\pi^2}$ (dosazením, l'Hospitalovo pravidlo není třeba, a navíc ho použít nelze) 5. $\frac{1}{3}$ (Lze i elementárně - pomocí rozšíření a převedení na limitu v 0.) 6. $\frac{1}{6}$ 7. $\frac{1}{6} \log a, a > 0$ 8. -2
 9. $\frac{1}{6}$ 10. $\exp\left(\frac{1}{\sin a \cos a}\right), a \neq \frac{\pi}{2} + k\pi, k \in \mathbb{Z}$ (není třeba l'Hospitalovo pravidlo, pokud známe vzoreček pro $\operatorname{tg}(x-y)$) 11. $\frac{a-b}{3ab}$ 12. $a^a(\log a - 1)$ 13. a (Vytkněte vhodný člen a alespoň zpočátku používejte elementární metody výpočtu limit.) 14. $-\frac{1}{6}$ (l'Hospitalovo pravidlo není třeba. Ukažte nejprve, že lze vynechat zlomek $\frac{\ln(e^x + x)}{x}$, a pak spočtete pomocí vhodného rozšíření.)

II. SPOČTĚTE NÁSLEDUJÍCÍ LIMITY POMOCÍ TAYLOROVA VZORCE

1. $\lim_{x \rightarrow 0} \frac{\cos x - e^{-\frac{x^2}{2}}}{x^4}$ 2. $\lim_{x \rightarrow 0} \frac{e^x \sin x - x(1+x)}{x^3}$ 3. $\lim_{x \rightarrow +\infty} \left(\sqrt[6]{x^6 + x^5} - \sqrt[6]{x^6 - x^5} \right)$
4. $\lim_{x \rightarrow +\infty} x^{\frac{3}{2}} \left(\sqrt{x+1} + \sqrt{x-1} - 2\sqrt{x} \right)$ 5. $\lim_{x \rightarrow 0} \frac{a^x + a^{-x} - 2}{x^2} (a > 0)$ 6. $\lim_{x \rightarrow 0} \left(\frac{1}{x} - \frac{1}{\sin x} \right)$
7. $\lim_{x \rightarrow +\infty} \left(x - x^2 \ln \left(1 + \frac{1}{x} \right) \right)$ 8. $\lim_{x \rightarrow 0} \frac{1}{x} \left(\frac{1}{x} - \frac{\cos x}{\sin x} \right)$ 9. $\lim_{x \rightarrow +\infty} \left(\left(x^3 - x^2 + \frac{x}{2} \right) e^{\frac{1}{x}} - \sqrt{x^6 + 1} \right)$
10. Najděte $n \in \mathbb{N}$, aby limita a) $\lim_{x \rightarrow 0} \frac{\operatorname{tg}(\sin x) - \sin(\operatorname{tg} x)}{x^n}$, b) $\lim_{x \rightarrow 0} \frac{(1+x)^x - 1}{x^n}$ c) $\lim_{x \rightarrow 0} \frac{\cos x - \cos(\operatorname{tg} x)}{x^n}$,
 d) $\lim_{x \rightarrow 0} \frac{e - (1+x)^{\frac{1}{x}}}{x^n}$ byla konečná a různá od 0, a spočtete tuto limitu.
11. Najděte $a, b \in \mathbb{R}$, aby $\lim_{x \rightarrow 0} \frac{x - (a+b \cos x) \sin x}{x^4} = 0$.
12. Najděte $a, b \in \mathbb{R}$, aby $\lim_{x \rightarrow 0} \frac{x - a \sin x - b \operatorname{tg} x}{x^4} = 0$ a spočtete $\lim_{x \rightarrow 0} \frac{x - a \sin x - b \operatorname{tg} x}{x^5}$.

VÝSLEDKY A NÁVODY. 1. $-\frac{1}{12}$ 2. $\frac{1}{3}$ 3. $\frac{1}{3}$ (lze i elementárně, pomocí vhodného rozšíření)
 4. $-\frac{1}{4}$ (lze i elementárně, pomocí dvojího vhodného rozšíření, takový postup je početně náročnější)
 5. $\log^2 a$ 6. 0 7. $\frac{1}{2}$ 8. $\frac{1}{3}$ 9. $\frac{1}{6}$ 10. (a) $n = 7$, limita je $\frac{1}{30}$; (b) $n = 2$, limita je 1; (c) $n = 4$, limita je $\frac{1}{3}$; (d) $n = 1$, limita je $\frac{e}{2}$. 11. $a = \frac{4}{3}, b = -\frac{1}{3}$ 12. $a = \frac{2}{3}, b = \frac{1}{3}$, limita vyjde $-\frac{1}{20}$

III. VYJÁDRĚTE PRIMITIVNÍ FUNKCE POMOCÍ ELEMENTÁRNÍCH FUNKCÍ

NA MAXIMÁLNÍCH INTERVALECH EXISTENCE

1. $\int x^3 + 2x + \frac{17}{x} dx$ 2. $\int 18e^x + 16e^{8x} - \frac{1}{x} + 3 \cos x dx$ 3. $\int \sqrt[3]{1-3x} dx$ 4. $\int \frac{(1-x)^3}{x\sqrt{x}} dx$
5. $\int \frac{x^2}{(1-x)^{100}} dx$ 6. $\int \sin^7 x \cos x dx$ 7. $\int x e^{-x^2} dx$ 8. $\int \operatorname{tg} x dx$ 9. $\int \operatorname{cotg} x dx$
10. $\int \sqrt{x^6} dx$ 11. $\int |\cos x| dx$ 12. $\int \arcsin \sin \frac{4x}{x^2+1} dx$ 13. $\int \frac{2^{x+1} - 5^{x-1}}{10^x} dx$ 14. $\int \frac{e^{3x} + 1}{e^x + 1} dx$
15. $\int \operatorname{tg}^2 x dx$ 16. $\int \operatorname{cotg}^2 x dx$ 17. $\int \frac{dx}{2+3x^2}$ 18. $\int \sin^2 x dx$ 19. $\int \cos^4 x dx$ 20. $\int \frac{x^2 dx}{\cos^2(x^3)}$
21. $\int \frac{x}{1+4x^2} dx$ 22. $\int \frac{x}{1+x^4} dx$ 23. $\int \frac{dx}{x \log x \log \log x}$ 24. $\int \frac{dx}{\sin x}$ 25. $\int \frac{dx}{\cos x}$ 26. $\int x e^x dx$
27. $\int \log x dx$ 28. $\int \operatorname{arctg} x dx$ 29. $\int \frac{\sin x}{e^x} dx$ 30. $\int e^{ax} \cos bx dx, a, b \in \mathbb{R}$ 31. $\int x^\alpha \log x dx$
32. $\int x^3 \log^2 x dx$ 33. $\int e^{\sqrt{x}} dx$ 34. $\int \log(x + \sqrt{x^2 + 1}) dx$

VÝSLEDKY A NÁVODY. Výsledky jsou uvedeny „až na konstantu“.

1. $\frac{1}{4}x^4 + x^2 + 16 \log|x|$ na $(-\infty, 0)$ a na $(0, \infty)$ 2. $18e^x + 2e^{8x} - \log|x| + 3 \sin x$ na $(-\infty, 0)$ a na $(0, \infty)$ 3. $-\frac{1}{4}(1 - 3x)^{\frac{4}{3}}$, na \mathbb{R} 4. $-\frac{3}{\sqrt[3]{x}} - \frac{9}{2}\sqrt[3]{x^2} + \frac{9}{5}x^{\frac{5}{3}} - \frac{3}{8}x^{\frac{8}{3}}$ na $(-\infty, 0)$ a na $(0, \infty)$ 5. $\frac{1}{99(1-x)^{99}} - \frac{1}{49(1-x)^{98}} + \frac{1}{97(1-x)^{97}}$, na $(-\infty, 1)$ a na $(1, \infty)$ 6. $\frac{1}{8} \sin^8 x$ na \mathbb{R} 7. $-\frac{1}{2}e^{-x^2}$ na \mathbb{R} 8. $-\log|\cos x|$ na každém z intervalů $(-\frac{\pi}{2} + k\pi, \frac{\pi}{2} + k\pi)$, $k \in \mathbb{Z}$ 9. $\log|\sin x|$ na každém z intervalů $(k\pi, (k+1)\pi)$, $k \in \mathbb{Z}$ 10. $\frac{1}{4}|x| \cdot x^3$, na \mathbb{R} 11. $\sin(x - \pi \cdot [\frac{x}{\pi} + \frac{1}{2}]) + 2 \cdot [\frac{x}{\pi} + \frac{1}{2}]$, na \mathbb{R} 12. $F(x) = \begin{cases} 2 \log(1+x^2) + \pi(x_2 - x_1) + 4 \log \frac{x_1}{x_2} & x \in [-\infty, -x_2] \\ -\pi(x+x_1) - 2 \log(1+x^2) + 4 \log(\frac{4}{\pi}x_1) & x \in [-x_2, -x_1] \\ 2 \log(1+x^2) & x \in [-x_1, x_1] \\ \pi(x-x_1) - 2 \log(1+x^2) + 4 \log(\frac{4}{\pi}x_1) & x \in [x_1, x_2] \\ 2 \log(1+x^2) + \pi(x_2 - x_1) + 4 \log \frac{x_1}{x_2} & x \in [x_2, \infty] \end{cases}$ a $\begin{cases} x_1 = \frac{4-\sqrt{16-\pi^2}}{\pi} \\ x_2 = \frac{4+\sqrt{16-\pi^2}}{\pi} \end{cases}$, na \mathbb{R} 13. $\frac{-10 \cdot 5^{-x} \log 2 + 2^{-x} \log 5}{5 \log 5 \log 2}$, na \mathbb{R} 14. $\frac{1}{2}e^{2x} - e^x + x$, na \mathbb{R} 15. $\operatorname{tg} x - x$, na každém z intervalů $(-\frac{\pi}{2} + k\pi, \frac{\pi}{2} + k\pi)$, $k \in \mathbb{Z}$ 16. $-\operatorname{cotg} x - x$, na každém z intervalů $(k\pi, (k+1)\pi)$, $k \in \mathbb{Z}$ 17. $\frac{1}{\sqrt{6}} \operatorname{arctg} \frac{x\sqrt{6}}{2}$, na \mathbb{R} 18. $\frac{x}{2} - \frac{1}{4} \sin 2x$, na \mathbb{R} 19. $\frac{3}{8}x + \frac{3}{8} \sin x \cos x + \frac{1}{4} \sin x \cos^3 x$, na \mathbb{R} 20. $\frac{1}{3} \operatorname{tg}(x^3)$, na každém z intervalů $(\sqrt[3]{-\frac{\pi}{2} + k\pi}, \sqrt[3]{\frac{\pi}{2} + k\pi})$, $k \in \mathbb{Z}$ 21. $\frac{1}{8} \log(1+4x^2)$, na \mathbb{R} 22. $\frac{1}{2} \operatorname{arctg}(x^2)$, na \mathbb{R} 23. $\log|\log \log x|$, na $(1, e)$ a na (e, ∞) 24. $\log|\operatorname{tg} \frac{x}{2}|$, na každém z intervalů $(k\pi, (k+1)\pi)$, $k \in \mathbb{Z}$ 25. $-\log|\operatorname{tg}(\frac{\pi}{4} - \frac{x}{2})|$, na každém z intervalů $(-\frac{\pi}{2} + k\pi, \frac{\pi}{2} + k\pi)$, $k \in \mathbb{Z}$ 26. $(x-1)e^x$ na \mathbb{R} 27. $x \log x - x$ na $(0, \infty)$ 28. $x \operatorname{arctg} x - \frac{1}{2} \log(1+x^2)$ na \mathbb{R} 29. $-\frac{1}{2}e^{-x} \cdot (\sin x + \cos x)$, na \mathbb{R} 30. $\frac{e^{ax}}{a^2+b^2} \cdot (a \cos bx + b \sin bx)$ na \mathbb{R} , pokud $a^2 + b^2 \neq 0$; x na \mathbb{R} , pokud $a = b = 0$ 31. $\frac{x^{1+\alpha}}{1+\alpha} \cdot (\log x - \frac{1}{1+\alpha})$, na $(0, \infty)$ pro $\alpha \neq -1$; $\frac{1}{2} \ln^2 x$, na $(0, \infty)$ pro $\alpha = -1$ 32. $\frac{1}{4}x^4 \ln^2 x - \frac{1}{8}x^4 \ln x + \frac{1}{32}x^4$, na $(0, \infty)$ 33. $2e^{\sqrt{x}} \cdot (\sqrt{x} - 1)$, na $(0, \infty)$ 34. $x \log(x + \sqrt{x^2+1}) - \sqrt{x^2+1}$, na \mathbb{R}

IV. SPOČTEJTE PRIMITIVNÍ FUNKCE

1. $\int \frac{x^{17}-5}{x-1} dx$ 2. $\int \frac{x^{17}-5}{x^2-1} dx$ 3. $\int \frac{x^3+1}{x^3-5x^2+6x} dx$ 4. $\int \frac{x}{x^3-1} dx$ 5. $\int \frac{dx}{x^4+1}$
6. $\int \frac{dx}{(x^2+1)^2}$ pomocí $x = \operatorname{tg} y$ 7. $\int \frac{x^8+x-1}{x^6+1} dx$ 8. $\int \frac{dx}{(x^2+3x+4)^2}$
9. Pro jaký vztah mezi parametry $a, b, c \in \mathbb{R}$ je primitivní funkce k funkci f racionální, je-li $f(x) = \frac{ax^2+bx+c}{x^3(x-1)^2}$? 10. $\int \frac{x dx}{\sqrt{x+1} + \sqrt[3]{x+1}}$ 11. $\int \sqrt{\frac{1-x}{1+x}} \frac{dx}{x}$ 12. $\int \sqrt[3]{\frac{1-x}{1+x}} \frac{dx}{x}$ 13. $\int \frac{dx}{(4+x^2)\sqrt{4-x^2}}$
14. $\int \frac{1-\sqrt{x+1}}{1-\sqrt[3]{x+1}} dx$ 15. $\int \frac{\sqrt{x+1}-\sqrt{x-1}}{\sqrt{x+1}+\sqrt{x-1}} dx$ 16. $\int \frac{\exp x}{\exp x+1} dx$ 17. $\int \frac{e^{2x}}{1+e^x} dx$ 18. $\int \frac{dx}{1+\sqrt{x^2+2x+2}}$
19. $\int \sqrt{x^2-2x-1} dx$ 20. $\int \frac{(2x+3) dx}{(x^2+2x+3)\sqrt{x^2+2x+4}}$ 21. $\int \frac{dx}{\sqrt{x^2+1}}$ 22. $\int \sqrt{x^2-1} dx$
23. $\int \sqrt{1-x^2} dx$ 24. $\int \frac{\sin x \cos x}{1+\sin^4 x} dx$ 25. $\int \frac{\sin^2 x}{\sin x+2 \cos x} dx$ 26. $\int \frac{dx}{2 \sin x - \cos x + 5}$
27. $\int \frac{dx}{(\sin^2 x + 2 \cos^2 x)^2}$ 28. $\int \frac{dx}{(2+\cos x) \sin x}$ 29. $\int \frac{\sin^2 x}{1+\sin^2 x} dx$ 30. $\int \frac{\sin x \cos x}{\sin x + \cos x} dx$
31. $\int \frac{\sin x}{\sin^3 x + \cos^3 x} dx$ 32. $\int \frac{dx}{\sin^4 x + \cos^4 x}$ 33. $\int \frac{dx}{1+\varepsilon \cos x}$, $\varepsilon > 0$ 34. $\int \frac{dx}{a^2 \sin^2 x + b^2 \cos^2 x}$, $a, b \in \mathbb{R}$

- VÝSLEDKY A NÁVODY. 1. $\left(\sum_1^{17} \frac{x^k}{k}\right) - 4 \log|x-1|$, $x \in (-\infty, 1)$ nebo $x \in (1, +\infty)$ 2. $\left(\sum_1^8 \frac{1}{2k} x^{2k}\right) - 2 \log|x-1| + 3 \log|x+1|$, $x \in (-\infty, -1)$ nebo $x \in (-1, 1)$ nebo $x \in (1, +\infty)$
3. $x + \frac{1}{6} \log|x| - \frac{9}{2} \log|x-2| + \frac{28}{3} \log|x-3|$, $x \in (-\infty, 0)$ nebo $x \in (0, 2)$ nebo $x \in (2, 3)$ nebo $x \in (3, +\infty)$ 4. $\frac{1}{6} \log \frac{(x-1)^2}{x^2+x+1} + \frac{\sqrt{3}}{3} \operatorname{arctg} \frac{2x+1}{\sqrt{3}}$, $x \in (-\infty, 1)$ nebo $x \in (1, +\infty)$ 5. $\frac{\sqrt{2}}{8} \log \frac{x^2+x\sqrt{2}+1}{x^2-x\sqrt{2}+1} + \frac{\sqrt{2}}{4} \operatorname{arctg}(x\sqrt{2}+1) + \frac{\sqrt{2}}{4} \operatorname{arctg}(x\sqrt{2}-1)$ 6. $\frac{x}{2(x^2+1)} + \frac{1}{2} \operatorname{arctg} x$ 7. $\frac{1}{3} x^3 + \frac{1}{6} \log(1+x^2) + \frac{\sqrt{3}-1}{2} \log(x^2-x\sqrt{3}+1) - \frac{\sqrt{3}+1}{2} \log(x^2+x\sqrt{3}+1) - \frac{3-\sqrt{3}}{6} \operatorname{arctg}(2x-\sqrt{3}) - \frac{3+\sqrt{3}}{6} \operatorname{arctg}(2x+\sqrt{3})$
8. $\frac{1}{7} \cdot \frac{2x+3}{x^2+3x+4} + \frac{4\sqrt{7}}{49} \operatorname{arctg} \frac{2x+3}{\sqrt{7}}$ 9. $a + 2b + 3c = 0$ 10. $6\left(\frac{1}{9}u^{(3/2)} - \frac{1}{8}u^{(4/3)} + \frac{1}{7}u^{(7/6)} - \frac{1}{6}u + \frac{1}{5}u^{(5/6)} - \frac{1}{4}u^{(2/3)}\right)$, kde $u = x + 1$, $x \in (-1, +\infty)$ 11. $\log \left| \frac{\sqrt{1+x}-\sqrt{1-x}}{\sqrt{1+x}+\sqrt{1-x}} \right| + 2 \operatorname{arctg} \sqrt{\frac{1-x}{1+x}}$, $x \in (-1, 1)$ 12. $\log \frac{|u^2-1|}{\sqrt{u^4+u^2+1}} - \sqrt{3} \operatorname{arctg} \frac{2u+1}{\sqrt{3}} + \sqrt{3} \operatorname{arctg} \frac{2u-1}{\sqrt{3}}$, kde $u = \sqrt[3]{\frac{1-x}{1+x}}$, $x \in (-\infty, -1)$ nebo $x \in (-1, 0)$ nebo $x \in (1, +\infty)$ 13. $t = \sqrt{\frac{2-x}{2+x}}$ 14. $t = \sqrt[6]{x+1}$ 15. $t = \sqrt{\frac{x-1}{x+1}}$ 16. $\log(e^x + 1)$, $x \in \mathbb{R}$ 17. $e^x - \log(1 + e^x)$ 18. $\frac{2}{x - \sqrt{x^2+2x+2}} - \log(\sqrt{x^2+2x+2} - x - 1)$, $x \in \mathbb{R}$
19. $\frac{1}{2}(x-1)\sqrt{x^2-2x-1} - \log|x-1 + \sqrt{x^2-2x-1}|$, $x \in (-\infty, 1 - \sqrt{2})$ nebo $x \in (1 + \sqrt{2}, +\infty)$ 20. $\log \frac{t^2-4t+6}{t^2+2} + \frac{1}{\sqrt{2}} \operatorname{arctg} \frac{t}{\sqrt{2}} - \frac{1}{\sqrt{2}} \operatorname{arctg} \frac{t-2}{\sqrt{2}}$, kde $t = \sqrt{x^2+2x+4} - x$, $x \in \mathbb{R}$ 21. $\operatorname{argsinh} x = \log(x + \sqrt{x^2+1})$ na \mathbb{R} 22. $\frac{1}{2}x\sqrt{x^2-1} - \frac{1}{2} \log|x + \sqrt{x^2-1}|$ na $(-\infty, -1)$ a na $(1, +\infty)$ 23. $\frac{x}{2}\sqrt{1-x^2} + \frac{1}{2} \arcsin x$ na $(-1, 1)$ 24. $\frac{1}{2} \operatorname{arctg} \sin^2 x$ 25. a 26. substituce $y = \operatorname{tg} \frac{x}{2}$ 27. substituce $y = \operatorname{tg} x$ 28. substituce $y = \cos x$ 29. substituce $y = \operatorname{tg} x$ 30. substituce $y = \operatorname{tg} \frac{x}{2}$ 31. a 32. substituce $y = \operatorname{tg} x$ 33. substituce $y = \operatorname{tg} \frac{x}{2}$ 34. substituce $y = \operatorname{tg} x$

V. VYPOČTĚTE NÁSLEDUJÍCÍ INTEGRÁLY

1. $\int_0^2 |1-x| dx$ 2. $\int_{-1}^1 \frac{dx}{x^2-2x \cos \alpha + 1}$, $\alpha \in (0, \pi)$ 3. $\int_0^{2\pi} \frac{dx}{1+\varepsilon \cos x}$, $\varepsilon \in [0, 1)$ 4. $\int_{-1}^1 \frac{dx}{\sqrt{(1-2ax+a^2)(1-2bx+b^2)}}$, $|a| < 1$, $|b| < 1$, $ab > 0$ 5. $\int_0^{\frac{\pi}{2}} \frac{dx}{a^2 \sin^2 x + b^2 \cos^2 x}$, $ab \neq 0$ 6. $\int_0^{100\pi} \sqrt{1 - \cos 2x} dx$ 7. $\int_0^{\log 2} x e^{-x} dx$
8. $\int_0^{2\pi} x^2 \cos x dx$ 9. $\int_{\frac{1}{e}}^e |\log x| dx$ 10. $\int_0^{\sqrt{3}} x \operatorname{arctg} x dx$ 11. $\int_0^{\log 2} \sqrt{e^x - 1} dx$ 12. $\int_0^a x^2 \sqrt{a^2 - x^2} dx$
13. $\int_0^1 \frac{\arcsin \sqrt{x}}{\sqrt{x(1-x)}} dx$ 14. $\int_{-1}^1 \frac{x dx}{x^2+x+1}$ 15. $\int_1^e (x \log x)^2 dx$ 16. $\int_0^1 x^{15} \sqrt{1+3x^8} dx$ 17. $\int_0^{2\pi} \frac{dx}{(2+\cos x)(3+\cos x)}$
18. $\int_0^{2\pi} \frac{dx}{\sin^4 x + \cos^4 x}$ 19. $\int_0^{\pi} e^x \cos^2 x dx$ 20. $\int_0^{\frac{\pi}{2}} \sin^{2m} x \cos^{2n} x dx$ 21. $\int_0^{\pi} \frac{\sin nx}{\sin x}$ 22. $\int_0^{\pi} \cos^n x \cos nx$

- VÝSLEDKY A NÁVODY. 1. 1 2. $\frac{\pi}{2 \sin \alpha}$ 3. $\frac{2\pi}{\sqrt{1-\varepsilon^2}}$, substituce $t = \operatorname{cotg} \frac{x}{2}$ 4. $-\frac{1}{a} \log \frac{1-a}{1+a}$ pokud $a = b$, $\frac{1}{\sqrt{ab}} \log \frac{1+\sqrt{ab}}{1-\sqrt{ab}}$ pro $a \neq b$ (např. substituce $y = 1-x$ a $t = \sqrt{\frac{(1-b)^2+2by}{(1-a)^2+2ay}}$) 5. $\frac{\pi}{2|ab|}$ (např. $t = \operatorname{tg} x$) 6. $200\sqrt{2}$ 7. $\frac{1-\log 2}{2}$ 8. 4π 9. $2 - \frac{2}{e}$ 10. $\frac{2}{3}\pi - \frac{\sqrt{3}}{2}$ 11. $2 - \frac{\pi}{2}$ 12. $\frac{1}{16}\pi a^4$ 13. $\frac{\pi^2}{4}$ 14. $\frac{1}{2} \log 3 - \frac{\sqrt{3}}{6}\pi$ 15. $\frac{5e^3-2}{27}$ 16. $\frac{1+\sqrt{2}}{30}$ 17. $\frac{\pi}{6}(4\sqrt{3} - 3\sqrt{2})$, substituce $t = \operatorname{cotg} \frac{x}{2}$ 18. $2\pi\sqrt{2}$, např. substituce $t = \operatorname{tg} x$ na $(0, \frac{\pi}{2})$ 19. $\frac{3}{5}(e^\pi - 1)$ 20. Vyjádřete \sin a \cos pomocí exponenciely (i v dalších příkladech). 21. π pro n liché, 0 pro n sudé 22. $\frac{\pi}{2^n}$

1. Spočítejte (s využitím Taylorova rozvoje):

$$(17 \text{ bodů}) \quad \lim_{x \rightarrow +\infty} x^2 \left(\frac{\left(1 + \frac{1}{x}\right)^x}{e} - 1 + \frac{1}{2} \log \left(1 + \frac{1}{x}\right) \right)$$

Řešení. Pro $x \rightarrow +\infty$ platí:

$$(1) \quad \log \left(1 + \frac{1}{x}\right) = \frac{1}{x} - \frac{1}{2x^2} + o\left(\frac{1}{x^2}\right).$$

Rozviňme v Taylorův polynom i první člen v závorce:

$$\begin{aligned} \frac{\left(1 + \frac{1}{x}\right)^x}{e} &= \frac{1}{e} \cdot \exp \left(x \log \left(1 + \frac{1}{x}\right) \right) = \frac{1}{e} \cdot \exp \left(1 - \frac{1}{2x} + \frac{1}{3x^2} + o\left(\frac{1}{x^2}\right) \right) \\ &= \exp \left(-\frac{1}{2x} + \frac{1}{3x^2} + o\left(\frac{1}{x^2}\right) \right) \\ &= 1 + \left(-\frac{1}{2x} + \frac{1}{3x^2} + o\left(\frac{1}{x^2}\right) \right) + \frac{\left(-\frac{1}{2x} + \frac{1}{3x^2} + o\left(\frac{1}{x^2}\right) \right)^2}{2} + o\left(\frac{1}{x^2}\right) \\ (2) \quad &= 1 - \frac{1}{2x} + \frac{1}{3x^2} + \frac{1}{8x^2} + o\left(\frac{1}{x^2}\right) = 1 - \frac{1}{2x} + \frac{11}{24x^2} + o\left(\frac{1}{x^2}\right) \end{aligned}$$

Dáme-li dohromady (1) a (2), pak výraz v závorce (v zadání) vyjádříme jako

$$1 - \frac{1}{2x} + \frac{11}{24x^2} - 1 + \frac{1}{2} \cdot \left(\frac{1}{x} - \frac{1}{2x^2} + o\left(\frac{1}{x^2}\right) \right) + o\left(\frac{1}{x^2}\right) = \frac{5}{24x^2} + o\left(\frac{1}{x^2}\right),$$

hledaná limita je tedy $\frac{5}{24}$.

2. Spočítejte primitivní funkci

$$(13 \text{ bodů}) \quad \int \frac{x^3 - 8}{x^2 + 2x + 65} dx$$

3. Na maximálních intervalech existence vyjádřete následující primitivní funkci pomocí elementárních funkcí. Pokud používáte nějakou větu o substituci, podrobně vysvětlete její použití.

$$\int x \sin \sqrt{x^2 + 7} dx$$

Výpočet ... 10 bodů, zdůvodnění ... 10 bodů.

1. Spočítejte (s využitím Taylorova rozvoje):

$$(17 \text{ bodů}) \quad \lim_{x \rightarrow 0} \frac{1}{x^2} \left(\frac{(1+x)^{\frac{1}{x}}}{e} - 1 + \frac{1}{2} \log(1+x) \right)$$

2. Spočítejte primitivní funkci

$$(13 \text{ bodů}) \quad \int \frac{x^3 + 1}{x^2 - 2x + 37} dx$$

3. Na maximálních intervalech existence vyjádřete následující primitivní funkci pomocí elementárních funkcí. Pokud používáte nějakou větu o substituci, podrobně vysvětlete její použití.

$$\int (x+1) \cos \sqrt{x^2 + 2x + 27} dx$$

Výpočet ... 10 bodů, zdůvodnění ... 10 bodů.

Řešení. Integrand je funkce spojitá na \mathbb{R} , a tedy má primitivní funkci na \mathbb{R} . Nejprve integrál zjednodušíme pomocí první substituční metody. Všimněme si, že integrand je ve tvaru $f(\varphi(x)) \cdot \varphi'(x)$, kde $\varphi(x) = x^2 + 2x + 27$ a $f(y) = \frac{1}{2} \cos \sqrt{y}$. Funkce φ je spojitá a kladná na \mathbb{R} , má všude na \mathbb{R} vlastní derivaci ($\varphi'(x) = 2x + 2$), f je spojitá na $(0, +\infty)$. Podle první substituční metody tedy náš integrál převedeme na integrál

$$(*) \quad \int \frac{1}{2} \cos \sqrt{y} dy.$$

Nyní použijme druhou substituční metodu, provedme substituci „ $y = z^2$ “. Funkce $\psi(z) = z^2$ je spojitá a má vlastní nenulovou derivaci $\psi'(z) = 2z$ na intervalu $(0, +\infty)$ a zobrazuje tento interval na interval $(0, +\infty)$. Podle druhé substituční metody můžeme tedy počítat integrál

$$\int \frac{1}{2} \cos \sqrt{z^2} \cdot 2z dz$$

na intervalu $(0, +\infty)$. Na tomto intervalu je $\sqrt{z^2} = z$, a tedy můžeme počítat (s využitím metody per partes)

$$\int \frac{1}{2} \cos \sqrt{z^2} \cdot 2z dz = \int z \cos z dz = z \sin z - \int \sin z dz = z \sin z + \cos z + C$$

na $(0, +\infty)$. Nyní dosazením $\psi^{-1}(y) = \sqrt{y}$ za z dostaneme (podle druhé substituční metody), že integrál (*) se rovná

$$\sqrt{y} \sin \sqrt{y} + \cos \sqrt{y} + C, \quad y \in (0, +\infty).$$

Nakonec za y dosadíme $\varphi(x) = x^2 + 2x + 27$ a podle první substituční metody dostaneme, že integrál ze zadání se rovná

$$\sqrt{x^2 + 2x + 27} \sin \sqrt{x^2 + 2x + 27} + \cos \sqrt{x^2 + 2x + 27} + C, \quad x \in \mathbb{R}.$$

1. Spočtěte (s využitím Taylorova rozvoje):

(17 bodů)
$$\lim_{x \rightarrow 0} \frac{(1+x)^x + \cos(x\sqrt{2}) - 2}{x^3}$$

2. Spočtěte primitivní funkci

(13 bodů)
$$\int \frac{x^3 - 31}{x^2 - 2x + 26} dx$$

Řešení. Integrand je racionální funkce, jmenovatel je kvadratický trojčlen bez reálných kořenů, čitatel má stupeň 3. Nejprve tedy vydělíme polynomy:

$$\frac{x^3 - 31}{x^2 - 2x + 26} = x + \frac{2x^2 - 26x - 31}{x^2 - 2x + 26} = x + 2 + \frac{-22x - 83}{x^2 - 2x + 26}$$

Primitivní funkce k funkci $x + 2$ je například $\frac{1}{2}x^2 + 2x$, zintegrujme tedy zbylý zlomek. Platí

$$\frac{-22x - 83}{x^2 - 2x + 26} = \frac{-11(2x - 2)}{x^2 - 2x + 26} + \frac{-105}{x^2 - 2x + 26},$$

příčemž

$$\int \frac{-11(2x - 2)}{x^2 - 2x + 26} dx = -11 \log(x^2 - 2x + 26) + C$$

a

$$\int \frac{-105}{x^2 - 2x + 26} dx = -105 \int \frac{dx}{(x-1)^2 + 25} = -\frac{105}{25} \int \frac{dx}{\left(\frac{x-1}{5}\right)^2 + 1} = -21 \operatorname{arctg} \frac{x-1}{5} + C;$$

tedy hledaná primitivní funkce je $\frac{1}{2}x^2 + 2x - 11 \log(x^2 - 2x + 26) - 21 \operatorname{arctg} \frac{x-1}{5} + C$ na \mathbb{R} .

3. Na maximálních intervalech existence vyjádřete následující primitivní funkci pomocí elementárních funkcí. Pokud používáte nějakou větu o substituci, podrobně vysvětlete její použití.

$$\int x^3 \operatorname{arctg} \sqrt{x^4 + 7} dx$$

Výpočet ... 10 bodů, zdůvodnění ... 10 bodů.

- Nalezněte maximální řešení rovnice $y' = y$ procházející bodem $(0, 1)$.
- Pro diferenciální rovnici $yy' + xy^2 = x$ nalezněte
 - všechna maximální řešení,
 - maximální řešení procházející bodem $(1, 0)$.
- Pro diferenciální rovnici $y' = \frac{y^2}{x^2}$ nalezněte
 - všechna maximální řešení,
 - maximální řešení procházející bodem $(1, \frac{1}{2})$,
 - všechna maximální řešení, která jsou na svém definičním oboru omezená.
- Pro diferenciální rovnici $y' = -\frac{(1+y^2)x}{1+x^2}$ nalezněte
 - všechna maximální řešení,
 - maximální řešení procházející bodem $(0, 1)$.
- Nalezněte řešení rovnice $y' = \sqrt[5]{y^2}$, které splňuje $y(-2) = -\frac{3}{5}$ a $y(0) = 1$.
- Nalezněte všechna maximální řešení rovnice $y' = \frac{\cos x}{e^y}$. Určete množinu všech bodů v \mathbb{R}^2 , kterými prochází právě jedno řešení definované na celém \mathbb{R} .
- Řešte rovnici $y'(2 - e^x) = -3e^x \tan y \cos^2 y$. Pro která A existuje řešení s vlastností

$$\lim_{x \rightarrow +\infty} y(x) - \lim_{x \rightarrow -\infty} y(x) = A?$$

NAJDĚTE VŠECHNA MAXIMÁLNÍ ŘEŠENÍ NÁSLEDUJÍCÍCH ROVNIC

- $yy' = \frac{1-2x}{y}$
- $xy' + y = y^2$
- $y' = 10^{x+y}$
- $e^{-y}(1 + y') = 1$
- $y' + \sqrt{\frac{1-y^2}{1-x^2}} = 0, x \in (-1, 1)$ (*na zbylých intervalech)
- $y' \sin x = y \ln y, y(\frac{\pi}{2}) = 1$
- $y' = \frac{1+y^2}{1+x^2}, y(0) = 1$
- $y - xy' = b(1 + x^2 y'), y(1) = 1 (b \in \mathbb{R})$

VÝSLEDKY A NÁVODY. **1.** $y(x) = e^x, x \in \mathbb{R}$. **2.** (a) singulární řešení $y_0^1 = 1$ na $\mathbb{R}, y_0^2 = -1$ na $\mathbb{R}; y_1^1(x) = \operatorname{sgn} x \cdot \sqrt{1 - e^{-x^2}}$ na $\mathbb{R}, y_1^2(x) = -\operatorname{sgn} x \cdot \sqrt{1 - e^{-x^2}}$ na $\mathbb{R}; y_c^1(x) = \sqrt{1 - ce^{-x^2}}, x \in (\sqrt{\log c}, +\infty), y_c^2(x) = -\sqrt{1 - ce^{-x^2}}, x \in (\sqrt{\log c}, +\infty), y_c^3(x) = \sqrt{1 - ce^{-x^2}}, x \in (-\infty, -\sqrt{\log c}), y_c^4(x) = -\sqrt{1 - ce^{-x^2}}, x \in (-\infty, -\sqrt{\log c})$ pro $c > 1; y_c^1(x) = \sqrt{1 - ce^{-x^2}}$ na \mathbb{R} a $y_c^2(x) = -\sqrt{1 - ce^{-x^2}}$ na \mathbb{R} pro $c < 0$ a $c \in (0, 1)$. (b) Takové řešení neexistuje. **3.** (a) $y_0^1 = 0$ na $(0, +\infty), y_0^1 = 0$ na $(-\infty, 0)$; další řešení dána vzorečkem $y_c^j(x) = \frac{x}{1-cx}, c \in \mathbb{R} \setminus \{0\}, j = 1, 2, 3$ definována na intervalech: pro $c > 0$ y_c^1 na $(-\infty, 0), y_c^2$ na $(0, \frac{1}{c}), y_c^3$ na $(\frac{1}{c}, +\infty)$; pro $c < 0$ y_c^1 na $(-\infty, \frac{1}{c}), y_c^2$ na $(\frac{1}{c}, 0), y_c^3$ na $(0, +\infty)$. (b) $y_{-1}^3(x) = \frac{x}{1+x}, x \in (0, \infty)$. (c) Omezená jsou y_0^1, y_0^2, y_c^1 pro $c > 0, y_c^3$ pro $c < 0$. **4.** (a) $y_c^1(x) = \operatorname{tg}(c - \frac{1}{2} \log(1 + x^2)), x \in (\sqrt{\exp(-\pi + 2c) - 1}, \sqrt{\exp(\pi + 2c) - 1}), y_c^2(x) = \operatorname{tg}(c - \frac{1}{2} \log(1 + x^2)), x \in (-\sqrt{\exp(\pi + 2c) - 1}, -\sqrt{\exp(-\pi + 2c) - 1})$ pro $c \geq \frac{\pi}{2}; y_c(x) = \operatorname{tg}(c - \frac{1}{2} \log(1 + x^2)), x \in (-\sqrt{\exp(\pi + 2c) - 1}, \sqrt{\exp(\pi + 2c) - 1})$ pro $c \in (-\frac{\pi}{2}, \frac{\pi}{2})$. (b) $y_{\frac{\pi}{4}}(x) = \operatorname{tg}(\frac{\pi}{4} - \frac{1}{2} \log(1 + x^2)), x \in (-\sqrt{\exp(\frac{3}{2}\pi) - 1}, \sqrt{\exp(\frac{3}{2}\pi) - 1})$.

5. Takové řešení neexistuje. Všechna maximální řešení jsou: $y_s = 0$ na $\mathbb{R}; y_{s,c} = \begin{cases} 0 & x \in (-\infty, c] \\ (\frac{3}{5}(x-c))^{\frac{5}{3}} & x \in (c, +\infty) \end{cases}$ pro $c \in \mathbb{R}; y_{c,s} =$

$$\begin{cases} 0 & x \in (c, +\infty] \\ (\frac{3}{5}(x-c))^{\frac{5}{3}} & x \in (-\infty, c) \end{cases} \text{ pro } c \in \mathbb{R};$$

$$y_{c,d} = \begin{cases} (\frac{3}{5}(x-c))^{\frac{5}{3}} & x \in (-\infty, c) \\ 0 & x \in [c, d] \\ (\frac{3}{5}(x-d))^{\frac{5}{3}} & x \in (d, +\infty) \end{cases} \text{ pro } c, d \in \mathbb{R}, c \leq d.$$

6. $y_c = \log(\sin x + c), x \in \mathbb{R}, \text{ pro } c > 1;$

$y_c^k = \log(\sin x + c), x \in (2k\pi - \arcsin c, (2k+1)\pi + \arcsin c), k \in \mathbb{Z}, \text{ pro } c \in (-1, 1]; \{(x, y) \in \mathbb{R}^2 \mid y > \log(\sin x + 1) \text{ nebo } \sin x = -1\}$. **7.** $y_{a,b,k}(x) = \begin{cases} \operatorname{arctg}(a(e^x - 2)^3) + k\pi & x \in [\log 2, +\infty) \\ \operatorname{arctg}(b(e^x - 2)^3) + k\pi & x \in (-\infty, \log 2) \end{cases}$

pro $a, b \in \mathbb{R}$ a $k \in \mathbb{Z}$. Hledanou množinou je interval $(-\pi, \pi)$. **8.** $y_c = \sqrt[3]{3(x - x^2 + c)}, x \in \mathbb{R}, \text{ pro } c < -\frac{1}{4}; y_{-1/4}^{1,2} = -\sqrt[3]{3} \cdot (x - \frac{1}{2})^{\frac{2}{3}}, x \in (-\infty, \frac{1}{2}); \text{ nebo } x \in (\frac{1}{2}, \infty); y_c^{1,2,3} = \sqrt[3]{3(x - x^2 + c)}, x \in (-\infty, \frac{1}{2} - \frac{1}{2}\sqrt{1+4c}), \text{ nebo } x \in (\frac{1}{2} - \frac{1}{2}\sqrt{1+4c}, \frac{1}{2} + \frac{1}{2}\sqrt{1+4c}), \text{ nebo } x \in (\frac{1}{2} + \frac{1}{2}\sqrt{1+4c}, \infty), \text{ pro } c > -\frac{1}{4}$. **9.** $y_0 = 1, x \in \mathbb{R}; y_\infty = 0, x \in \mathbb{R}; y_c^{1,2} = \frac{1}{1-cx}, x \in (-\infty, \frac{1}{c}) \text{ nebo } x \in (\frac{1}{c}, \infty), \text{ pro } c \in \mathbb{R} \setminus \{0\}$. **10.** $y_c = -\log_{10}(c - 10^x), x \in (-\infty, \log_{10} c), \text{ pro } c > 0$. **11.** $y_\infty = 0, x \in \mathbb{R}; y_c^1 = -\log(1 + e^{x-c}), x \in \mathbb{R}, \text{ pro } c \in \mathbb{R}; y_c^2 = -\log(1 - e^{x-c}), x \in (-\infty, -c), \text{ pro } c \in \mathbb{R}$. **12.**

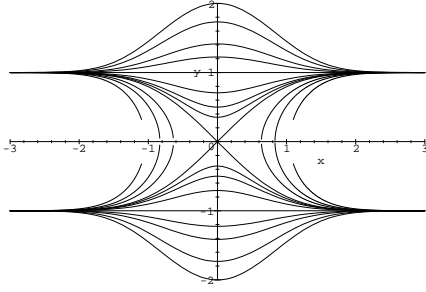
$$y_{-\frac{3}{2}\pi} = -1, x \in (-1, 1); y_{\frac{\pi}{2}} = 1, x \in (-1, 1); y_c = \begin{cases} x \cdot \sin c + \sqrt{1-x^2} \cdot \cos c & x \in (-1, -\sin c) \\ -1 & x \in [-\sin c, 1) \end{cases}$$

$$\text{pro } c \in (-\frac{3}{2}\pi, -\frac{\pi}{2}); y_c = \begin{cases} x \cdot \sin c + \sqrt{1-x^2} \cdot \cos c & x \in (\sin c, 1) \\ 1 & x \in [-1, \sin c) \end{cases}, \text{ pro } c \in (-\frac{\pi}{2}, \frac{\pi}{2}), y_{-\frac{\pi}{2}} = -x,$$

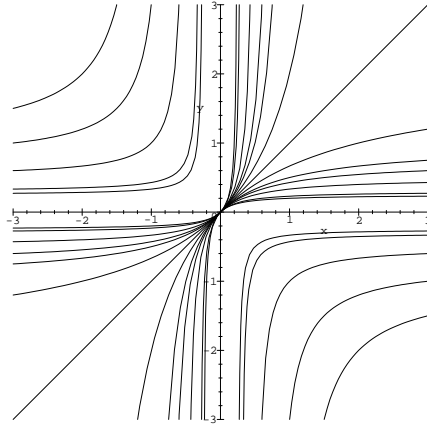
$x \in (-1, 1)$. **13.** $y_0 = 1, x \in \mathbb{R}; y_c^k = e^{c \operatorname{tg} \frac{x}{2}}, x \in ((2k-1)\pi, (2k+1)\pi), k \in \mathbb{Z}, \text{ pro } c \in \mathbb{R} \setminus \{0\}$.
 Řešení rovnice s počáteční podmínkou je y_0 . **14.** $y_0 = x, x \in \mathbb{R}; y_{\infty}^{1,2} = -\frac{1}{x}, x \in (-\infty, 0)$ nebo $x \in (0, \infty); y_c^{1,2} = \frac{x+c}{1-cx}, x \in (-\infty, \frac{1}{c})$ nebo $x \in (\frac{1}{c}, \infty)$. Řešení rovnice s počáteční podmínkou je y_1^1 .

15. Pro $b = 0$: $y_c = cx, x \in \mathbb{R}, \text{ pro } c \in \mathbb{R}$. Řešení rovnice s počáteční podmínkou je y_1 .
 Pro $b \neq 0$: $y_0 = b, x \in \mathbb{R}; y_c^{1,2} = b + \frac{cx}{1+bx}, x \in (-\infty, -\frac{1}{b})$ nebo $x \in (-\frac{1}{b}, \infty)$. Řešení rovnice s počáteční podmínkou je y_0 , pokud $b = 1$; neexistuje, pokud $b = -1$; $y_{\frac{1-b}{1+b}}^2$, pokud $b < -1$; $y_{\frac{1-b}{1+b}}^2$, pokud $b \in (-1, 1) \cup (1, \infty)$.

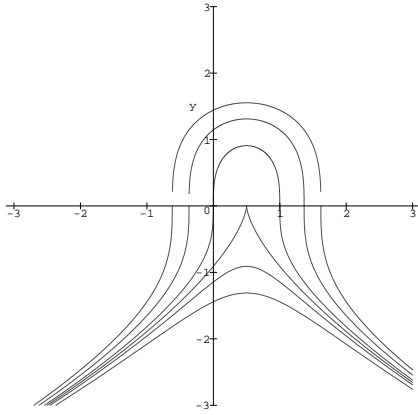
2.



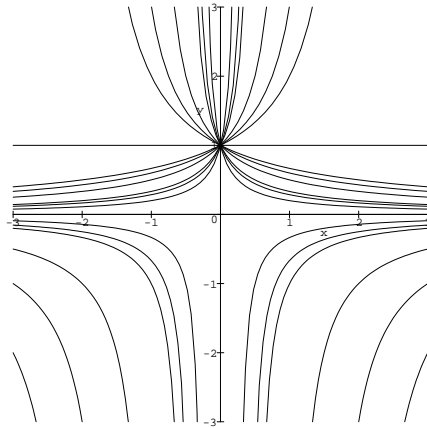
3.



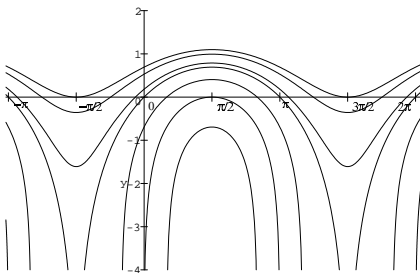
8.



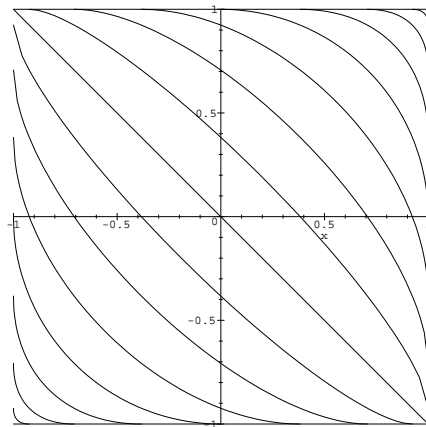
9.



6.



12.



VII. VYŠETŘETE KONVERGENCI NEWTONOVÝCH INTEGRÁLŮ

1. a) $\int_0^1 x^{\log x} dx$ b) $\int_0^1 x^{-\log x} dx$ 2. $\int_0^1 \frac{\sqrt{x}}{\sqrt{1-x^4}} dx$ 3. $\int_0^1 \frac{x^2 dx}{\sqrt[3]{(1-x^2)^5}}$ 4. $\int_0^1 \frac{dx}{e^{\sqrt{x}-1}}$
 5. $\int_0^1 \frac{\sqrt{x} dx}{e^{\sin x}-1}$ 6. $\int_0^1 \frac{dx}{e^x - \cos x}$ 7. $\int_0^{\frac{\pi}{2}} \frac{\log \sin x}{\sqrt{x}} dx$ 8. $\int_\alpha^\beta \frac{\arcsin^2(\sin x)}{\sin x} dx$ 9. $\int_0^{\frac{\pi}{2}} \frac{dx}{\sin^p x \cos^q x}$
 10. $\int_0^{\frac{\pi}{2}} \frac{dx}{\sin^q x (1-\sin x)^p}$ 11. $\int_1^\infty \frac{dx}{x^p \ln^q x}$ 12. $\int_2^\infty \frac{dx}{x^p \ln^q x}$ 13. $\int_e^\infty \frac{dx}{x^p (\ln x)^q (\ln \ln x)^r}$
 14. $\int_{e+1}^\infty \frac{dx}{x^p (\ln x)^q (\ln \ln x)^r}$ 15. $\int_0^\infty \frac{x^k}{1+x^t} dx$ 16. $\int_0^{\frac{\pi}{2}} \frac{1-\cos x}{x^m} dx$ 17. $\int_1^\infty x^k \frac{x-\sin x}{x+\sin x} dx$
 18. $\int_0^\infty x^\alpha \arctg^\beta x dx$ 19. $\int_0^{\frac{\pi}{2}} x^\alpha \left(\frac{\pi}{2} - x\right)^\beta \operatorname{tg}^\gamma x dx$

VÝSLEDKY A NÁVODY. 1. a) diverguje, b) konverguje 2. konverguje 3. diverguje 4. konverguje 5. konverguje 6. diverguje 7. konverguje 8. konverguje, pokud $\alpha, \beta \in \mathbb{R}$, diverguje, je-li jedno z α, β nekonečné 9. konverguje, pokud $p < 1$ a $q < 1$ 10. konverguje, pokud $q < 1$ a $p < \frac{1}{2}$ 11. konverguje, pokud $p > 1$ a $q < 1$ 12. konverguje, pokud $p > 1$ nebo $p = 1$ & $q > 1$ 13. konverguje, pokud $p > 1$ & $r < 1$ nebo $p = 1$ & $q > 1$ & $r < 1$ 14. konverguje, pokud $p > 1$ nebo $p = 1$ & $q > 1$ nebo $p = q = 1$ & $r > 1$ 15. konverguje, pokud $-1 < k < t - 1$ nebo $-1 > k > t - 1$ 16. konverguje, pokud $m < 3$ 17. konverguje, pokud $k < -1$ 18. konverguje, pokud $\alpha < -1 < \alpha + \beta$ 19. konverguje, pokud $\alpha + \gamma > -1$ a $\beta - \gamma > -1$

VIII. ZJISTĚTE, ZDA EXISTUJÍ LIMITY, A EXISTUJÍ-LI, SPOČTĚTE JE

1. $\lim_{\substack{x \rightarrow 0 \\ y \rightarrow 0}} \frac{x^2+y^2}{\sqrt{x^2+y^2+1}-1}$ 2. $\lim_{\substack{x \rightarrow 0 \\ y \rightarrow 0}} \frac{\sqrt{x^2y^2+1}-1}{x^2+y^2}$ 3. $\lim_{x \rightarrow 0} \frac{\sin(x^3+y^3)}{x^2+y^2}$ 4. $\lim_{\substack{x \rightarrow 0 \\ y \rightarrow 0}} \frac{1-\cos(x^2+y^2)}{(x^2+y^2)x^2y^2}$
 5. $\lim_{\substack{x \rightarrow 0 \\ y \rightarrow 0}} \frac{e^{-\frac{1}{x^2+y^2}}}{x^4+y^4}$ 6. $\lim_{\substack{x \rightarrow 0 \\ y \rightarrow 0}} (1+x^2y^2)^{\frac{1}{x^2+y^2}}$ 7. $\lim_{\substack{x \rightarrow 0 \\ y \rightarrow 0}} \frac{x^2y^2}{x^2y^2+(x-y)^2}$ 8. $\lim_{\substack{x \rightarrow 0 \\ y \rightarrow 0}} (x+y) \sin \frac{1}{x} \sin \frac{1}{y}$
 9. $\lim_{\substack{x \rightarrow 0 \\ y \rightarrow 3}} \frac{\sin xy}{x}$ 10. $\lim_{\substack{x \rightarrow 0 \\ y \rightarrow 0}} (x^2+y^2)x^2y^2$

LZE NÁSLEDUJÍCÍ FUNKCE SPOJITĚ ROZŠÍŘIT NA CELOU ROVINU ?

11. $\frac{x+y}{\sqrt{x^2+y^2}}$ 12. $\frac{xy}{\sqrt{x^2+y^2}}$ 13. $\frac{xy^2}{\sqrt{x^4+y^4}}$ 14. $\frac{\sin xy}{x}$

VÝSLEDKY A NÁVODY. 1. 2 2. 0 3. 0 4. Neexistuje – funkce není definovaná na prstencovém okolí bodu (0,0). Limita přes množinu $\{(x,y) : x \neq 0 \neq y\}$ je $+\infty$. 5. 0 6. 1 7. Neexistuje. 8. Neexistuje, protože funkce není definovaná na prstencovém okolí bodu (0,0). Limita přes množinu $\{(x,y) : x \neq 0 \neq y\}$ je 0. 9. Neexistuje, protože funkce není definovaná na prstencovém okolí bodu (0,3). Limita přes množinu $\{(x,y) : x \neq 0\}$ je 3. 10. 1 11. Ne. 12. Ano. $f(0,0) = 0$ 13. Ano. $f(0,0) = 0$ 14. Ano. $f(0,y) = y$

IX. ZKOUMEJTE EXISTENCI A HODNOTU PARCIÁLNÍCH DERIVACÍ A DIFERENCIÁLU

(EV. SPOJITĚ DODEFINOVANÉ, LZE-LI TO UDĚLAT) FUNKCE $f(x, y) =$

1. $\sqrt{x^2 + y^2}$ 2. $\sqrt[3]{x + y^2}$ 3. $\operatorname{arctg} \frac{x+y}{1-xy}$ 4. $\sqrt[3]{x^2 + y} \cdot \ln(x^2 + y^2)$ 5. $|x| \cdot |y|$ 6. $\sqrt[3]{xy}$

7. $\sqrt[3]{x^3 + y^3}$ 8. $(x^2 + y^2) \sin \frac{1}{x^2 + y^2}$ 9. $e^{\frac{-1}{x^2 + y^2 + xy}}$ 10. $\frac{x^2 y(|x| + |y|)}{x^4 + y^2}$

11. Nechť $f(x, y) = xy \frac{x^2 - y^2}{x^2 + y^2}$, $f(0, 0) = 0$. Spočítejte $\frac{\partial^2 f}{\partial x \partial y}(0, 0)$ a $\frac{\partial^2 f}{\partial y \partial x}(0, 0)$.

12. Spočítejte $\delta f((1, 1, 1), v)$, kde $v = \frac{(1, 1, 1)}{\sqrt{3}}$ a $f(x, y, z) = x^y + y^z$.

13. Nechť $f(s, t)$ je kladná funkce třídy \mathcal{C}^1 na \mathbb{R}^2 . Vyjádřete parciální derivace 1. řádu funkce g pomocí hodnot a derivací funkce f , pokud je (a) $g(x, y) = f(x, y)^{f(x, y)}$, b) $g(x, y) = f(x, y)^{f(y, x)}$.

14. Nechť f má diferenciál v bodě $(1, 1)$ a nechť $f(1, 1) = f'_1(1, 1) = 1$, $f'_2(1, 1) = 2$. Položme $g(t, u) = f(f(u, t), f(t, u))$. Spočítejte $\frac{\partial g}{\partial t}(1, 1)$.

15. Nechť $f(r, \varphi) = g(r \cos \varphi, r \sin \varphi)$, funkce g má diferenciál v bodě $(1, 1)$, $\frac{\partial f}{\partial r}(\sqrt{2}, \frac{\pi}{4}) = 0$, $\frac{\partial f}{\partial \varphi}(\sqrt{2}, \frac{\pi}{4}) = 4$. Spočítejte $g'_1(1, 1)$, $g'_2(1, 1)$.

16. Převedte do polárních souřadnic rovnici a) $x \cdot \frac{\partial u}{\partial y} + y \cdot \frac{\partial u}{\partial x} = 0$, b) $\frac{\partial^2 u}{\partial x^2} + \frac{\partial^2 u}{\partial y^2} = 0$.

*17. Převedte do sférických souřadnic rovnici $\frac{\partial^2 u}{\partial x^2} + \frac{\partial^2 u}{\partial y^2} + \frac{\partial^2 u}{\partial z^2} = 0$.

18. Transformujte do polárních souřadnic rovnici $\frac{dy}{dx} = \frac{x+y}{x-y}$ (t.j. napište odpovídající rovnici pro $r = r(\varphi)$).

VÝSLEDKY A NÁVODY. 1. Mimo $(0, 0)$ diferencovatelná, v $(0, 0)$ neexistují parciální derivace.

2. Diferencovatelná kromě bodů $(-y^2, y)$, $y \in \mathbb{R}$, v nich neexistují parciální derivace. 3. Diferencovatelná mimo body $(x, \frac{1}{x})$. V těchto bodech nelze spojitě dodefinovat. 4. V $(0, 0)$ spojitě dodefinovat 0. Mimo body $(x, -x^2)$ diferencovatelná. V $(x, -x^2)$ neexistují parciální derivace pokud $x^2 + x^4 \neq 1$, pokud $x^2 + x^4 = 1$, je tam diferenciál 0. 5. Pro $x \neq 0, y \neq 0$ diferencovatelná. $\frac{\partial f}{\partial x}(x, 0) = 0$, $\frac{\partial f}{\partial y}(0, y) = 0$; $\frac{\partial f}{\partial y}(x, 0)$ neexistuje pro $x \neq 0$, $\frac{\partial f}{\partial x}(0, y)$ neexistuje pro $y \neq 0$; v $(0, 0)$ je diferenciál 0. 6. Pro $x \neq 0, y \neq 0$ diferencovatelná. $\frac{\partial f}{\partial x}(x, 0) = 0$, $\frac{\partial f}{\partial y}(0, y) = 0$; $\frac{\partial f}{\partial y}(x, 0)$ neexistuje pro $x \neq 0$, $\frac{\partial f}{\partial x}(0, y)$ neexistuje pro $y \neq 0$; $\frac{\partial f}{\partial x}(0, 0) = \frac{\partial f}{\partial y}(0, 0) = 0$, ale diferenciál neexistuje. 7. Mimo body $(x, -x)$ diferencovatelná. V bodech $(x, -x)$, $x \neq 0$ neexistují parciální derivace. $\frac{\partial f}{\partial x}(0, 0) = \frac{\partial f}{\partial y}(0, 0) = 1$, ale diferenciál neexistuje. 8. V $(0, 0)$ dodefinovat 0, diferencovatelná všude (v $(0, 0)$ je diferenciál 0). 9. V $(0, 0)$ dodefinovat 0, diferencovatelná všude (v $(0, 0)$ je diferenciál 0). 10. V $(0, 0)$ dodefinovat 0. Mimo $(0, 0)$ diferencovatelná. $\frac{\partial f}{\partial x}(0, 0) = \frac{\partial f}{\partial y}(0, 0) = 0$, ale diferenciál neexistuje. 11. $\frac{\partial^2 f}{\partial x \partial y}(0, 0) = -1$, $\frac{\partial^2 f}{\partial y \partial x}(0, 0) = 1$

12. $\frac{2}{\sqrt{3}}$ 13. (a) $\frac{\partial g}{\partial x}(x, y) = f(x, y)^{f(x, y)} \cdot \frac{\partial f}{\partial t}(x, y) \cdot (\log f(x, y) + 1)$, $\frac{\partial g}{\partial y}(x, y) = f(x, y)^{f(x, y)} \cdot \frac{\partial f}{\partial s}(x, y) \cdot (\log f(x, y) + 1)$, (b) $\frac{\partial g}{\partial x}(x, y) = f(x, y)^{f(y, x)} \cdot \left(\frac{\partial f}{\partial s}(y, x) \log f(x, y) + \frac{\partial f}{\partial t}(x, y) \cdot \frac{f(y, x)}{f(x, y)} \right)$, $\frac{\partial g}{\partial y}(x, y) = f(x, y)^{f(y, x)} \cdot \left(\frac{\partial f}{\partial t}(y, x) \log f(x, y) + \frac{\partial f}{\partial s}(x, y) \cdot \frac{f(y, x)}{f(x, y)} \right)$

14. 4 15. $g'_1 = -2$, $g'_2 = 2$.

16. (a) $r \sin 2\varphi \frac{\partial u^*}{\partial r} + \cos 2\varphi \frac{\partial u^*}{\partial \varphi} = 0$ (b) $\frac{\partial^2 u^*}{\partial r^2} + \frac{1}{r^2} \frac{\partial^2 u^*}{\partial \varphi^2} + \frac{1}{r} \frac{\partial u^*}{\partial r} = 0$ 17. $\frac{\partial^2 u^*}{\partial r^2} + \frac{1}{r^2 \sin^2 \vartheta} \frac{\partial^2 u^*}{\partial \varphi^2} + \frac{1}{r^2} \frac{\partial^2 u^*}{\partial \vartheta^2} + \frac{2}{r} \frac{\partial u^*}{\partial r} + \frac{1}{r^2} \cot g \vartheta \frac{\partial u^*}{\partial \vartheta} = 0$ (příčemž $x = r \cos \varphi \sin \vartheta$, $y = r \sin \varphi \sin \vartheta$, $z = r \cos \vartheta$)

18. $\frac{dr}{d\varphi} = r$

X. V NÁSLEDUJÍCÍCH ÚLOHÁCH ZJISTĚTE SUP A INF FUNKCE NA MNOŽINĚ M A VYŠETŘETE,

ZDA TĚCHTO HODNOT FUNCE NA M NABÝVÁ.

1. $f(x, y, z) = (x + y)^2 + (x - y)^2 + z; M = [-1; 1] \times [-1; 1] \times [-1; 1];$
2. $f(x, y) = \frac{x}{a} + \frac{y}{b}, a > 0, b > 0; M = \{(x, y); x^2 + y^2 \leq 1\};$ 3. a) $f(x, y) = (x^2 + y^2) e^{-(x^2 + y^2)}$
b) $f(x, y) = (5x^2 + y^2) e^{-(x^2 + 3y^2)}; M = \mathbb{R}^2;$ 4. $f(x, y, z) = x^2 + y^2 + z^2 + 2x + 4y - 6z; M = \mathbb{R}^3;$
5. $f(x, y) = x^2 - xy + y^2, M = \{(x, y) \in \mathbb{R}^2; |x| + |y| \leq 1\}$
6. $f(x, y) = (x + y) e^{-2x - 3y}; M = \{(x, y); x > 0, y > 0\}$
7. $f(x, y, z) = x - 2y + 2z,$
a) $M = \{(x, y, z), x^2 + y^2 + z^2 = 1\},$ b) $M = \{(x, y, z), x^2 + y^2 + z^2 = 1, x + y + z = 0\}$
8. $f(x, y, z) = xyz, M$ jako v předchozím příkladu.
9. $f(x, y, z) = \sin x \sin y \sin z, M = \{(x, y, z); x + y + z = \frac{\pi}{2}, x > 0, y > 0, z > 0\}$
10. $f(x, y, z) = xy^2z^3, M = \{(x, y, z); x + 2y + 3z = a, x > 0, y > 0\},$ kde $a > 0.$
11. $f(x_1, \dots, x_n) = x_1^p + \dots + x_n^p; M = \{(x_1, \dots, x_n); x_1 + \dots + x_n = a, x_1 > 0, \dots, x_n > 0\};$
kde $a > 0, p > 0.$ 12. $f(x, y) = x + y, M = \{(x, y); x^3 + y^3 - 2xy = 0, x \geq 0, y \geq 0\}$
13. $f(x, y, z) = 10z + x - y, M = \{(x, y, z), x^2 + y^2 + z^2 \leq 1, y + x \geq 0\}$ 14. $f(x, y) = \frac{1}{x} + \frac{1}{y},$
 $M = \{(x, y), \frac{1}{x^2} + \frac{4}{y^2} = 1\}$ 15. $f(x, y) = y, M = \{(x, y), (x^2 + y^2)^2 = Kxy\},$ kde $K > 0$

VÝSLEDKY A NÁVODY. 1. max 5 v bodech $(1, 1, 1), (1, -1, 1), (-1, 1, 1), (-1, -1, 1),$ min -1 v bodě $(0, 0, -1)$ 2. max $\frac{\sqrt{a^2 + b^2}}{ab}$ v bodě $(\frac{b}{\sqrt{a^2 + b^2}}, \frac{a}{\sqrt{a^2 + b^2}}),$ min $-\frac{\sqrt{a^2 + b^2}}{ab}$ v bodě $(-\frac{b}{\sqrt{a^2 + b^2}}, -\frac{a}{\sqrt{a^2 + b^2}})$

3. (a) min 0 v $(0, 0),$ max $\frac{1}{e}$ v bodech kružnice $x^2 + y^2 = 1,$ (b) min 0 v $(0, 0),$ max $\frac{5}{e}$ v bodech $(\pm 1, 0).$ 4. sup $+\infty,$ min -14 v bodě $(-1, -2, 3)$ 5. max 1 v bodech $(\pm 1, 0), (0, \pm 1),$ min 0 v $(0, 0)$ 6. sup $\frac{1}{2e},$ nenabývá se, inf 0, nenabývá se. 7. a) max 3 v $(\frac{1}{3}, -\frac{2}{3}, \frac{2}{3}),$ min -3 v $(-\frac{1}{3}, \frac{2}{3}, -\frac{2}{3});$ b) max $\sqrt{\frac{26}{3}}$ v $(\frac{2}{\sqrt{78}}, -\frac{7}{\sqrt{78}}, \frac{5}{\sqrt{78}}),$ min $-\sqrt{\frac{26}{3}}$ v $(-\frac{2}{\sqrt{78}}, \frac{7}{\sqrt{78}}, -\frac{5}{\sqrt{78}});$ 8. a) max $\frac{1}{3\sqrt{3}}$ v bodech $(\frac{1}{\sqrt{3}}, \frac{1}{\sqrt{3}}, \frac{1}{\sqrt{3}}), (-\frac{1}{\sqrt{3}}, -\frac{1}{\sqrt{3}}, \frac{1}{\sqrt{3}}), (\frac{1}{\sqrt{3}}, -\frac{1}{\sqrt{3}}, -\frac{1}{\sqrt{3}}), (-\frac{1}{\sqrt{3}}, \frac{1}{\sqrt{3}}, -\frac{1}{\sqrt{3}});$ min $-\frac{1}{3\sqrt{3}}$ v bodech $(-\frac{1}{\sqrt{3}}, -\frac{1}{\sqrt{3}}, -\frac{1}{\sqrt{3}}),$
 $(-\frac{1}{\sqrt{3}}, \frac{1}{\sqrt{3}}, \frac{1}{\sqrt{3}}), (\frac{1}{\sqrt{3}}, -\frac{1}{\sqrt{3}}, \frac{1}{\sqrt{3}}), (\frac{1}{\sqrt{3}}, \frac{1}{\sqrt{3}}, -\frac{1}{\sqrt{3}});$ b) max $\frac{1}{3\sqrt{6}}$ v bodech $(\frac{2}{\sqrt{6}}, -\frac{1}{\sqrt{6}}, -\frac{1}{\sqrt{6}}),$
 $(-\frac{1}{\sqrt{6}}, \frac{2}{\sqrt{6}}, -\frac{1}{\sqrt{6}}), (-\frac{1}{\sqrt{6}}, -\frac{1}{\sqrt{6}}, \frac{2}{\sqrt{6}});$ min $-\frac{1}{3\sqrt{6}}$ v bodech $(-\frac{2}{\sqrt{6}}, \frac{1}{\sqrt{6}}, \frac{1}{\sqrt{6}}), (\frac{1}{\sqrt{6}}, -\frac{2}{\sqrt{6}}, \frac{1}{\sqrt{6}}), (\frac{1}{\sqrt{6}}, \frac{1}{\sqrt{6}}, -\frac{2}{\sqrt{6}});$

9. max $\frac{1}{8}$ v $(\frac{\pi}{6}, \frac{\pi}{6}, \frac{\pi}{6}),$ inf 0, nenabývá se 10. max $\frac{a^6}{6^6}$ v $(\frac{a}{6}, \frac{a}{6}, \frac{a}{6}),$ inf $-\infty$ 11. pro $p = 1$ je f na M konstantní; pro $p > 1$ je sup $a^p,$ nenabývá se, min $\frac{a^p}{n^{p-1}}$ v $(\frac{a}{n}, \dots, \frac{a}{n});$ pro $p \in (0, 1)$ je inf $a^p,$ nenabývá se, max $\frac{a^p}{n^{p-1}}$ v $(\frac{a}{n}, \dots, \frac{a}{n});$ 12. max 2 v $(1, 1),$ min 0 v $(0, 0)$ 13. max $\sqrt{102}$ v $(\frac{1}{\sqrt{102}}, -\frac{1}{\sqrt{102}}, \frac{10}{\sqrt{102}});$ min $-\sqrt{102}$ v $(-\frac{1}{\sqrt{102}}, \frac{1}{\sqrt{102}}, -\frac{10}{\sqrt{102}});$ 14. max $\frac{\sqrt{5}}{2}$ v $(\frac{\sqrt{5}}{2}, 2\sqrt{5});$
min $-\frac{\sqrt{5}}{2}$ v $(-\frac{\sqrt{5}}{2}, -2\sqrt{5});$ 15. max $\frac{1}{4}\sqrt{k} \cdot 15^{\frac{3}{4}}$ v $(\frac{1}{4}\sqrt{k} \sqrt[4]{15}, \frac{1}{4}\sqrt{k} \cdot 15^{\frac{3}{4}});$ min $-\frac{1}{4}\sqrt{k} \cdot 15^{\frac{3}{4}}$ v $(-\frac{1}{4}\sqrt{k} \sqrt[4]{15}, -\frac{1}{4}\sqrt{k} \cdot 15^{\frac{3}{4}}).$

1. Nechť $f(x, y) = \begin{cases} \frac{|x|^\alpha}{x^2+y^2} & x \neq 0 \\ 0 & x = 0, \end{cases}$ kde $\alpha \in \mathbb{R}$ je parametr.

a) Určete, pro která α je f spojitá na \mathbb{R}^2 . (8 bodů)

b) Spočítejte $\frac{\partial f}{\partial x}(0, 0)$ a $\frac{\partial f}{\partial y}(0, 0)$ pro všechna α , pro něž tyto derivace existují. (6 bodů)

c) Určete, pro která α má f v bodě $(0, 0)$ totální diferenciál. (7 bodů)

Řešení.

(a) Funkce f je zřejmě spojitá ve všech bodech mimo osu y . Stačí tedy zkoumat spojitost v bodech osy y . Pro $x \neq 0$ platí $f(x, 0) = |x|^{\alpha-2}$. Je-li f spojitá na \mathbb{R}^2 , je spojitá i v bodě $(0, 0)$, a tedy platí $\lim_{x \rightarrow 0} |x|^{\alpha-2} = 0$, což platí právě pro $\alpha > 2$. Tedy pro $\alpha \leq 2$ funkce f není spojitá. Nyní předpokládejme, že $\alpha > 2$. Pak pro $x \neq 0$ platí:

$$0 \leq f(x, y) = |x|^{\alpha-2} \cdot \frac{x^2}{x^2 + y^2} \leq |x|^{\alpha-2},$$

a tedy pro každé $y_0 \in \mathbb{R}$ platí

$$\lim_{\substack{x \rightarrow 0 \\ y \rightarrow y_0 \\ x \neq 0}} f(x, y) = 0,$$

a tedy i

$$\lim_{\substack{x \rightarrow 0 \\ y \rightarrow y_0}} f(x, y) = 0,$$

tudíž f je spojitá na \mathbb{R}^2 .

Závěr. Funkce f je spojitá na \mathbb{R}^2 , právě když $\alpha > 2$.

(b) Protože $f(0, y) = 0$, je $\frac{\partial f}{\partial y}(0, 0) = 0$ pro všechna $\alpha \in \mathbb{R}$. Derivaci dle x počítejme z definice:

$$\frac{\partial f}{\partial x}(0, 0) = \lim_{x \rightarrow 0} \frac{f(x, 0) - f(0, 0)}{x} = \lim_{x \rightarrow 0} \frac{|x|^{\alpha-2}}{x} = \lim_{x \rightarrow 0} |x|^{\alpha-3} \cdot \operatorname{sgn} x \begin{cases} = 0 & \alpha > 3 \\ \text{neexistuje} & \alpha \leq 3 \end{cases}$$

(c) Pro $\alpha \leq 3$ totální diferenciál neexistuje, protože neexistuje parciální derivace podle x . Předpokládejme tedy, že $\alpha > 3$. Pak jsou obě parciální derivace v bodě $(0, 0)$ nulové, a tedy totální diferenciál, existuje-li, musí být rovněž nulový. Zda nulové zobrazení je totálním diferenciálem, zjistíme z definice – uvažme limitu

$$\lim_{\substack{x \rightarrow 0 \\ y \rightarrow 0 \\ x \neq 0}} \frac{\frac{|x|^\alpha}{x^2+y^2}}{\sqrt{x^2+y^2}} = \lim_{\substack{x \rightarrow 0 \\ y \rightarrow 0 \\ x \neq 0}} \frac{|x|^\alpha}{(x^2+y^2)^{\frac{3}{2}}}.$$

Platí

$$0 \leq \frac{|x|^\alpha}{(x^2+y^2)^{\frac{3}{2}}} \leq |x|^{\alpha-3} \frac{|x|^3}{(x^2+y^2)^{\frac{3}{2}}} \leq |x|^{\alpha-3},$$

a protože $\alpha > 3$, je ona limita nulová, diferenciál tudíž existuje.

Závěr. Totální diferenciál existuje, právě když $\alpha > 3$ (a je pak nulový).

2. Nechť diferencovatelné funkce $r(x, y)$ a $\phi(x, y)$ splňují rovnice $x = e^{2r} \cos \phi$, $y = e^{5r} \sin \phi$. Spočítejte $\frac{\partial r}{\partial x}(1, 0)$ a $\frac{\partial \phi}{\partial x}(1, 0)$ (13 bodů)

3. Najděte minimum funkce $f(x, y) = x^2 - 2xy + \frac{1}{2}y^2$ na množině $M = \{(x, y) : |x| + |y| \leq 1\}$. (16 bodů)

1. Nechť $f(x, y) = \begin{cases} \frac{|y|^{-\alpha}}{x^2+y^2} & y \neq 0 \\ 0 & y = 0, \end{cases}$ kde $\alpha \in \mathbb{R}$ je parametr.

a) Určete, pro která α je f spojitá na \mathbb{R}^2 . (8 bodů)

b) Spočítejte $\frac{\partial f}{\partial x}(0, 0)$ a $\frac{\partial f}{\partial y}(0, 0)$ pro všechna α , pro něž tyto derivace existují. (6 bodů)

c) Určete, pro která α má f v bodě $(0, 0)$ totální diferenciál. (7 bodů)

2. Nechť diferencovatelné funkce $r(x, y)$ a $\phi(x, y)$ splňují rovnice $x = e^{6r} \cos \phi$, $y = e^{9r} \sin \phi$. Spočítejte $\frac{\partial r}{\partial x}(0, 1)$ a $\frac{\partial \phi}{\partial x}(0, 1)$ (13 bodů)

Řešení. Dosadíme-li do rovnic $x = 0$ a $y = 1$, dostaneme

$$0 = e^{6r(0,1)} \cos(\phi(0,1)) \quad \text{a} \quad 1 = e^{9r(0,1)} \sin(\phi(0,1)).$$

Dle první rovnosti je tedy $\cos(\phi(0,1)) = 0$, tudíž $\sin(\phi(0,1)) = \pm 1$. Z druhé rovnosti díky tomu, že $e^t > 0$ pro všechna t , plyne $\sin(\phi(0,1)) = 1$ a $r(0,1) = 0$. Zderivujme rovnice ze zadání podle x . Dostaneme

$$1 = 6e^{6r} \cdot \frac{\partial r}{\partial x} \cdot \cos \phi - e^{6r} \sin \phi \cdot \frac{\partial \phi}{\partial x} \quad \text{a} \quad 0 = 9e^{9r} \cdot \frac{\partial r}{\partial x} \cdot \sin \phi + e^{9r} \cos \phi \cdot \frac{\partial \phi}{\partial x}.$$

Dosadíme $x = 0$ a $y = 1$. Máme tedy

$$1 = -\frac{\partial \phi}{\partial x}(0,1) \quad \text{a} \quad 0 = 9\frac{\partial r}{\partial x}(0,1),$$

tudíž $\frac{\partial \phi}{\partial x}(0,1) = -1$ a $\frac{\partial r}{\partial x}(0,1) = 0$.

3. Najděte minimum funkce $f(x, y) = x^2 - 2xy - \frac{1}{2}y^2$ na množině $M = \{(x, y) : |x| + |y| \leq 1\}$. (16 bodů)

1. Nechť $f(x, y) = \begin{cases} \frac{|y|^\alpha}{x^4+y^4} & y \neq 0 \\ 0 & y = 0, \end{cases}$ kde $\alpha \in \mathbb{R}$ je parametr.

a) Určete, pro která α je f spojitá na \mathbb{R}^2 . (8 bodů)

b) Spočítejte $\frac{\partial f}{\partial x}(0, 0)$ a $\frac{\partial f}{\partial y}(0, 0)$ pro všechna α , pro něž tyto derivace existují. (6 bodů)

c) Určete, pro která α má f v bodě $(0, 0)$ totální diferenciál. (7 bodů)

2. Nechť diferencovatelné funkce $r(x, y)$ a $\phi(x, y)$ splňují rovnice $x = e^r \cos \phi$, $y = e^{13r} \sin \phi$. Spočítejte $\frac{\partial r}{\partial y}(0, -1)$ a $\frac{\partial \phi}{\partial y}(0, -1)$ (13 bodů)

3. Najděte maximum funkce $f(x, y) = 2x^2 - 10xy - 7y^2$ na množině $M = \{(x, y) : |x| + |y| \leq 2\}$. (16 bodů)

Řešení. Funkce f je spojitá, množina M kompaktní, a tedy maximum existuje. Pokud se nabývá uvnitř M , je v příslušném bodě lokální extrém, a tedy $\frac{\partial f}{\partial x} = \frac{\partial f}{\partial y} = 0$. Přitom

$$\frac{\partial f}{\partial x} = 4x - 10y, \quad \frac{\partial f}{\partial y} = -10x - 14y.$$

Obě parciální derivace jsou nulové jen v bodě $(0, 0)$ a $f(0, 0) = 0$.

Dále musíme vyšetřit hranici množiny M . Skládá se ze čtyř úseček. Vyšetřeme jednu po druhé.

(i) $x + y = 2$, $x \geq 0$, $y \geq 0$. Pak tedy $y = 2 - x$, na této úsečce má funkce tvar $f(x, 2 - x) = 5x^2 + 8x - 28$. Je-li extrém ve vnitřním bodě úsečky, pak derivace musí být nulová, neboli $10x + 8 = 0$, což na této úsečce nenastane.

(ii) $x - y = 2, x \geq 0, y \leq 0$. Pak $y = x - 2, f(x, x - 2) = -15x^2 + 48x - 28$, derivace je $-30x + 48$, nulová je pro $x = \frac{8}{5}$. Pak $y = -\frac{2}{5}$. Platí $f(\frac{8}{5}, -\frac{2}{5}) = \frac{52}{5}$.

(iii) $-x - y = 2, x \leq 0, y \leq 0$. Pak tedy $y = -2 - x$, na této úsečce má funkce tvar $f(x, 2 - x) = 5x^2 - 8x - 28$. Derivace je $10x - 8$, což na této úsečce nenabývá hodnoty 0.

(iv) $-x + y = 2, x \leq 0, y \geq 0$. Pak $y = x + 2, f(x, x + 2) = -15x^2 - 48x - 28$, derivace je $-30x - 48$, nulová je pro $x = -\frac{8}{5}$. Pak $y = \frac{2}{5}$. Platí $f(-\frac{8}{5}, \frac{2}{5}) = \frac{52}{5}$.

Nakonec zbývá vyšetřit krajní body uvažovaných úseček. Platí $f(2, 0) = f(-2, 0) = 8, f(0, 2) = f(0, -2) = -28$.

Největší hodnota je tedy $\frac{52}{5}$ a nabývá se ve dvou bodech $(-\frac{8}{5}, \frac{2}{5})$ a $(\frac{8}{5}, -\frac{2}{5})$.

XI. IMPLICITNÍ FUNKCE

1. Je dán vztah $e^{xy} + \sin y + y^2 = 1$ a bod $[2, 0]$:

a) Dokažte, že tímto vztahem je definována hladká funkce $y = f(x)$ v jistém okolí bodu 2, pro kterou platí $f(2) = 0$;

b) napište rovnici tečny ke grafu funkce f v bodě 2.

2. Je dán vztah $x^2 + 2y^2 + 3z^2 + xy - z - 9 = 0$ a bod $[1, -2, 1]$:

a) Dokažte, že tímto vztahem je definována hladká funkce $z = z(x, y)$ v jistém okolí U bodu $[1, -2]$, pro kterou platí $z(1, -2) = 1$;

b) určete $\frac{\partial z}{\partial x}, \frac{\partial z}{\partial y}$ v okolí U ;

c) napište rovnici tečné roviny ke grafu funkce $z = z(x, y)$ v bodě $[1, -2]$.

3. Je dán vztah $x^2 + 2xy^2 + y^4 - y^5 = 0$ a bod $[0, 1]$. Dokažte, že

a) tímto vztahem je definována hladká funkce $y = f(x)$ v jistém okolí bodu 0, pro kterou platí $f(0) = 1$; b) funkce f roste v jistém okolí bodu 0.

4. Dokažte, že množina bodů $(x, y, z) \in \mathbb{R}$, které splňují vztah

$$x^2 + y^2 + z^2 - 3xyz = 0$$

je v okolí bodu $(1, 1, 1)$ popsitelná jako graf funkce $f(x, y)$ definované na jistém okolí bodu $(1, 1)$, pro kterou je $f(1, 1) = 1$. Určete totální diferenciál v bodě $(1, 1)$ a napište rovnici tečné roviny ke grafu funkce f v tomto bodě.

5. Nechť x_0 je jednonásobný kořen rovnice $x^n + a_1x^{n-1} + \dots + a_n = 0$. Dokažte, že existují $\varepsilon > 0$ a $\delta > 0$ takové, že kdykoli $|b_i - a_i| < \delta$ pro $i = 1, \dots, n$, pak rovnice $x^n + b_1x^{n-1} + \dots + b_n = 0$ má v intervalu $(x_0 - \varepsilon, x_0 + \varepsilon)$ právě jeden kořen. Spočtěte $\frac{\partial x}{\partial a_i}(a_1, \dots, a_n)$.

6. Co se stane, bude-li v předchozím příkladě kořen x_0 p -násobný?

7. Dokažte, že existují funkce $u = u(x, y)$ a $v = v(x, y)$, pro které platí $u(1, 2) = v(1, 2) = 0$, a které na nějakém okolí bodu $(1, 2)$ splňují rovnice $xe^{u+v} + 2uv = 1, ye^{u-v} - \frac{u}{1+v} = 2x$ a jsou tam třídy C^1 . Spočtěte jejich diferenciál v bodě $(1, 2)$.

8. Dokažte, že existují funkce $z = z(x, y)$ a $t = t(x, y)$, pro které platí $z(1, -1) = 0$ a $t(1, -1) = 2$, a které na nějakém okolí bodu $(1, -1)$ splňují rovnice $x^2 + y^2 - \frac{1}{2}z^2 - t^3 = 0, x + y + z - t - 2 = 0$ a jsou tam třídy C^2 . Spočtěte druhý diferenciál funkce z v bodě $(1, -1)$.

9. Spočtěte $\frac{\partial^2 z}{\partial x \partial y}$ „v bodě $u = 2, v = 1$ “, jestliže $x = u + v^2, y = u^2 - v^3, z = 2uv$.

10. Najděte rovnici tečné roviny k ploše $e^{\frac{x}{y}} \cos \frac{y}{y} = \frac{x}{\sqrt{2}}, e^{\frac{x}{y}} \sin \frac{y}{y} = \frac{y}{\sqrt{2}}$ v bodě $(1, 1, 0, \frac{\pi}{4})$.

VÝSLEDKY A NÁVODY. 1. tečna: $y = 0$ 2. tečná rovina $z = \frac{7}{5}(y + 2) + 1$ 3. Spočtěte $f'(0)$ a ověřte, že $f'(0) > 0$. 4. tečná rovina $z = -(x - 1) - (y - 1) + 1$ 5. Označme

levou stranu $P(x)$. Využijte toho, že fakt, že x_0 je jednonásobný kořen P znamená $P(x_0) = 0$ a $P'(x_0) \neq 0$. $\frac{\partial x}{\partial a_i} = -\frac{x_0^{n-i}}{P'(x_0)}$. 6. Pro sudé p analogie neplatí, pro liché p zkoumejte $\sqrt[p]{P(x)}$.

7. $\frac{\partial u}{\partial x} = 0, \frac{\partial u}{\partial y} = -1, \frac{\partial v}{\partial x} = -1, \frac{\partial v}{\partial y} = 1$ 8. $\frac{\partial^2 z}{\partial x^2} = \frac{\partial^2 z}{\partial y^2} = \frac{1}{6}, \frac{\partial^2 z}{\partial x \partial y} = 0$. 9. $-\frac{1}{242}$ 10. $u = -\frac{1}{2}(x - 1) + \frac{1}{2}(y - 1), v - \frac{\pi}{4} = \frac{1}{2}(x - 1) + (\frac{\pi}{4} + \frac{1}{2})(y - 1)$